



คู่มือการสมัครเข้าศึกษา ปีการศึกษา ๒๕๖๖

ชั้นมัธยมศึกษาปีที่ ๑

ชั้นมัธยมศึกษาปีที่ ๔

โรงเรียนวินิตศึกษา ในพระราชูปถัมภ์ สมเด็จพระเทพรัตนราชสุดาฯ สยามบรมราชกุมารี





“ การศึกษาเล่าเรียนเป็นเรื่องที่ไม่มีสิ้นสุด ผู้ปรารถนา
ความเจริญในการประกอบกิจการงาน จะต้องหมั่นเอาใจใส่แสวงหาความรู้
ให้เพิ่มพูนอยู่เสมอ มิฉะนั้นจะกลายเป็นผู้ที่ล้าสมัยหย่อนสมรรถภาพไป ”

พระบรมราชาโชวาท

พระบาทสมเด็จพระบรมชนกาธิเบศร มหาภูมิพลอดุลยเดชมหาราช บรมนาถบพิตร



“ บัณฑิตพึงเป็นผู้ใฝ่รู้ใฝ่เรียนอยู่เสมอ ท่านทั้งหลายย่อมทราบดีอยู่แล้วว่า ปัจจุบันนี้วิทยาการก้าวหน้าไปอย่างรวดเร็ว การหยุดนิ่งอยู่กับที่ เท่ากับเป็นการถอยหลัง ผู้ที่ปรารถนาความเจริญก้าวหน้า จึงต้องขวนขวายแสวงหาความรู้เพิ่มเติมอยู่เสมอ และ ผู้ที่ใฝ่รู้ใฝ่เรียนอยู่เสมอเท่านั้นที่จะสามารถติดตามความเปลี่ยนแปลงของโลกได้ทัน ”

พระบรมราชาวาท

สมเด็จพระกนิษฐาธิราชเจ้า กรมสมเด็จพระเทพรัตนราชสุดาฯ สยามบรมราชกุมารี
องค์อุปถัมภ์โรงเรียนวินิตศึกษา ในพระราชูปถัมภ์



“ ศาสนากับการศึกษา เป็นเรื่องเดียวกัน คือ เป็นเครื่องพัฒนาชีวิต
เพื่อความเป็นมนุษย์ด้วยกัน

การศึกษา เป็นวิธียกระดับชีวิตคน

ศาสนา เป็นหลักการยกระดับชีวิตคน

เมื่อรวมเข้ากันเมื่อไร คนเปลี่ยนระดับชีวิตได้สำเร็จเมื่อนั้น ”

หลวงปู่พระพุทธรญาณ

ผู้ให้กำเนิดโรงเรียนวินิตศึกษา ในพระราชูปถัมภ์ฯ



“ เมื่อสำเร็จการศึกษาในระดับต่างๆ แล้ว สิ่งที่สำคัญคือ
การศึกษาในระดับที่สูงขึ้นไป สิ่งหนึ่งที่สำคัญกว่านั้นคือ
การพัฒนาตนเอง เราจะต้องทำสิ่งเหล่านี้ให้มากยิ่งขึ้น เจริญยิ่งขึ้นในชีวิตของเรา
ผลสุดท้ายชีวิตจะพบแต่สิ่งที่ดีๆ แน่นนอน ”

พระเทพเสนาบดี
เจ้าอาวาสวัดกวีศราราม ราชวรวิหาร
เจ้าคณะจังหวัดลพบุรี
ผู้รับใบอนุญาต / ผู้จัดการ / ผู้อำนวยการ

สารบัญ

	หน้า
ประวัติโรงเรียน	๒
สัญลักษณ์ของโรงเรียน	๔
นโยบายในการจัดการศึกษาของโรงเรียน	๕
คณะกรรมการบริหารโรงเรียน	๖
คณะผู้บริหารโรงเรียน	๖
โทรศัพท์ติดต่อโรงเรียน	๖
ข้อมูลโรงเรียน ปีการศึกษา ๒๕๖๕	๗
ติดตามผลนักเรียน ชั้นมัธยมศึกษาปีที่ ๖ ปีการศึกษา ๒๕๖๔	๘
กำหนดการรับนักเรียนชั้นมัธยมศึกษาปีที่ ๑	๑๑
ประกาศ การรับสมัครนักเรียนชั้นมัธยมศึกษาปีที่ ๑	
โครงการทุนพระพุทธรูปและรอบโควตา	๑๒
ประกาศ การรับสมัครนักเรียนชั้นมัธยมศึกษาปีที่ ๑	
ห้องเรียนพิเศษ สอน.(Textbook)	๑๕
ประกาศ การรับสมัครนักเรียนชั้นมัธยมศึกษาปีที่ ๑ รอบโครงการพิเศษ	๑๘
ประกาศ การรับสมัครนักเรียนชั้นมัธยมศึกษาปีที่ ๑ รอบทั่วไป	๒๑
กำหนดการรับนักเรียนชั้นมัธยมศึกษาปีที่ ๔	
ประกาศ การรับสมัครนักเรียนชั้นมัธยมศึกษาปีที่ ๔	
ห้องเรียนพิเศษ Textbook	๒๔
ประกาศ การรับสมัครนักเรียนชั้นมัธยมศึกษาปีที่ ๔ รอบโควตากลุ่มวิทย์	
ห้องเรียนพิเศษ Textbook	๒๗
โครงการเตรียมความรู้มุ่งสู่มหาวิทยาลัย (RTU)	๓๐
โครงการเตรียมความพร้อมทางวิชาการทหาร	

ประกาศ การรับสมัครนักเรียนชั้นมัธยมศึกษาปีที่ ๔

โครงการเตรียมความรู้มุ่งสู่มหาวิทยาลัย (RTU)

๓๓

โครงการเตรียมความพร้อมทางวิชาการทหาร

ตัวอย่างข้อสอบ



โรงเรียนวินิตศึกษา ในพระราชูปถัมภ์ สมเด็จพระเทพรัตนราชสุดาฯ สยามบรมราชกุมารี

สถานที่ตั้ง เลขที่ ๑๐ ถนนเพชรราชา ตำบลท่าหิน อำเภอเมืองลพบุรี จังหวัดลพบุรี ๑๕๐๐๐

โทร ๐-๓๖๔๑-๑๒๓๕ , ๐-๓๖๔๒-๑๐๘๘ โทรสาร ๐-๓๖๔๒-๑๐๘๘

Information : <http://winitsuksa.ws.ac.th> E-mail : winituksa@hotmail.com, itwinit@gmail.com

ประวัติ ๒๐ พฤษภาคม ๒๕๔๙ พระเดชพระคุณหลวงพ่อดุสิตพรหมญาณ (กิตติ กิตติ ทินโน ปช. ๘) อดีตเจ้าคณะจังหวัดลพบุรีกับคณะศิษย์ ๔ คน ได้จัดตั้งโรงเรียนวินิตศึกษาขึ้น โดยมีวัตถุประสงค์เพื่อให้เยาวชนได้รับการศึกษาควบคู่ไปกับการฝึกอบรมคุณธรรมตามหลักธรรมของพระพุทธศาสนาให้สามารถประกอบสัมมาอาชีพได้และดำรงตนอยู่ในสังคมด้วยคุณธรรมอันดี เปิดสอนตั้งแต่ชั้นมัธยมศึกษาปีที่ ๑ ถึงชั้นมัธยมศึกษาปีที่ ๓ มีนักเรียน ๑๒๐ คน ครู ๗ คน

- พ.ศ. ๒๕๔๒ กระทรวงศึกษาธิการรับรองวิทยฐานะเทียบเท่าโรงเรียนรัฐบาลและต่อมาได้ขยายถึงชั้นมัธยมศึกษาปีที่ ๖
- พ.ศ. ๒๕๔๓ ได้โอนเข้าเป็นสมบัติของกวีศรารามมูลนิธิ
- พ.ศ. ๒๕๓๐ ได้โอนเข้าเป็นของวัดกวีศราราม ราชวรวิหาร โรงเรียนวินิตศึกษาจึงมีฐานะเป็นโรงเรียนการกุศลของวัดในพระพุทธศาสนา
- ๒๐ พฤษภาคม ๒๕๓๔ สมเด็จพระเทพรัตนราชสุดาฯ สยามบรมราชกุมารี ทรงรับโรงเรียนวินิตศึกษาไว้ในพระราชูปถัมภ์
- พ.ศ. ๒๕๓๘ ได้รับรองมาตรฐานคุณภาพการศึกษา จากสำนักงานคณะกรรมการการศึกษา เอกชน กระทรวงศึกษาธิการ
- พ.ศ. ๒๕๓๙ โรงเรียนได้นำร่องทดลองจัดโครงการใช้สื่อการสอนเป็นภาษาอังกฤษ สอนบางรายวิชาเป็นภาษาอังกฤษ (Bilingual Programme)
- พ.ศ. ๒๕๔๐ โรงเรียนเป็นโรงเรียนเครือข่าย (Partner Schools) กับ Anderson Secondary School ซึ่งเป็นโรงเรียนที่มีชื่อเสียงอันดับ ๑ ใน ๕ ของประเทศสิงคโปร์
- พ.ศ. ๒๕๔๒ โรงเรียนลงนามข้อตกลงโรงเรียนที่โรงเรียนนอกร่วมกับประเทศออสเตรเลีย คือ โรงเรียน Pitt Water House
- พ.ศ. ๒๕๔๖ โรงเรียนเริ่มนำร่อง โครงการเตรียมความพร้อมวิชาการทหาร

- พ.ศ. ๒๕๔๗ โรงเรียนเริ่มนาร่อง โครงการส่งเสริมความเป็นอัจฉริยะด้านวิชาการ
ได้รับรางวัลชนะเลิศ ถ้วยพระราชทาน สมเด็จพระบรมโอรสาธิราชฯ
สยามมกุฎราชกุมาร ในการประกวดวงโยธวาทิต ประเภท ข แห่งประเทศไทย
- พ.ศ. ๒๕๔๗ ได้รับพระราชทานรางวัล ยอดเยี่ยมได้รับถ้วยรางวัลและเกียรติบัตร
จากสมเด็จพระเทพรัตนราชสุดาฯ สยามบรมราชกุมารี เป็นสถานศึกษาที่จัดกิจกรรม
ส่งเสริมการอ่านสู่การเรียนรู้ ด้านส่งเสริมนักเรียนสื่อสาร ภาษาไทย และภาษาอังกฤษ
ระดับมัธยมศึกษา
- พ.ศ. ๒๕๔๘ ได้รับการคัดเลือกจากกระทรวงศึกษาธิการให้เป็นสถานศึกษาที่ได้รับรางวัลพระราชทาน
ระดับมัธยมศึกษาขนาดใหญ่ ประจำปีการศึกษา ๒๕๔๘
- พ.ศ. ๒๕๕๐ โรงเรียนเริ่มนาร่อง โครงการส่งเสริมความเป็นอัจฉริยะด้านศิลปะการแสดงและ
ด้านกีฬา
- พ.ศ. ๒๕๕๒ ได้รับรางวัลชนะเลิศแชมป์ฤดูฝน ปีที่ ๕ จากรายการชิงช้าสวรรค์ ทางสถานีโทรทัศน์
ช่อง ๙
- พ.ศ. ๒๕๕๕ ได้รับการรับรองมาตรฐานการศึกษา รอบสาม (พ.ศ.๒๕๕๔-๒๕๕๘) จากสำนักงาน
รับรองมาตรฐานและประเมินคุณภาพการศึกษา (องค์การมหาชน) ระดับการศึกษาขั้น
พื้นฐานด้านมัธยมศึกษา
- พ.ศ. ๒๕๕๖ ได้รับรางวัลชนะเลิศถ้วยพระราชทาน พระบาทสมเด็จพระเจ้าอยู่หัวภูมิพลอดุลยเดช
“ภปร” จากการประกวดเพลงเทิดไท้คีตราชัน วงดนตรีลูกทุ่ง (คอมโบ้) จังหวัดบุรีรัมย์
- พ.ศ. ๒๕๕๗ ได้รับรางวัลชนะเลิศแชมป์ฤดูฝน ปีที่ ๙ จากรายการชิงช้าสวรรค์ ทางสถานีโทรทัศน์
ช่อง ๙
- พ.ศ. ๒๕๕๘ ได้รับรางวัลชนะเลิศถ้วยพระราชทาน สมเด็จพระเทพรัตนราชสุดาฯ สยามบรมราชกุมารี
แชมป์ออฟเดอะแชมป์ ปีที่ ๙ จากรายการชิงช้าสวรรค์
- พ.ศ. ๒๕๖๑ โครงการศูนย์การเรียนรู้ศาสตร์พระราชา ณ โรงเรียนวินิตศึกษา ในพระราชูปถัมภ์ฯ
(แห่งที่ ๒)
- พ.ศ. ๒๕๖๓ รางวัลชนะเลิศ เป็นตัวแทนภาคกลางเข้ารอบแข่งขันในรอบชิงชนะเลิศระดับประเทศ
โครงการ “ บทเพลงรักแห่งแผ่นดิน ปีที่ ๑๐ การประกวดวงดนตรีสากลร่วมสมัย
ชิงถ้วยรางวัลพระราชทาน
สมเด็จพระนางเจ้าสิริกิติ์ พระบรมราชินีนาถ พระบรมราชชนนี พันปีหลวง
- พ.ศ. ๒๕๖๓ จัดตั้งศูนย์วัดระดับวิชาการ และการเรียนระบบออนไลน์ ณ โรงเรียนวินิตศึกษา
ในพระราชูปถัมภ์ฯ (แห่งที่ ๒)

ปัจจุบัน โรงเรียนวินิตศึกษา ในพระราชูปถัมภ์ฯ เป็นโรงเรียนสหศึกษา เปิดสอนตั้งแต่ระดับชั้น
มัธยมศึกษาปีที่ ๑ ถึงระดับ ชั้นมัธยมศึกษาปีที่ ๖ มีครู – อาจารย์ ๒๐๗ คน นักเรียน ๔,๓๐๑ คน และ
ครูชาวต่างประเทศ ๖ คน ครู – อาจารย์ จากสถาบันภายนอก มาสอนในโรงเรียน ๒๗ คน พระภิกษุ ๕ รูป

สัญลักษณ์ของโรงเรียนวินิตศึกษา

วินิตศึกษา

หมายถึง การศึกษาที่ดำเนินตามรูปแบบ (รูปแบบ คือ วิชาการกับคุณธรรม)
หลวงพ่อบุญธรรมเป็นผู้ตั้งชื่อ

ปรัชญาประจำโรงเรียน

อพยายามุ สขุโลเก การช่วยกันเป็นสุขในโลก



ตราโรงเรียน ประกอบด้วย ๒ ตัว พันรอบพาน บนพานมีคัมภีร์ และมีดวงจันทร์เหนือคัมภีร์

อักษรย่อ ว.ศ. หมายถึง วินิตศึกษา

มงกุฏ หมายถึง อยู่ในพระราชูปถัมภ์สมเด็จพระเทพรัตนราชสุดาฯ สยามบรมราชกุมารี

งู หมายถึง ปีมะเส็ง ปีเกิดของหลวงพ่อบุญธรรมผู้ให้กำเนิดโรงเรียน

คัมภีร์ หมายถึง ตำรา , วิชาการต่าง ๆ

พานรองรับคัมภีร์ หมายถึง การศึกษา กับศาสนา

ดวงจันทร์ หมายถึง สติปัญญา

สัญลักษณ์รวมทั้งหมด หมายถึง การศึกษาที่อยู่กับศาสนา จึงทำให้เกิดสติปัญญาที่สมบูรณ์

ธงประจำโรงเรียน

เหลือง : แดง



สีเหลืองกับสีแดง

เป็นแถบยาวตามขอบธง

แถบสีเหลืองอยู่ตอนบน

แถบสีแดงอยู่ตอนล่าง

เหลือง

เป็นสีแสดงสัญลักษณ์ว่า ศาสนา

แดง

เป็นสีแสดงสัญลักษณ์ว่า ชาติ

เหลือง : แดง

ชาติต้องมีศาสนาเป็นเครื่องยึดเหนี่ยว

นโยบายในการจัดการศึกษาของโรงเรียน

โรงเรียนวินิตศึกษา ในพระราชูปถัมภ์ฯ มีนโยบายในการจัดการศึกษาแก่นักเรียน ดังต่อไปนี้

๑. ให้มีความรู้เชี่ยวชาญด้านวิชาการ สามารถที่จะศึกษาต่อในระดับสูงได้อย่างดี
๒. มีวินัย มีความกตัญญูกตเวที เป็นพุทธศาสนิกชนที่ดีและยึดมั่นใน หลักจริยธรรมของ พระพุทธศาสนาในการดำรงชีวิต
๓. ขยัน เป็นนักสู้และมีความมุ่งมั่นที่จะประกอบสัมมาชีพมั่นคง
๔. เป็นผู้มีความเสียสละเพื่อส่วนรวมและรับใช้สังคมด้วยความเต็มใจ

วิสัยทัศน์ของโรงเรียน

โรงเรียนวินิตศึกษา ในพระราชูปถัมภ์ฯ เป็นองค์กรแห่งการเรียนรู้ เชิดชูคุณธรรม นำวิชาการ
คุณภาพมาตรฐานสากล บนพื้นฐานความเป็นไทย

พันธกิจ

พันธกิจของโรงเรียนวินิตศึกษา ในพระราชูปถัมภ์ฯ มีดังต่อไปนี้

๑. ส่งเสริมระบบการบริหารจัดการให้เป็นองค์กรแห่งการเรียนรู้
๒. ส่งเสริมการใช้สื่อเทคโนโลยีและนวัตกรรมทางการศึกษา
๓. พัฒนาระบบประกันคุณภาพภายในให้เป็นไปตามมาตรฐานการศึกษาขั้นพื้นฐาน
๔. พัฒนาอาคารสถานที่และสภาพแวดล้อมให้มีบรรยากาศที่เอื้อต่อการจัดการศึกษา
๕. พัฒนาการจัดการเรียนรู้โดยยึดผู้เรียนเป็นสำคัญ
๖. พัฒนาผู้เรียนให้มีคุณธรรม จริยธรรม ความรับผิดชอบต่อสังคม และมีจิตสำนึกความเป็นไทย
ตามหลักปรัชญาของเศรษฐกิจพอเพียง
๗. ความเป็นเลิศทางวิชาการสู่มาตรฐานสากล

คุณลักษณะอันพึงประสงค์

หลักสูตรแกนกลางการศึกษาขั้นพื้นฐาน มุ่งพัฒนาผู้เรียนให้มีคุณลักษณะอันพึงประสงค์ เพื่อให้สามารถ
อยู่ร่วมกับผู้อื่นในสังคมได้อย่างมีความสุข ในฐานะเป็นพลเมืองไทย และพลเมืองโลก ดังนี้

- | | |
|---------------------------|-----------------------|
| ๑. รักชาติ ศาสน์ กษัตริย์ | ๖. มุ่งมั่นในการทำงาน |
| ๒. ซื่อสัตย์สุจริต | ๗. รักความเป็นไทย |
| ๓. มีวินัย | ๘. มีจิตสาธารณะ |
| ๔. ใฝ่เรียนรู้ | ๙. กตัญญูกตเวที |
| ๕. อยู่อย่างพอเพียง | |

คณะกรรมการบริหารโรงเรียน

๑. พระเทพเสนาบดี	(ผู้รับใบอนุญาต ผู้จัดการ ผู้อำนวยการ)	ประธานกรรมการ
๒. ดร.วิชัย	ไทยถาวร (ผู้ทรงคุณวุฒิ)	กรรมการ
๓. นายปริญญา	อินทรการุณเวช (ผู้ทรงคุณวุฒิ)	กรรมการ
๔. พลเอกบวรรัตน์	ไมตรีประศาสน์ (ผู้ทรงคุณวุฒิ)	กรรมการ
๕. นายปิติวัชร	กล้าภาค (ผู้ทรงคุณวุฒิ)	กรรมการ
๖. นายสิทธิพงษ์	พฤษภากรณีย์ (ผู้ทรงคุณวุฒิ)	กรรมการ
๗. นายแพทย์สมชาย	โอวัฒนาพานิช (ผู้แทนผู้ประกอบการ)	กรรมการ
๘. นางทิพวรรณ	กองสุทธิใจ (ผู้แทนครู)	กรรมการและเลขานุการ

คณะผู้บริหารโรงเรียน

๑. พระเทพเสนาบดี	ผู้รับใบอนุญาต / ผู้จัดการ / ผู้อำนวยการ	
๒. พระครูวิธานธรรมวิสุทธิ	รองผู้จัดการ / รักษาการรองผู้อำนวยการฝ่ายสัมพันธ์ชุมชน	
๓. นายจันทร์	บัวสนธิ์	ที่ปรึกษา
๔. นายณัชพล	ชั้นทองทิพย์	ที่ปรึกษา
๕. นายชูชาติ	ลาวัลย์	ที่ปรึกษา
๖. ดร.วิชัย	ไทยถาวร	ที่ปรึกษา
๗. นายสุเทพ	จำปาทิพย์	ที่ปรึกษา
๘. นายสุเทพ	สุโขมิตรีย์	ที่ปรึกษาผู้จัดการ
๙. นางเจิมจิต	วังทอง	ที่ปรึกษาผู้อำนวยการ
๑๐.นางสุพรรณณี	ดรศรีโยเพชร	ที่ปรึกษาศูนย์การเรียนรู้ศาสตร์พระราชา
๑๑. นายวีรสันต์	เนียมศรี	ที่ปรึกษาผู้จัดการ
๑๒.นางทิพวรรณ	กองสุทธิใจ	รองผู้อำนวยการฝ่ายวิชาการ
๑๓. นางสาวนิตยา	นฤชาติวรพันธ์	รองผู้อำนวยการฝ่ายกิจการนักเรียน

โทรศัพท์ติดต่อโรงเรียนวินิตศึกษา ในพระราชูปถัมภ์ฯ

โทรศัพท์ ๐๓๖-๔๑๑๒๓๕ โทรสาร ๐๓๖-๔๒๑๐๘๘

สำนักผู้จัดการ/ผู้อำนวยการ	๐๓๖-๔๑๑๒๓๕ ต่อ ๑๐๕	โทรสาร ๐๓๖-๔๒๑๐๘๘
ฝ่ายการเงิน	๐๓๖-๔๑๑๒๓๕ ต่อ ๑๐๔	โทรสาร ๐๓๖-๔๑๔๓๘๐
ฝ่ายวิชาการ	๐๓๖-๔๑๑๒๓๕ ต่อ ๑๐๙	
ฝ่ายกิจการนักเรียน	๐๓๖-๔๑๑๒๓๕ ต่อ ๐ , ๑๕๐	
ฝ่ายสัมพันธ์ชุมชน	๐๓๖-๔๑๑๒๓๕ ต่อ ๑๐๖	
ฝ่ายทะเบียนวัดผล	๐๓๖-๔๑๑๒๓๕ ต่อ ๑๐๗	
งานแนะแนว	๐๓๖-๔๑๑๒๓๕ ต่อ ๑๐๒	โทรสาร ๐๓๖-๔๒๐๖๘๘

ข้อมูลโรงเรียน ปีการศึกษา ๒๕๖๕

จำนวนบุคลากร และนักเรียน โรงเรียนวินิตศึกษา ในพระราชูปถัมภ์ฯ

รายการ	ชาย	หญิง	รวม
๑. ครู – อาจารย์ทั้งหมด	๔๔	๑๖๓	๒๐๗
๒. ครู – อาจารย์พิเศษ	๑๗	๑๐	๒๗
๓. ครู – อาจารย์ชาวต่างประเทศ	๕	๑	๖
๔. นักการภารโรง	๑๐	๒๙	๓๙
๕. พนักงานขับรถ	๖	-	๖
๗. นักเรียน ม.ต้น	๑,๑๘๕	๑,๕๐๖	๒,๖๙๑
นักเรียน ม.ปลาย	๖๔๓	๙๖๗	๑,๖๑๐
รวม	๑,๘๒๘	๒,๔๗๓	๔,๓๐๑

หมายเหตุ ข้อมูล ณ วันที่ ๑๘ พฤษภาคม ๒๕๖๕

การจัดการเรียนการสอน

โรงเรียนวินิตศึกษา ในพระราชูปถัมภ์ฯ เป็นโรงเรียนในโครงการร่วมพัฒนาหลักสูตร จัดการเรียนการสอน ทั้งระดับมัธยมศึกษาตอนต้น และระดับมัธยมศึกษาตอนปลาย (ม.๑-ม.๖) จำนวน ๑๑๓ ห้องเรียน คือ

ระดับชั้น	วินิตศึกษา แห่งที่ ๑	วินิตศึกษา แห่งที่ ๒	รวม
มัธยมศึกษาตอนต้น	๒๖	๔๘	๗๔
มัธยมศึกษาตอนปลาย	๔	๓๕	๓๙
รวม	๓๐	๘๓	๑๑๓

แนวทางการเรียนชั้นมัธยมศึกษาตอนต้น และชั้นมัธยมศึกษาตอนปลาย

เปิดให้นักเรียนเรียนตามความสามารถ ความถนัด ความสนใจ โดยเปิดวิชาเลือกเสรีให้นักเรียนเลือกเรียน เพื่อไม่ให้นักเรียนถูกบังคับเหมือนกันหมด สนองนโยบายหลักสูตร กลุ่มวิชาเลือกเสรีที่เปิดให้เลือกเรียนดังนี้

ชั้นมัธยมศึกษาตอนต้น ๑. วิทยุ-คณิต

ชั้นมัธยมศึกษาตอนปลาย ๑. Textbook ๒. วิทยุ - คณิต ๓. ศิลป์ – ภาษา

สรุปผลการสอบเข้ามหาวิทยาลัย
 นักเรียนชั้นมัธยมศึกษาปีที่ ๖ ประจำปีการศึกษา ๒๕๖๔
 โครงการเตรียมความรู้มุ่งสู่มหาวิทยาลัย (RTU) รุ่นที่ ๑๔

ที่	มหาวิทยาลัย	จำนวนนักเรียน
๑	จุฬาลงกรณ์มหาวิทยาลัย	๕
๒	มหาวิทยาลัยธรรมศาสตร์	๓๑
๓	มหาวิทยาลัยมหิดล	๙
๔	มหาวิทยาลัยนานาชาติมหิดล	๒
๕	มหาวิทยาลัยเกษตรศาสตร์	๕๖
๖	มหาวิทยาลัยศิลปากร	๑๗
๗	มหาวิทยาลัยศรีนครินทรวิโรฒ	๒๔
๘	มหาวิทยาลัยเชียงใหม่	๑๒
๙	มหาวิทยาลัยขอนแก่น	๖
๑๐	มหาวิทยาลัยแม่โจ้	๖
๑๑	มหาวิทยาลัยเทคโนโลยีพระจอมเกล้าธนบุรี	๓
๑๒	มหาวิทยาลัยเทคโนโลยีพระจอมเกล้าพระนครเหนือ	๑๕
๑๓	สถาบันเทคโนโลยีพระจอมเกล้าเจ้าคุณทหารลาดกระบัง	๑๑
๑๔	มหาวิทยาลัยบูรพา	๒๑
๑๕	มหาวิทยาลัยเทคโนโลยีราชมงคลธัญบุรี	๑๐
๑๖	มหาวิทยาลัยมหาสารคาม	๑
๑๗	มหาวิทยาลัยพะเยา	๑๔
๑๘	มหาวิทยาลัยสวนดุสิต	๒
๑๙	มหาวิทยาลัยแม่ฟ้าหลวง	๑๐
๒๐	มหาวิทยาลัยราชภัฏนครราชสีมา	๑
๒๑	มหาวิทยาลัยเทคโนโลยีราชมงคลสุวรรณภูมิ	๑
๒๒	มหาวิทยาลัยเทคโนโลยีสุรนารี	๑๒

ที่	มหาวิทยาลัย	จำนวนนักเรียน
๒๓	มหาวิทยาลัยเทคโนโลยีราชมงคลกรุงเทพ	๓
๒๔	มหาวิทยาลัยราชภัฏจันทรเกษม	๔
๒๕	มหาวิทยาลัยเทคโนโลยีราชมงคลตะวันออก	๒
๒๖	มหาวิทยาลัยเทคโนโลยีราชมงคลอีสาน	๑
๒๗	มหาวิทยาลัยราชภัฏบ้านสมเด็จเจ้าพระยา	๒
๒๘	มหาวิทยาลัยราชภัฏสวนสุนันทา	๗
๒๙	มหาวิทยาลัยราชภัฏวไลยอลงกรณ์	๓
๓๐	มหาวิทยาลัยราชภัฏเทพสตรี	๒๔
๓๑	มหาวิทยาลัยพายัพ	๑
๓๒	วิทยาลัยนานาชาติเซนต์เทเรซา	๑
๓๓	มหาวิทยาลัยกรุงเทพ	๓๐
๓๔	มหาวิทยาลัยรังสิต	๑๓
๓๕	มหาวิทยาลัยศรีปทุม	๔
๓๖	มหาวิทยาลัยหอการค้าไทย	๒
๓๗	สถาบันการจัดการปัญญาภิวัฒน์	๑
๓๘	มหาวิทยาลัยอุบลราชธานี	๑
๓๙	มหาวิทยาลัยอัสสัมชัญ	๑
๔๐	มหาวิทยาลัยकुสิตธานี	๑
๔๑	วิทยาลัยเซนต์หลุยส์	๑
๔๒	มหาวิทยาลัยเกษมบัณฑิต	๑
๔๓	มหาวิทยาลัยธุรกิจบัณฑิต	๑
๔๔	มหาวิทยาลัยมหามกุฏราชวิทยาลัย	๑
๔๕	มหาวิทยาลัยรามคำแหง	๑๔
๔๖	มหาวิทยาลัยสุโขทัยธรรมมาธิราช	๑๐
๔๗	วิทยาลัยพยาบาลกองทัพบก	๑
๔๘	สถาบันพระบรมราชชนก กระทรวงสาธารณสุข	๕
๔๙	วิทยาลัยพยาบาลบรมราชชนนี	๖

ที่	มหาวิทยาลัย	จำนวนนักเรียน
๕๐	วิทยาลัยการสาธารณสุขสิรินธร	๒
๕๑	โรงเรียนเตรียมทหาร	๔
๕๒	โรงเรียนนายสิบทหารบก	๑
๕๓	วิทยาลัยนครราชสีมา	๑
๕๔	วิทยาลัยเทคนิคบุรี	๓
๕๕	วิทยาลัยเทคนิคท่าหลวงซีเมนต์ไทยอนุสรณ์	๑
๕๖	วิทยาลัยอาชีวะสระบุรี	๑
๕๗	วิทยาลัยเทคโนโลยีละโว้	๑
๕๘	รอกศึกษาต่อต่างประเทศ	๕
๕๙	Nanjing Xiaozhuang University (ประเทศจีน)	๑
๖๐	Yunnan Normol University (ประเทศจีน)	๑
๖๑	Qingdao University (ประเทศจีน)	๒
๖๒	ปะกอบอาชีพ	๔
รวม		๔๓๗

ข้อมูล ณ วันที่ ๑๘ มิถุนายน ๒๕๖๔



ตารางกำหนดการรับสมัครนักเรียนเข้าศึกษาต่อ ระดับชั้นมัธยมศึกษาปีที่ ๑

โรงเรียนวินิตศึกษา ในพระราชูปถัมภ์ฯ จังหวัดลพบุรี

ปีการศึกษา ๒๕๖๖

ที่	โครงการ	การรับสมัคร	กำหนดการสอบ	ประกาศผล	มอบตัว	ค่าโครงการพิเศษ	รับ /จำนวน
๑	ทุนหลวงพ่อพระพุทธรญาณ (ทุนหลวงพ่อใหญ่)	๗ พ.ย. - ๑๓ ธ.ค. ๖๕	๑๘ ธ.ค. ๖๕ (สอบสัมภาษณ์) ๐๙.๐๐ น.เป็นต้นไป	๑๘ ธ.ค. ๖๕	๑๘ ธ.ค. ๖๕ ๑๓.๐๐ - ๑๖.๐๐ น	-	๑๕๐
๒	โควตา วิชาการ โควตา ศิลปะ ดนตรี กีฬา	๗ พ.ย. - ๑๓ ธ.ค. ๖๕	๑๘ ธ.ค. ๖๕ (สอบสัมภาษณ์) ๐๙.๐๐ น.เป็นต้นไป	๑๘ ธ.ค. ๖๕	๑๘ ธ.ค. ๖๕ ๑๓.๐๐ - ๑๖.๐๐ น	-	๑๕๐
๓	ห้องเรียนพิเศษ สอวน. (Textbook)	๗ พ.ย. - ๑๓ ธ.ค. ๖๕	๑๘ ธ.ค. ๖๕ (สอบข้อเขียน) ๐๙.๐๐ น.เป็นต้นไป (สอบสัมภาษณ์) ๑๓.๐๐ น.เป็นต้นไป	๑๘ ธ.ค. ๖๕ (๑๘.๐๐ น.)	๒๕ ธ.ค. ๖๕ ๐๘.๓๐ - ๑๖.๐๐ น	๑๒,๐๐๐	๖๐
๔	เตรียมความรู้มุ่งสู่อโอลิมปิก (สอวน.)	๑๙ ธ.ค. ๖๕ - ๑๓ ม.ค.๖๖	๒๒ ม.ค. ๖๖ (สอบข้อเขียน) ๐๘.๓๐ - ๑๒.๑๐ น.	๒๒ ม.ค. ๖๖ ๒๐.๐๐ น.	๒๙ ม.ค. ๖๖ ๐๘.๓๐ - ๑๕.๐๐ น.	๙,๐๐๐	๑๒๐
๕	อัจฉริยภาพทางวิชาการ					๕,๐๐๐	๑๖๐
๖	สอนสองภาษา (Bilingual Programme)					๙,๐๐๐	๑๒๐
๗	เตรียมความพร้อมทาง วิชาการทหาร					๕,๐๐๐	๑๖๐
๘	โครงการข้างเผือก ๒๑					๓,๐๐๐	๘๐
๙	ทั่วไป / ความสามารถพิเศษ	๒๓ ม.ค. - ๓ มี.ค. ๖๖	๑๑ มี.ค. ๖๖ (สอบข้อเขียน) ๐๙.๐๐ - ๑๒.๑๐ น.	๑๑ มี.ค. ๖๖	๑๓.๐๐ - ๑๕.๐๐ น.	-	๑๘๐

*หมายเหตุ ไม่รวมค่าใช้จ่ายอื่นๆ

ผู้ประสานงาน

รองผู้อำนวยการฝ่ายวิชาการ
ห้องเรียนพิเศษ สอวน.Textbook
โครงการ สอวน.
โครงการ Bilingual Programme
โครงการอัจฉริยภาพทางวิชาการ
โครงการข้างเผือก
โครงการทุนหลวงพระพุทธรญาณ(ทุนหลวงพ่อใหญ่)
โครงการเตรียมความพร้อมทางวิชาการทหาร
โครงการโควตาวิชาการ , โควตา ศิลปะ ดนตรี กีฬา
โครงการความสามารถพิเศษ

นางทิพวรรณ กองสุทธิใจ ๐๘๑ - ๗๐๔๖๔๘๘
นางสาวธิดิยา ทองอยู่ ๐๙๒ - ๖๘๗๓๓๓๑๑
นางสาวมาลินี ฉัตรศรีมี ๐๘๖ - ๓๖๑๓๕๖๔
นางสาววรรณรัฐ ลีลมะมัย ๐๙๓ - ๓๒๘๘๓๙๕
นางสาวภิญญา สวนสุข ๐๘๖ - ๗๕๑๔๑๐๒
นางสาวเพชรวัลย์ พึ่งวัน ๐๘๙ - ๖๓๓๗๕๒๘
นางสาวจิราภร สมสอน ๐๘๑-๓๖๑๘๒๐๘
นางศุภกานต์ หงษ์สูงเนิน ๐๖๓ - ๒๖๕๓๐๕๓
นางสาริกา สิงห์ลักษณ์ ๐๘๒ - ๙๕๕๘๒๙๑
นางสาวฐิติชญา อยู่รอด ๐๘๙ - ๒๑๘๑๘๔๔



ประกาศโรงเรียนวินิตศึกษา ในพระราชูปถัมภ์ฯ

ฉบับที่ ๕๒/๒๕๖๕

เรื่อง การรับนักเรียนเข้าเรียนระดับชั้นมัธยมศึกษาปีที่ ๑

โครงการทุนพระพุทธรญาณ (ทุนหลวงพ่อใหญ่) รุ่นที่ ๗ และรอบโควตา ปีการศึกษา ๒๕๖๖

ด้วย โรงเรียนวินิตศึกษา ในพระราชูปถัมภ์ฯ ได้กำหนดเปิดรับสมัครสอบคัดเลือกนักเรียนเพื่อเข้าศึกษา ต่อในชั้นมัธยมศึกษาปีที่ ๑ ปีการศึกษา ๒๕๖๖ โรงเรียนวินิตศึกษา ในพระราชูปถัมภ์ฯ จึงได้จัดให้มี **โครงการ ทุนพระพุทธรญาณ (ทุนหลวงพ่อใหญ่) รุ่นที่ ๗** เพื่อส่งเสริมนักเรียนที่มีผลการเรียนดี และขาดแคลน ทุนทรัพย์ในการศึกษาต่อในระดับการศึกษาขั้นพื้นฐานเป็นไปตามปณิธานของหลวงพ่อพระพุทธรญาณ (ทองย้อย กิตติทินโน) โควตาวิชาการ และโควตาศิลปะ ดนตรี กีฬา เพื่อให้ส่งเสริมนักเรียนที่มีความสามารถ ทางด้านวิชาการ ศิลปะ ดนตรี และกีฬา ดังรายละเอียดต่อไปนี้

๑. โครงการทุนพระพุทธรญาณ (ทุนหลวงพ่อใหญ่) รุ่นที่ ๗

๑.๑ คุณสมบัติของผู้สมัคร

- กำลังเรียนอยู่ในชั้นประถมศึกษาปีที่ ๖ ปีการศึกษา ๒๕๖๕
- เป็นผู้มีความประพฤติเรียบร้อย
- มีฐานะครอบครัวยากจน

๑.๒ เอกสารและหลักฐานการรับสมัคร

- ใบสมัครตามแบบของโรงเรียนวินิตศึกษา ในพระราชูปถัมภ์ฯ สามารถโหลดได้จาก (<https://www.ws.ac.th/samug>) และสมัครระบบออนไลน์
- โรงเรียนคัดเลือกผู้ที่สมควรได้รับทุน (โดยผู้อำนวยการโรงเรียนรับรอง)

๑.๓ สิทธิประโยชน์ของนักเรียน

- ๑.๓.๑ จะได้รับทุนการศึกษา เรียนฟรีตลอด ๓ ปี
- ๑.๓.๒ หากมีผลการเรียนดี มีความประพฤติเรียบร้อยจะได้รับทุนเรียนต่อในระดับชั้นมัธยมศึกษาตอนปลาย ฟรี
- ๑.๓.๓ หากมีผลการเรียนดี มีความประพฤติเรียบร้อยจะได้รับทุนเรียนต่อในระดับปริญญาตรี โดยเป็นไปตามเงื่อนไขของโรงเรียน

๒. โควตาวิชาการ / ศิลปะ ดนตรี กีฬา

๒.๑ คุณสมบัติของผู้สมัคร

- กำลังเรียนอยู่ในชั้นประถมศึกษาปีที่ ๖ ปีการศึกษา ๒๕๖๕ ผลการเรียนเฉลี่ยระดับประถมศึกษาที่ ๕ ไม่ต่ำกว่า ๒.๗๕
- ไม่เป็นโรคติดต่อหรือโรคร้ายแรงอันเป็นอุปสรรคต่อการเรียน
- มีความขยันหมั่นเพียร ความประพฤติดี และมีบุคลิกภาพเหมาะสม
- มีความตั้งใจเข้าร่วมโครงการ และได้รับการสนับสนุนจากผู้ปกครอง
- มีผลงาน และความสามารถ ด้านวิชาการ หรือ ศิลปะ ดนตรี กีฬา

๒.๒ เอกสารและหลักฐานการรับสมัคร

- ๒.๒.๑ ใบสมัครตามแบบของโรงเรียนวินิตศึกษา ในพระราชูปถัมภ์ฯ สามารถโหลดได้จาก (<https://www.ws.ac.th/samug>) และสมัครระบบออนไลน์

๒.๒.๒ นักเรียนที่มีความสามารถพิเศษด้านวิชาการ วิชาดนตรีไทย นาฏศิลป์ งานศิลป์ ศิลปะ ประติมากรรม ดุริยางค์ ดนตรีสากล กีฬาประเภทต่างๆ และความสามารถพิเศษอื่นๆ ให้กรอกแบบแสดงความประสงค์ ยื่นพร้อมใบสมัครสอบคัดเลือก และเอกสารรับรองจากโรงเรียน

๒.๒.๓ เอกสารใบรับรองผลการเรียน ปพ.๗ ฉบับจริง พร้อมสำเนาเอกสาร และรับรองสำเนาถูกต้อง

๒.๒.๔ รูปถ่ายขนาด ๑ นิ้ว จำนวน ๒ รูป ถ่ายไม่เกิน ๖ เดือน หน้าตรงไม่สวมหมวก ไม่สวมแว่นตาดำ และเป็นรูปถ่ายในคราวเดียวกัน

๒.๒.๕ เอกสารใบรับรองผลการเรียน ปพ.๗ ฉบับจริง พร้อมสำเนาเอกสาร และรับรองสำเนาถูกต้อง

๓. สิทธิประโยชน์ที่ได้รับของนักเรียนโควตาวิชาการ

- นักเรียนได้รับทุนการศึกษาเรียนฟรีภาคเรียนที่ ๑
- นักเรียนได้รับชุดนักเรียนฟรี ๒ ชุด ชุดพลละ ๑ ชุด และรองเท้านักเรียนฟรี ๑ คู่
- นักเรียนได้รับกระเป๋าหนังสือ อุปกรณ์การเรียนฟรี

๔. สิทธิประโยชน์ที่ได้รับของนักเรียนโควตาความสามารถพิเศษด้านร้องเพลง ดนตรีไทย

ดนตรีสากล และวงโยธวาทิต

- นักเรียนได้รับทุนการศึกษาเรียนฟรีภาคเรียนที่ ๑
- นักเรียนได้รับชุดนักเรียนฟรี ๒ ชุด ชุดพลละ ๑ ชุด และรองเท้านักเรียนฟรี ๑ คู่
- นักเรียนได้รับกระเป๋าหนังสือ อุปกรณ์การเรียนฟรี
- นักเรียนที่ได้รับการคัดเลือกอยู่ในวงดนตรีลูกทุ่งวินิตศึกษา จะได้รับทุนการศึกษา ๑,๕๐๐ บาท/ปี และได้ทุนการศึกษา ตลอดหลักสูตร ๓ ปี
- นักเรียนได้รับการคัดเลือกเข้าวงดนตรีไทยของโรงเรียน จะได้รับทุนการศึกษา ๑,๕๐๐ บาท/ปี
- นักเรียนได้รับการคัดเลือกเข้าวงโยธวาทิตของโรงเรียน จะได้รับทุนการศึกษา ๑,๕๐๐ บาท/ปี

ระยะเวลาในการรับสมัคร

- สมัครผ่านระบบออนไลน์ลิงค์ โครงการทุนพระพุทธรธรรม (ทุนหลวงพ่อใหญ่) รุ่นที่ ๗ <https://www.ws.ac.th/toon> และลิงค์โควตาทางวิชาการ <https://www.ws.ac.th/quotam๑> ตั้งแต่วันที่ ๗ พ.ย. - ๑๓ ธ.ค. ๖๕
 - สมัครด้วยตนเอง ตั้งแต่วันที่ ๗ พ.ย. - ๑๓ ธ.ค. ๖๕ ณ ห้องวิชาการ โรงเรียนวินิตศึกษา ในพระราชูปถัมภ์ฯ (แห่งที่ ๑) ยกเว้นวันหยุดนักขัตฤกษ์
 - ส่งไปรษณีย์ถึงฝ่ายสนับสนุนวิชาการ โรงเรียนวินิตศึกษา ในพระราชูปถัมภ์ฯ (แห่งที่ ๑) เลขที่ ๑๐ ถ.เทพราชา ต.ท่าหิน อ.เมืองลพบุรี จ.ลพบุรี ๑๕๐๐๐
- ถึงวันที่ ๑๓ ธ.ค. ๖๕ โดยจะถือวันประทับตราไปรษณีย์เป็นสำคัญ

หมายเหตุ - ผู้สมัครที่สมัครผ่านระบบออนไลน์ต้องตรวจสอบคุณสมบัติด้วยตนเอง เข้าบันทึกข้อมูลให้ครบถ้วน ถูกต้อง ชัดเจน

ประกาศรายชื่อผู้มีสิทธิสอบสัมภาษณ์

วันที่ ๑๕ ธ.ค. ๖๕ <http://winitsuksa.ws.ac.th>

วันสอบสัมภาษณ์

- วันที่ ๑๘ ธ.ค.๖๕ เวลา ๐๙.๐๐ น. เป็นต้นไป และผู้เข้าสอบต้องเข้าสอบสัมภาษณ์ หากขาดสอบถือว่าสละสิทธิ์ในการเข้าสอบสัมภาษณ์ทุกกรณี

- โรงเรียนตัดสินผลการคัดเลือกโดยพิจารณาจากผลการศึกษา และเอกสารใบเกียรติบัตร หากผู้ใดมีคุณสมบัติไม่ครบถ้วนตามที่ประกาศไว้จะไม่ได้รับการพิจารณาในขั้นตอนต่อไป ทั้งนี้การตัดสินผลการสอบสัมภาษณ์ของคณะกรรมการดำเนินการรับสมัครนักเรียนโรงเรียนวินิตศึกษา ในพระราชูปถัมภ์ฯ ถือเป็นที่สุด

ประกาศรายชื่อผู้ผ่านการคัดเลือกเข้าศึกษาต่อ

วันที่ ๑๘ ธันวาคม ๒๕๖๕ หรือที่เว็บไซต์ของโรงเรียน (<http://winitsuksa.ws.ac.th>)

จำนวนนักเรียนที่รับเข้าศึกษา

ประเภทโครงการทุนหลวงพ่อพระพุทธรธรรม (ทุนหลวงพ่อใหญ่)	จำนวน ๑๕๐ คน
ประเภทโควตาวิชาการ	จำนวน ๑๐๐ คน
ประเภทศิลปะ	จำนวน ๕๐ คน
ประเภทกีฬา	จำนวน ๕๐ คน
ประเภทร้องเพลง ดนตรีไทย ดนตรีสากล	จำนวน ๕๐ คน

การมอบตัวนักเรียน

วันที่ ๑๘ ธันวาคม ๒๕๖๕ เวลา ๑๓.๐๐ – ๑๕.๐๐ น.

ถ้าไม่มามอบตัวตามวันเวลาที่กำหนดถือว่าสละสิทธิ์

ผู้ปกครองที่จะทำการมอบตัวได้ จะต้องมีบิดา – มารดา หรือญาติผู้ใหญ่ หรือผู้อุปการะ ที่มีอาชีพเป็นหลักฐานและมีชื่ออยู่ในสำเนาทะเบียนบ้านร่วมกับนักเรียน โรงเรียนจะไม่รับพิจารณา ให้บุคคลที่ไม่ได้อยู่บ้านเดียวกับนักเรียน หรือผู้ที่กำลังศึกษาเล่าเรียนอยู่ เป็นผู้ปกครองนักเรียน โดยเด็ดขาด

ข้อควรปฏิบัติและข้อควรระวัง

- อ่านประกาศนี้ให้เข้าใจทุกข้อ
- การติดต่อกับทางโรงเรียนต้องแต่งกายชุดนักเรียน ให้เรียบร้อยถูกต้อง
- หลักฐานหรือเอกสารที่โรงเรียนต้องการตามกำหนดไว้ให้ผู้สมัครเตรียมให้พร้อม มิฉะนั้นอาจเสียสิทธิ์การเข้าเป็นนักเรียนของโรงเรียนได้
- ต้องยื่นใบสมัครตามกำหนดวันและเวลาที่ระบุไว้
- ผู้สมัครต้องนำบัตรประจำตัวสอบมาแสดงทุกครั้งที่มาติดต่อ
- **อย่าเชื่อคำแอบอ้าง** อย่าให้สินจ้างรางวัลแก่ผู้ใด เพราะไม่มีผู้ใดจะให้การช่วยเหลือท่านได้นอกจากตัวท่านเอง

ประกาศ ณ วันที่ ๑ พฤศจิกายน พุทธศักราช ๒๕๖๕



(พระเทพเสนาบดี)

ผู้อำนวยการโรงเรียนวินิตศึกษา ในพระราชูปถัมภ์ฯ



ประกาศโรงเรียนวินิตศึกษา ในพระราชูปถัมภ์ฯ
ฉบับที่ ๕๓/๒๕๖๕
เรื่อง การรับนักเรียนเข้าเรียนระดับชั้นมัธยมศึกษาปีที่ ๑
ห้องเรียนพิเศษ สอวน. (Textbook) ปีการศึกษา ๒๕๖๖

ตามพระราชบัญญัติการศึกษาแห่งชาติ พ.ศ. ๒๕๔๒ แก้ไขเพิ่มเติม (ฉบับที่ ๒) พ.ศ. ๒๕๔๕ ภาระบวรการจัดการศึกษา ต้องส่งเสริมให้นักเรียนสามารถพัฒนาตามธรรมชาติและเต็มตามศักยภาพ โรงเรียนวินิตศึกษา ในพระราชูปถัมภ์ฯ จึงได้จัดให้มี **ห้องเรียนพิเศษ สอวน. (Textbook)** เพื่อส่งเสริมนักเรียนที่มีความสามารถทางด้านคณิตศาสตร์ วิทยาศาสตร์และเทคโนโลยี ภาษาอังกฤษ และงานวิจัย จากครูชาวต่างชาติ เพื่อให้การดำเนินการรับนักเรียนเข้าเรียนโครงการส่งเสริมความสามารถพิเศษระดับชั้นมัธยมศึกษาปีที่ ๑ ปีการศึกษา ๒๕๖๖ เป็นไปด้วยความเรียบร้อย มีรายละเอียดดังนี้

๑. คุณสมบัติของผู้สมัคร

- ๑.๑ กำลังเรียนอยู่ในชั้นประถมศึกษาปีที่ ๖ หรือเทียบเท่า ปีการศึกษา ๒๕๖๕
- ๑.๒ มีผลการเรียน ดังนี้
 - ๑.๒.๑ คะแนนเฉลี่ยสะสมรวมทุกวิชาในชั้นประถมศึกษาปีที่ ๔ และชั้นประถมศึกษาปีที่ ๕ ไม่ต่ำกว่า ๓.๐๐
 - ๑.๒.๒ คะแนนเฉลี่ยสะสมกลุ่มสาระการเรียนรู้วิทยาศาสตร์ในชั้นประถมศึกษาปีที่ ๔ และชั้นประถมศึกษาปีที่ ๕ ไม่ต่ำกว่า ๓.๐๐
 - ๑.๒.๓ คะแนนเฉลี่ยสะสมกลุ่มสาระการเรียนรู้คณิตศาสตร์ในชั้นประถมศึกษาปีที่ ๔ และชั้นประถมศึกษาปีที่ ๕ ไม่ต่ำกว่า ๓.๐๐
 - ๑.๒.๔ คะแนนเฉลี่ยสะสมกลุ่มสาระการเรียนรู้ภาษาต่างประเทศ (ภาษาอังกฤษ) ในชั้นประถมศึกษาปีที่ ๔ และชั้นประถมศึกษาปีที่ ๕ ไม่ต่ำกว่า ๓.๐๐
- ๑.๓ มีสัญชาติไทย และมีเลขประจำตัวประชาชน
- ๑.๔ ไม่เป็นโรคที่เป็นอุปสรรคต่อการเรียน
- ๑.๕ มีความขยันหมั่นเพียร มีความประพฤติดีและมีบุคลิกภาพเหมาะสม
- ๑.๖ มีความตั้งใจเข้าเรียนใน โรงเรียนวินิตศึกษา ในพระราชูปถัมภ์ฯ และได้รับการสนับสนุนจาก

ผู้ปกครอง

- ๑.๗ ยินดีปฏิบัติตามระเบียบของ โรงเรียนในปัจจุบันหรือที่จะได้มีการกำหนดในอนาคต

ห้องเรียนพิเศษ สอวน.(Textbook) ต้องมีคะแนนเฉลี่ยในชั้นประถมศึกษาปีที่ ๕ หรือผลการเรียนชั้นประถมศึกษาปีที่ ๖ ภาคเรียนที่ ๑ รายวิชาคณิตศาสตร์ วิทยาศาสตร์ และภาษาอังกฤษ ไม่ต่ำกว่า ๓.๐๐

<http://winitsuksa.ws.ac.th>

๒. ขั้นตอน และวิธีการรับสมัคร

ขั้นตอนที่ ๑ การลงทะเบียนผู้สมัคร (วันที่ ๗ พ.ย. – ๑๓ ธ.ค.๖๕)

ลิงค์ <http://www.ws.ac.th/textbook1> และคลิกที่เมนู “การรับเข้าศึกษา” ทำตามขั้นตอนที่แนะนำในเว็บไซต์ ดังนี้

- กรอกข้อมูลผู้สมัครในเว็บไซต์ให้สมบูรณ์

ขั้นตอนที่ ๒ การกรอกใบสมัครและหลักฐานการสมัคร

กรณีกรอกใบสมัครผ่านเว็บไซต์

เปิดเว็บไซต์ลิงค์ห้องเรียนพิเศษ สอวน. (Textbook) <https://www.ws.ac.th/textbook1> ทำตามขั้นตอนที่แนะนำในเว็บไซต์ ดังนี้

- (๑) กรอกใบสมัคร

(๒) อัปโหลดไฟล์เอกสารและหลักฐานสำหรับการสมัคร เสร็จสิ้นแล้วกดส่งใบสมัครกรณีที่ไม่สามารถแนบเอกสารหลักฐานการสมัครผ่านระบบออนไลน์ได้

- นำส่งไปรษณีย์ลงทะเบียนมาที่งานสนับสนุนวิชาการ โรงเรียนวินิตศึกษา ในพระราชูปถัมภ์ฯ เลขที่ ๑๐ ถนนเพชรราชา ตำบลท่าหิน อำเภอเมืองลพบุรี จังหวัดลพบุรี ๑๕๐๐๐ หรือสมัครด้วยตนเองได้ที่ โรงเรียน วินิตศึกษา ในพระราชูปถัมภ์ฯ (แห่งที่ ๑)

หลักฐานการสมัคร

- มีระเบียบแสดงผลการเรียน (ปพ.๑) กรณีสมัครกับโรงเรียนเดิมให้โรงเรียนรับรองนักเรียนทั้งหมดตามบัญชีรายชื่อ

- รูปถ่ายขนาด ๑ นิ้ว จำนวน ๒ รูป ถ่ายไม่เกิน ๖ เดือน หน้าตรงไม่สวมหมวก ไม่สวมแว่นตาและเป็นรูปถ่ายในคราวเดียวกัน

- ค่าธรรมเนียมการสมัครสอบคนละ ๑๐๐ บาท

- สามารถดาวน์โหลดคู่มือได้จากเว็บไซต์ โรงเรียนวินิตศึกษา ในพระราชูปถัมภ์ฯ

ขั้นตอนที่ ๓ การชำระค่าธรรมเนียมการสมัครสอบ

- สั่งพิมพ์ใบแจ้งยอดชำระเงิน เพื่อนำไปชำระเงินจำนวน ๑๐๐ บาท ผ่านเคาน์เตอร์ธนาคาร

- เก็บหลักฐานการชำระเงินไว้เพื่อเป็นหลักฐานอ้างอิงด้วย

หมายเหตุ : โดยสมัครสอบวันสุดท้าย (วันที่ ๑๑ ธันวาคม ๒๕๖๕) ต้องชำระเงินให้แล้วเสร็จภายในวันที่ ๑๒ ธันวาคม ๒๕๖๕

ขั้นตอนที่ ๔ การตรวจสอบคุณสมบัติ

- ทางโรงเรียนจะดำเนินการตรวจสอบคุณสมบัติ จากหลักฐานที่นักเรียนส่งมา

ขั้นตอนที่ ๕ การตรวจสอบสิทธิ์ในการเข้าสอบและพิมพ์บัตรประจำตัวผู้เข้าสอบ

- นักเรียนตรวจสอบสิทธิ์การเข้าสอบและสั่งพิมพ์บัตรประจำตัวผู้เข้าสอบ เพื่อนำมาใช้แสดงตนในวันสอบ

หมายเหตุ : วันสุดท้ายของการตรวจสอบสิทธิ์ในการเข้าสอบคือวันที่ ๑๔ ธันวาคม ๒๕๖๕

หากพินกำหนดถือว่าสละสิทธิ์ในการเข้าสอบ

๓. จำนวนนักเรียนที่รับเข้าศึกษา

ห้องเรียนพิเศษ สอน. (Textbook)

จำนวน ๖๐ คน

๔. ประกาศรายชื่อผู้ที่มีสิทธิ์สอบและแผนผังที่นั่งสอบ

วันที่ ๑๕ ธันวาคม ๒๕๖๕

๕. ตารางสอบ

วันที่	เวลา	วิชา
วันที่ ๑๘ ธ.ค.๖๕	๐๙.๐๐ – ๑๑.๐๐ น.	คณิตศาสตร์ – วิทยาศาสตร์ – ภาษาอังกฤษ
	๑๓.๐๐ – ๑๕.๐๐ น.	สอบสัมภาษณ์ภาษาอังกฤษ

หมายเหตุ ๑. ขอบข่ายเนื้อหาวิชาที่สอบคัดเลือกครอบคลุมระดับช่วงชั้นที่ ๒ (ป.๔ – ป.๖)

๒. ในการสอบให้นักเรียนเตรียมเอกสารและอุปกรณ์ดังนี้

- บัตรประจำตัวสอบ - ปากกาลูกลื่นสีดำ หรือสีน้ำเงิน

๖. วันประกาศผลสอบคัดเลือก

วันที่ ๒๕ ธันวาคม ๒๕๖๕ หรือเว็บไซต์โรงเรียน <http://winitsuksa.ws.ac.th>

๗. การมอบตัวนักเรียน

วันที่ ๒๕ ธันวาคม ๒๕๖๕

ผู้ปกครองที่จะทำการมอบตัวได้ จะต้องมีบิดา – มารดา หรือญาติผู้ใหญ่ หรือผู้อุปการะที่มีอาชีพเป็นหลักฐานและมีชื่ออยู่ในสำเนาทะเบียนบ้านร่วมกับนักเรียน โรงเรียนจะไม่รับพิจารณาให้บุคคลที่ไม่ได้อยู่บ้านเดียวกับนักเรียน หรือผู้ที่กำลังศึกษาเล่าเรียนอยู่ เป็นผู้ปกครองนักเรียนโดยเด็ดขาด

๘. ข้อควรปฏิบัติและข้อควรระวัง

๘.๑ อ่านประกาศนี้ให้เข้าใจทุกข้อ

๘.๒ การติดต่อกับทางโรงเรียนต้องแต่งกายชุดนักเรียน ให้เรียบร้อยถูกต้อง

๘.๓ หลักฐานหรือเอกสารที่โรงเรียนต้องการตามกำหนดไว้ให้ผู้สมัครเตรียมให้พร้อม

มิฉะนั้นอาจเสียสิทธิ์การเข้าเป็นนักเรียนของโรงเรียนได้


๘.๔ ต้องยื่นใบสมัครตามกำหนดวันและเวลาที่ระบุไว้

๘.๕ ผู้สมัครต้องนำบัตรประจำตัวสอบมาแสดงทุกครั้งที่มาติดต่อ

๘.๖ อย่าเชื่อคำแอบอ้าง อย่าให้สินจ้างรางวัลแก่ผู้ใด เพราะไม่มีผู้ใดจะให้การช่วยเหลือท่านได้

นอกจากตัวท่านเอง

ประกาศ ณ วันที่ ๑ พฤศจิกายน พุทธศักราช ๒๕๖๕



(พระเทพเสนาบดี)

ผู้อำนวยการโรงเรียนวินิตศึกษา ในพระราชูปถัมภ์ฯ



ประกาศโรงเรียนวินิตศึกษา ในพระราชูปถัมภ์ฯ
ฉบับที่ ๕๖/๒๕๖๕
เรื่อง การรับนักเรียนเข้าเรียนระดับชั้นมัธยมศึกษาปีที่ ๑
โครงการพิเศษ ปีการศึกษา ๒๕๖๖

ตามพระราชบัญญัติการศึกษาแห่งชาติ พ.ศ. ๒๕๔๒ แก้ไขเพิ่มเติม (ฉบับที่ ๒) พ.ศ. ๒๕๔๕ ภาระบวกรจัดการศึกษา ต้องส่งเสริมให้นักเรียนสามารถพัฒนาตามธรรมชาติและเต็มตามศักยภาพ โรงเรียนวินิตศึกษา ในพระราชูปถัมภ์ฯ จึงได้จัดให้มี **โครงการเตรียมความรู้มุ่งสู่โอลิมปิก (สอวน.)** เพื่อส่งเสริมนักเรียนที่มีความสามารถทางด้านคณิตศาสตร์ วิทยาศาสตร์และเทคโนโลยี ภาษาอังกฤษ และงานวิจัย **โครงการอัจฉริยภาพทางวิชาการ** เพื่อส่งเสริมนักเรียนที่มีความสามารถทางด้านวิทยาศาสตร์และเทคโนโลยี คณิตศาสตร์ และภาษาอังกฤษ **โครงการสอนสองภาษา (Bilingual Programme)** เพื่อส่งเสริมนักเรียนที่มีความถนัดและสนใจทางด้านภาษาอังกฤษ **โครงการเตรียมความพร้อมทางวิชาการทหาร** เพื่อเตรียมความพร้อมสำหรับนักเรียนที่มีเป้าหมายสู่โรงเรียนเตรียมทหาร และ **โครงการข้างเฝือก ๒๑** เพื่อส่งเสริมนักเรียนที่มีความสามารถทางด้านคณิตศาสตร์ วิทยาศาสตร์และเทคโนโลยี ภาษาไทย และภาษาอังกฤษ

เพื่อให้การดำเนินการรับนักเรียนเข้าเรียนโครงการส่งเสริมความสามารถพิเศษระดับชั้นมัธยมศึกษาปีที่ ๑ ปีการศึกษา ๒๕๖๖ เป็นไปด้วยความเรียบร้อย มีรายละเอียดดังนี้

๑. คุณสมบัติของผู้สมัคร

๑.๑ สำเร็จการศึกษาชั้นประถมศึกษาปีที่ ๖ หรือเทียบเท่า หรือกำลังเรียนอยู่ในชั้นประถมศึกษาปีที่ ๖ ปีการศึกษา ๒๕๖๕

๑.๒ มีระดับคะแนนเฉลี่ยชั้นประถมศึกษาปีที่ ๕ หรือผลการเรียนชั้นประถมศึกษาปีที่ ๖ ภาคเรียนที่ ๑ ไม่ต่ำกว่า ๓.๐๐

๑.๓ ไม่เป็นโรคติดต่อหรือโรคร้ายแรงอันเป็นอุปสรรคต่อการเรียน

๑.๔ มีความขยันหมั่นเพียร ความประพฤติดี และมีบุคลิกภาพเหมาะสม

๑.๕ มีความตั้งใจเข้าร่วมโครงการ และได้รับการสนับสนุนจากผู้ปกครอง

๑.๖ นักเรียนต้องมีผลการเรียนตามเกณฑ์ต่อไปนี้

โครงการเตรียมความรู้มุ่งสู่โอลิมปิก (สอวน.) ต้องมีคะแนนเฉลี่ยในชั้นประถมศึกษาปีที่ ๕ หรือผลการเรียนชั้นประถมศึกษาปีที่ ๖ ภาคเรียนที่ ๑ รายวิชาคณิตศาสตร์ วิทยาศาสตร์ และภาษาอังกฤษ ไม่ต่ำกว่า ๓.๐๐

โครงการอัจฉริยภาพทางวิชาการ ต้องมีคะแนนเฉลี่ยในชั้นประถมศึกษาปีที่ ๕ หรือผลการเรียนชั้นประถมศึกษาปีที่ ๖ ภาคเรียนที่ ๑ รายวิชาคณิตศาสตร์ และวิทยาศาสตร์ ไม่ต่ำกว่า ๓.๐๐

โครงการสอนสองภาษา (Bilingual Programme) ต้องมีคะแนนเฉลี่ยสะสมในระดับประถมศึกษาปีที่ ๕ หรือผลการเรียนชั้นประถมศึกษาปีที่ ๖ ภาคเรียนที่ ๑ รายวิชาภาษาอังกฤษไม่ต่ำกว่า ๓.๐๐

โครงการเตรียมความพร้อมทางวิชาการทหาร ต้องมีคะแนนเฉลี่ยสะสมในระดับประถมศึกษาปีที่ ๕ หรือผลการเรียนชั้นประถมศึกษาปีที่ ๖ ภาคเรียนที่ ๑ รายวิชาคณิตศาสตร์ และภาษาอังกฤษ ไม่ต่ำกว่า ๓.๐๐

โครงการข้างฝือก ๒๑ ต้องมีคะแนนเฉลี่ยสะสมในระดับประถมศึกษาปีที่ ๕ หรือผลการเรียนชั้นประถมศึกษาปีที่ ๖ ภาคเรียนที่ ๑ ไม่ต่ำกว่า ๓.๐๐

๒. เอกสารและหลักฐานการรับสมัคร

๒.๑ ใบสมัครตามแบบของโรงเรียนวินิตศึกษา ในพระราชูปถัมภ์ฯ

๒.๒ มีระเบียบแสดงผลการเรียน (ปพ.๑) กรณีสมัครกับโรงเรียนเดิมให้โรงเรียนรับรองนักเรียนทั้งหมดตามบัญชีรายชื่อ

๒.๓ รูปถ่ายขนาด ๑ นิ้ว จำนวน ๒ รูป ถ่ายไม่เกิน ๖ เดือน หน้าตรงไม่สวมหมวก ไม่สวมแว่นตาดำ และเป็นรูปถ่ายในคราวเดียวกัน

๒.๔ ค่าสมัครสอบ คนละ ๑๐๐ บาท

๓. จำนวนนักเรียนที่รับเข้าศึกษา

โครงการเตรียมความรู้มุ่งสู่อโอลิมปิก	จำนวน ๑๒๐ คน
โครงการอัจฉริยภาพทางวิชาการ	จำนวน ๑๖๐ คน
โครงการสอนสองภาษา (Bilingual Programme)	จำนวน ๑๒๐ คน
โครงการเตรียมความพร้อมทางวิชาการทหาร	จำนวน ๑๖๐ คน
โครงการข้างฝือก ๒๑	จำนวน ๘๐ คน

๔. วันจำหน่ายใบสมัครและรับสมัคร

วันที่ ๑๙ ธ.ค. ๒๕๖๕ – ๑๓ ม.ค. ๒๕๖๖

วินิตศึกษาแห่งที่ ๑ หน้าธนาคารโรงเรียน (ออมสิน) อาคารธรรมญาณ ๘๔ โทร. ๐๖-๓๑๙๒-๗๓๒๗

* วันจันทร์ – วันศุกร์ เวลา ๐๘.๐๐ – ๑๖.๐๐ น.

* สมัครผ่านระบบออนไลน์ (<https://www.ws.ac.th/samug>)

๕. ประกาศรายชื่อผู้มีสิทธิ์สอบและแผนผังที่นั่งสอบ

วันที่ ๑๗ มกราคม ๒๕๖๖

๖. วันสอบคัดเลือกข้อเขียน

วันที่ ๒๒ มกราคม ๒๕๖๖ เวลา ๐๙.๐๐ – ๑๒.๑๐ น.

โรงเรียนวินิตศึกษา ในพระราชูปถัมภ์ฯ (แห่งที่ ๒)

๗. ตารางสอบ

วันที่	เวลา	วิชา
วันที่ ๒๒ ม.ค. ๖๖	๐๙.๐๐ – ๑๑.๐๐ น.	ฉบับที่ ๑ (คณิตศาสตร์ – วิทยาศาสตร์)
	๑๑.๑๐ – ๑๒.๑๐ น.	ฉบับที่ ๒ (สังคมศึกษา – ภาษาไทย – ภาษาอังกฤษ)

หมายเหตุ ๑. ขอบข่ายเนื้อหาวิชาที่สอบคัดเลือกครอบคลุมระดับช่วงชั้นที่ ๒ (ป.๔ – ป.๖)

๒. ในการสอบให้นักเรียนเตรียมเอกสารและอุปกรณ์ดังนี้

- บัตรประจำตัวสอบ - ปากกาลูกลื่นสีดำ หรือสีน้ำเงิน

๘. วันประกาศผลสอบคัดเลือกรอบแรก

วันที่ ๒๒ มกราคม ๒๕๖๖ เวลา ๒๐.๐๐ น.

หรือที่เว็บไซต์ของโรงเรียน (<http://winitsuksa.ws.ac.th>)

๙. การมอบตัวนักเรียน

วันที่ ๒๙ มกราคม ๒๕๖๖

ผู้ปกครองที่จะทำการมอบตัวได้ จะต้องมีบิดา – มารดา หรือญาติผู้ใหญ่ หรือผู้อุปการะที่มี อาชีพเป็นหลักฐานและมีชื่ออยู่ในสำเนาทะเบียนบ้านร่วมกับนักเรียน โรงเรียนจะไม่รับพิจารณา ให้บุคคลที่ไม่ได้อยู่บ้านเดียวกับนักเรียน หรือผู้ที่กำลังศึกษาเล่าเรียนอยู่ เป็นผู้ปกครองนักเรียน โดยเด็ดขาด

๑๐. ข้อควรปฏิบัติและข้อควรระวัง

๑๐.๑ อ่านประกาศนี้ให้เข้าใจทุกข้อ

๑๐.๒ การติดต่อกับทางโรงเรียนต้องแต่งกายชุดนักเรียน ให้เรียบร้อยถูกต้อง

๑๐.๓ หลักฐานหรือเอกสารที่โรงเรียนต้องการตามกำหนดไว้ให้ผู้สมัครเตรียมให้พร้อม

มีฉะนั้นอาจเสียสิทธิ์การเข้าเป็นนักเรียนของโรงเรียนได้

๑๐.๔ ต้องยื่นใบสมัครตามกำหนดวันและเวลาที่ระบุไว้

๑๐.๕ ผู้สมัครต้องนำบัตรประจำตัวสอบมาแสดงทุกครั้งที่มาติดต่อ

๑๐.๖ อย่าเชื่อคำแอบอ้าง อย่าให้สินจ้างรางวัลแก่ผู้ใด เพราะไม่มีผู้ใดจะให้การช่วยเหลือท่านได้

นอกจากตัวท่านเอง

ประกาศ ณ วันที่ ๑ พฤศจิกายน พุทธศักราช ๒๕๖๕



(พระเทพเสนาบดี)

ผู้อำนวยการโรงเรียนวินิตศึกษา ในพระราชูปถัมภ์ฯ



ประกาศโรงเรียนวินิตศึกษา ในพระราชูปถัมภ์ฯ
ฉบับที่ ๕๗/๒๕๖๕
เรื่อง การรับนักเรียนเข้าเรียนระดับชั้นมัธยมศึกษาปีที่ ๑
รอบทั่วไป ปีการศึกษา ๒๕๖๖

ด้วย โรงเรียนวินิตศึกษา ในพระราชูปถัมภ์ฯ ได้กำหนดเปิดรับสมัครสอบคัดเลือกนักเรียนเพื่อเข้าศึกษาต่อในชั้นมัธยมศึกษาปีที่ ๑ รอบทั่วไป ปีการศึกษา ๒๕๖๖ ดังรายละเอียดต่อไปนี้

๑. คุณสมบัติของผู้สมัคร

- ๑.๑ สำเร็จการศึกษาชั้นประถมศึกษาปีที่ ๖ หรือเทียบเท่า หรือกำลังเรียนอยู่ในชั้นประถมศึกษาปีที่ ๖ ปีการศึกษา ๒๕๖๕
- ๑.๒ ไม่เป็นโรคติดต่อหรือโรคร้ายแรงอันเป็นอุปสรรคต่อการเรียน
- ๑.๓ มีความขยันหมั่นเพียร ความประพฤติดี และมีบุคลิกภาพเหมาะสมเป็นสังคม
- ๑.๔ มีความตั้งใจเข้าร่วมโครงการ และได้รับการสนับสนุนจากผู้ปกครอง

๒. เอกสารและหลักฐานการรับสมัคร

- ๒.๑ ใบสมัครตามแบบของโรงเรียนวินิตศึกษา ในพระราชูปถัมภ์ฯ
- ๒.๒ หลักฐานการเรียน
 - เอกสาร ปพ.๑ ฉบับจริง พร้อมสำเนา ปพ.๖ ชั้นประถมศึกษาปีที่ ๕ หรือผลการเรียนชั้นประถมศึกษาปีที่ ๖ ภาคเรียนที่ ๑ พร้อมสำเนาเอกสาร และรับรองสำเนาถูกต้อง
 - รูปถ่ายขนาด ๑ นิ้ว จำนวน ๒ รูป ถ่ายไม่เกิน ๖ เดือน หน้าตรงไม่สวมหมวก ไม่สวมแว่นตาดำ และเป็นรูปถ่ายในคราวเดียวกัน
- ๒.๓ ค่าสมัครสอบ คนละ ๑๐๐ บาท

๓. จำนวนนักเรียนที่รับเข้าศึกษา

จำนวน ๑๘๐ คน

๔. วันจำหน่ายใบสมัครและรับสมัคร

วันที่ ๒๓ ม.ค. - ๓ มี.ค. ๒๕๖๖

วินิตศึกษาแห่งที่ ๑ หน้าธนาคารโรงเรียน (ออมสิน) อาคารธรรมญาณ ๘๔

โทร. ๐๖๓-๑๙๒๗๓๒๗

* วันจันทร์ - วันศุกร์ เวลา ๐๘.๐๐ - ๑๖.๐๐ น.

* สมัครผ่านระบบออนไลน์ (<https://www.ws.ac.th/samug>)

๕. ประกาศรายชื่อผู้มีสิทธิ์สอบ

วันที่ ๙ มีนาคม ๒๕๖๖

๖. วันสอบคัดเลือกข้อเขียน

วันเวลาสอบข้อเขียน

วันที่ ๑๑ มีนาคม ๒๕๖๖ เวลา ๐๙.๐๐ – ๑๒.๑๐ น.

วันที่	เวลา	วิชา
วันที่ ๑๑ มี.ค. ๖๖	๐๙.๐๐ – ๑๑.๐๐ น.	ฉบับที่ ๑ (คณิตศาสตร์ – วิทยาศาสตร์)
	๑๑.๑๐ – ๑๒.๑๐ น.	ฉบับที่ ๒ (สังคมศึกษา – ภาษาไทย – ภาษาอังกฤษ)

หมายเหตุ

- ขอขานเนื้อหาวิชาที่สอบคัดเลือกครอบคลุมระดับช่วงชั้นที่ ๒ (ป.๔ – ป.๖)
- ในการสอบให้นักเรียนเตรียมเอกสารและอุปกรณ์ดังนี้
 - บัตรประจำตัวสอบ
 - ปากกาลูกกลิ้งสีดำ หรือสีน้ำเงิน

๗. วันประกาศผลสอบคัดเลือก

วันที่ ๑๑ มี.ค. ๒๕๖๖ หรือที่เว็บไซต์ของโรงเรียน (<http://winitsuksa.ws.ac.th>)

๘. การมอบตัวนักเรียน

วันที่ ๑๑ มี.ค. ๒๕๖๖ เวลา ๑๓.๐๐ – ๑๕.๐๐ น.


ถ้าไม่มามอบตัวตามวันเวลาที่กำหนดถือว่าสละสิทธิ์

ผู้ปกครองที่จะทำการมอบตัวได้ จะต้องมีบิดา – มารดา หรือญาติผู้ใหญ่ หรือผู้อุปการะที่มีอาชีพเป็นหลักฐานและมีชื่ออยู่ในสำเนาทะเบียนบ้านร่วมกับนักเรียน โรงเรียนจะไม่รับพิจารณาให้บุคคลที่ไม่ได้อยู่บ้านเดียวกับนักเรียน หรือผู้ที่กำลังศึกษาเล่าเรียนอยู่ เป็นผู้ปกครองนักเรียนโดยเด็ดขาด

๙. ข้อควรปฏิบัติและข้อควรระวัง

- ๙.๑ อ่านประกาศนี้ให้เข้าใจทุกข้อ
- ๙.๒ การติดต่อกับทางโรงเรียนต้องแต่งกายชุดนักเรียน ให้เรียบร้อยถูกต้อง
- ๙.๓ หลักฐานหรือเอกสารที่โรงเรียนต้องการตามกำหนดไว้ให้ผู้สมัครเตรียมให้พร้อม มิฉะนั้นอาจเสียสิทธิ์การเข้าเป็นนักเรียนของโรงเรียนได้
- ๙.๔ ต้องยื่นใบสมัครตามกำหนดวันและเวลาที่ระบุไว้
- ๙.๕ ผู้สมัครต้องนำบัตรประจำตัวสอบมาแสดงทุกครั้งที่มาติดต่อ
- ๙.๖ อย่าเชื่อคำแอบอ้าง อย่าให้สินจ้างรางวัลแก่ผู้ใด เพราะไม่มีผู้ใดจะให้การช่วยเหลือท่านได้นอกจากตัวท่านเอง

ประกาศ ณ วันที่ ๑ พฤศจิกายน พุทธศักราช ๒๕๖๕



(พระเทพเสนาบดี)

ผู้อำนวยการโรงเรียนวินิตศึกษา ในพระราชูปถัมภ์ฯ



ตารางกำหนดการรับสมัครนักเรียนเข้าศึกษาต่อ ระดับชั้นมัธยมศึกษาปีที่ ๔

โรงเรียนวินิตศึกษา ในพระราชูปถัมภ์ฯ จังหวัดลพบุรี

ปีการศึกษา ๒๕๖๖

ที่	โครงการ	การรับสมัคร	กำหนดการสอบ	ประกาศผล	มอบตัว	ค่าโครงการพิเศษ	รับ /จำนวน
๑	ห้องเรียนพิเศษ Textbook	๗ พ.ย - ๑๓ ธ.ค. ๖๕	๑๘ ธ.ค. ๖๕ (สอบข้อเขียน) ๐๙.๐๐ เป็นต้นไป	๑๘ ธ.ค. ๖๕ ๒๐.๐๐ น.	๒๕ ธ.ค. ๖๕ ๐๘.๓๐- ๑๖.๐๐ น.	๘,๐๐๐	๙๐
๒	เตรียมความรู้มุ่งสู่มหาวิทยาลัย RTU * วิทยาศาสตร์ - คณิต * ศิลป์ - ภาษา	๑๙ ธ.ค ๖๕ - ๑๓ ม.ค ๖๖	๒๒ ม.ค. ๖๖ (สอบข้อเขียน) ๐๘.๓๐ - ๑๒.๑๐ น.	๒๒ ม.ค. ๖๖ ๒๐.๐๐ น.	๒๙ ม.ค. ๖๖ ๐๘.๓๐- ๑๕.๐๐ น.	๖,๐๐๐	๘๐
๓	เตรียมความพร้อมทางวิชาการทหาร (วิทยาศาสตร์ - คณิต)					๕,๐๐๐	๔๐

* หมายเหตุ ไม่รวมค่าใช้จ่ายอื่นๆ

ผู้ประสานงาน

นางทิพวรรณ	กองสุทธิใจ	๐๘๑ - ๗๐๔๖๔๘๘
นางสาวกมลชา	แก้วเพ็ง	๐๙๙ - ๖๑๕๕๙๒๙
นางสาวภัททิยา	ภูริภัตสรกุล	๐๙๙ - ๓๙๔๒๖๙๔
นางสาววราภรณ์	วงษ์ทอง	๐๙๗ - ๑๙๓๔๒๙๓
นางสาวธิติยา	ทองอยู่	๐๙๒ - ๖๘๗๓๓๑๑
นางสาวข้าวทิพย์	อ่อนอรุณ	๐๘๖ - ๗๖๗๖๔๙๙
นางสาวธัญลักษณ์	แก้วกำเลิศ	๐๘๑ - ๒๔๖๔๑๙๕



ประกาศโรงเรียนวินิตศึกษา ในพระราชูปถัมภ์ฯ
ฉบับที่ ๕๔/๒๕๖๕
เรื่อง การรับนักเรียนเข้าเรียนระดับชั้นมัธยมศึกษาปีที่ ๔
ห้องเรียนพิเศษ Textbook ปีการศึกษา ๒๕๖๖

ตามพระราชบัญญัติการศึกษาแห่งชาติ พ.ศ. ๒๕๔๒ แก้ไขเพิ่มเติม (ฉบับที่ ๒) พ.ศ. ๒๕๔๕ ภาระบวกรจัดการศึกษา ต้องส่งเสริมให้นักเรียนสามารถพัฒนาตามธรรมชาติ และเต็มตามศักยภาพ โรงเรียนวินิตศึกษา ในพระราชูปถัมภ์ฯ จึงได้จัดให้มี **ห้องเรียนพิเศษ Textbook** เพื่อส่งเสริมให้นักเรียนให้มีความสามารถในการเรียน คณิตศาสตร์ วิทยาศาสตร์ และเทคโนโลยี ภาควิชาภาษาอังกฤษ

เพื่อให้การดำเนินการรับนักเรียนเข้าเรียนโครงการพิเศษ ระดับชั้นมัธยมศึกษาปีที่ ๔ ปีการศึกษา ๒๕๖๖ เป็นไปด้วยความเรียบร้อย มีรายละเอียดดังนี้

๑. คุณสมบัติของผู้สมัคร

๑.๑ กำลังเรียนอยู่ในระดับชั้นมัธยมศึกษาปีที่ ๓ หรือเทียบเท่า ปีการศึกษา ๒๕๖๕

๑.๒ มีผลการเรียน ดังนี้

๑.๒.๑ คะแนนเฉลี่ยสะสมรวมทุกวิชาในระดับชั้นมัธยมศึกษาปีที่ ๑ และ ๒
ไม่ต่ำกว่า ๓.๐๐

๑.๒.๒ คะแนนเฉลี่ยสะสมกลุ่มสาระการเรียนรู้วิทยาศาสตร์ในชั้นมัธยมศึกษาปีที่ ๑
และ ๒ ไม่ต่ำกว่า ๓.๐๐

๑.๒.๓ คะแนนเฉลี่ยสะสมกลุ่มสาระการเรียนรู้คณิตศาสตร์ในชั้นมัธยมศึกษาปีที่ ๑
และ ๒ ไม่ต่ำกว่า ๓.๐๐

๑.๒.๔ คะแนนเฉลี่ยสะสมกลุ่มสาระการเรียนรู้ภาษาต่างประเทศ (วิชาภาษาอังกฤษ)
ในชั้นมัธยมศึกษาปีที่ ๑ และ ๒ ไม่ต่ำกว่า ๓.๐๐

๑.๓ มีสัญชาติไทย และมีเลขประจำตัวประชาชน

๑.๔ ไม่เป็นโรคที่เป็นอุปสรรคต่อการเรียน

๑.๕ มีความขยันหมั่นเพียร มีความประพฤติดี และมีบุคลิกภาพเหมาะสม

๑.๖ มีความตั้งใจเข้าเรียนในโรงเรียนวินิตศึกษา ในพระราชูปถัมภ์ฯ และสนใจศึกษาต่อระดับ
อุดมศึกษาด้านวิทยาศาสตร์สุขภาพ วิทยาศาสตร์เทคโนโลยี โดยได้รับการสนับสนุนจาก
ผู้ปกครอง

๑.๗ ยินดีปฏิบัติตามระเบียบของโรงเรียน ทั้งในปัจจุบันหรือที่จะได้มีการกำหนดในอนาคต

ห้องเรียนพิเศษ Textbook ต้องมีคะแนนเฉลี่ยสะสม ๕ ภาคเรียน ไม่ต่ำกว่า ๓.๐๐ และ คะแนนเฉลี่ย
สะสม ๕ ภาคเรียน รายวิชาคณิตศาสตร์ วิทยาศาสตร์ ภาษาอังกฤษ ไม่ต่ำกว่า ๓.๐๐

กำหนดการรับสมัคร

เปิดรับสมัครตั้งแต่วันที่ ๗ พฤศจิกายน ถึงวันที่ ๑๓ ธันวาคม ๒๕๖๕

- ค่าธรรมเนียมการสมัครสอบคนละ ๑๐๐ บาท
- สามารถดาวน์โหลดคู่มือได้จากเว็บไซต์ โรงเรียนวินิตศึกษา ในพระราชูปถัมภ์ฯ (<https://www.ws.ac.th/samug>)

๒. ขั้นตอน และวิธีการรับสมัคร

ขั้นตอนที่ ๑ การลงทะเบียนผู้สมัคร

เปิดเว็บไซต์ <https://www.ws.ac.th/textbookm4> และคลิกที่เมนู “การรับเข้าศึกษา”

ทำตามขั้นตอนที่แนะนำใน เว็บไซต์ ดังนี้

- กรอกข้อมูลผู้สมัครในเว็บไซต์ให้สมบูรณ์

ขั้นตอนที่ ๒ การกรอกใบสมัครและหลักฐานการสมัคร

กรณีกรอกใบสมัครผ่านลิงค์

ลิงค์ <https://www.ws.ac.th/textbookm4> และคลิกที่เมนู “การรับเข้าศึกษา” ทำตาม

ขั้นตอนที่แนะนำในเว็บไซต์ ดังนี้

- (๑) เลือกโรงเรียนที่นักเรียนประสงค์จะสมัครเข้าศึกษาต่อ
- (๒) อัปโหลดไฟล์เอกสารและหลักฐานสำหรับการสมัคร เสร็จสิ้นแล้วกดส่งใบสมัคร

กรณีที่ไม่สามารถแนบเอกสารหลักฐานการสมัครได้ สามารถนำส่งไปรษณีย์ลงทะเบียนมาที่งานสนับสนุนวิชาการ โรงเรียนวินิตศึกษา ในพระราชูปถัมภ์ฯ เลขที่ ๑๐ ถนนเพชรราชา ตำบลท่าหิน อำเภอเมืองลพบุรี จังหวัดลพบุรี ๑๕๐๐๐

หลักฐานการสมัคร

- มีระเบียบแสดงผลการเรียน (ปพ.๑) กรณีสมัครกับโรงเรียนเดิมให้โรงเรียนรับรองนักเรียนทั้งหมดตามบัญชีรายชื่อ
- รูปถ่ายขนาด ๑ นิ้ว จำนวน ๒ รูป ถ่ายไม่เกิน ๖ เดือน หน้าตรงไม่สวมหมวก ไม่สวมแว่นตา และเป็นรูปถ่ายในคราวเดียวกัน

- ค่าธรรมเนียมการสมัครสอบคนละ ๑๐๐ บาท
- สามารถดาวน์โหลดคู่มือได้จากเว็บไซต์ โรงเรียนวินิตศึกษา ในพระราชูปถัมภ์ฯ

ขั้นตอนที่ ๓ การชำระค่าธรรมเนียมการสมัครสอบ

- สั่งพิมพ์ใบแจ้งยอดชำระเงิน เพื่อนำไปชำระเงินจำนวน ๑๐๐ บาท ผ่านเคาน์เตอร์ธนาคาร
- เก็บหลักฐานการชำระเงินไว้เพื่อเป็นหลักฐานอ้างอิงด้วย

หมายเหตุ : โดยสมัครสอบวันสุดท้าย (วันที่ ๑๑ ธันวาคม ๒๕๖๕) ต้องชำระเงินให้แล้วเสร็จภายใน วันที่ ๑๒ ธันวาคม ๒๕๖๕

ขั้นตอนที่ ๔ การตรวจสอบคุณสมบัติ

- ทางโรงเรียนจะดำเนินการตรวจสอบคุณสมบัติ จากหลักฐานที่นักเรียนส่งมา

ขั้นตอนที่ ๕ การตรวจสอบสิทธิ์ในการเข้าสอบและพิมพ์บัตรประจำตัวผู้เข้าสอบ

- นักเรียนตรวจสอบสิทธิ์การเข้าสอบและสั่งพิมพ์บัตรประจำตัวผู้เข้าสอบ เพื่อนำมาใช้แสดงตนในวันสอบ

หมายเหตุ : วันสุดท้ายของการตรวจสอบสิทธิ์ในการเข้าสอบคือวันที่ ๑๔ ธันวาคม ๒๕๖๕

หากพ้นกำหนดถือว่าสละสิทธิ์ในการเข้าสอบ

๓. จำนวนนักเรียนที่รับเข้าศึกษา

ห้องเรียนพิเศษ Textbook จำนวน ๙๐ คน

๔. ประกาศรายชื่อผู้ที่มีสิทธิ์สอบและแผนผังที่นั่งสอบ

วันที่ ๑๕ ธันวาคม ๒๕๖๕

๕. ตารางสอบ

วันที่	เวลา	วิชา
วันที่ ๑๘ ธ.ค. ๖๕	๐๙.๐๐ – ๑๑.๐๐ น.	คณิตศาสตร์ – วิทยาศาสตร์ – ภาษาอังกฤษ

หมายเหตุ

๑. ขอบข่ายเนื้อหาวิชาที่สอบคัดเลือกครอบคลุมระดับช่วงชั้นที่ ๓ (ม.๑ – ม.๓)

๒. ในการสอบให้นักเรียนเตรียมเอกสารและอุปกรณ์ดังนี้

- บัตรประจำตัวสอบ, บัตรประจำตัวนักเรียน, บัตรประจำตัวประชาชน, หรือบัตรอื่นที่มีรูปถ่ายและออกโดยหน่วยงานราชการ
- ปากกาลูกกลิ้งสีดำ หรือสีน้ำเงิน

๖. วันประกาศผลสอบคัดเลือก

วันที่ ๑๘ ธันวาคม ๒๕๖๕

หรือที่เว็บไซต์ของโรงเรียน (<https://www.ws.ac.th/samug>)

๗. การมอบตัวนักเรียน


วันที่ ๒๕ ธันวาคม ๒๕๖๕

ผู้ปกครองที่จะทำการมอบตัวได้ จะต้องมีบิดา – มารดา หรือญาติผู้ใหญ่ หรือผู้อุปการะ ที่มีอาชีพเป็นหลักฐานและมีชื่ออยู่ในสำเนาทะเบียนบ้านร่วมกับนักเรียน โรงเรียนจะไม่รับพิจารณาให้บุคคลที่ไม่ได้อยู่บ้านเดียวกับนักเรียน หรือผู้ที่กำลังศึกษาเล่าเรียนอยู่ เป็นผู้ปกครองนักเรียนโดยเด็ดขาด

๘. ข้อควรปฏิบัติและข้อควรระวัง

- ๘.๑ อ่านประกาศนี้ให้เข้าใจทุกข้อ
- ๘.๒ การติดต่อกับทางโรงเรียนต้องแต่งกายชุดนักเรียน ให้เรียบร้อยถูกต้อง
- ๘.๓ หลักฐานหรือเอกสารที่โรงเรียนต้องการตามกำหนดไว้ให้ผู้สมัครเตรียมให้พร้อม มิฉะนั้นอาจเสียสิทธิ์การเข้าเป็นนักเรียนของโรงเรียนได้
- ๘.๔ ต้องยื่นใบสมัครตามกำหนดวันและเวลาที่ระบุไว้
- ๘.๕ ผู้สมัครต้องนำบัตรประจำตัวสอบมาแสดงทุกครั้งที่มาติดต่อ
- ๘.๖ อย่าเชื่อคำแอบอ้าง อย่าให้สินจ้างรางวัลแก่ผู้ใด เพราะไม่มีผู้ใดจะให้การช่วยเหลือท่านได้นอกจากตัวท่านเอง

ประกาศ ณ วันที่ ๑ พฤศจิกายน พุทธศักราช ๒๕๖๕


(พระเทพเสนาบดี)

ผู้อำนวยการโรงเรียนวินิตศึกษา ในพระราชูปถัมภ์ฯ



ประกาศโรงเรียนวินิตศึกษา ในพระราชูปถัมภ์ฯ
ฉบับที่ ๕๕/๒๕๖๕
เรื่อง การรับนักเรียนเข้าเรียนระดับชั้นมัธยมศึกษาปีที่ ๔
รอบโควตาถูกวินิต (ห้องเรียนพิเศษ Textbook) ปีการศึกษา ๒๕๖๖

ตามพระราชบัญญัติการศึกษาแห่งชาติ พ.ศ. ๒๕๔๒ แก้ไขเพิ่มเติม (ฉบับที่ ๒) พ.ศ. ๒๕๔๕ ระเบียบกระทรวงศึกษาธิการว่าด้วยการรับนักเรียน พ.ศ. ๒๕๕๑ และมติคณะกรรมการบริหารการศึกษาระดับมัธยมศึกษาตอนต้น พ.ศ. ๒๕๕๑ ระเบียบกระทรวงศึกษาธิการว่าด้วยการรับนักเรียน พ.ศ. ๒๕๖๑ และมติคณะกรรมการบริหารการศึกษาระดับมัธยมศึกษาตอนต้น พ.ศ. ๒๕๖๑ ประกอบกับนโยบายของกระทรวงศึกษาธิการ ในการส่งเสริมให้นักเรียนมีความสามารถตามธรรมชาติและเต็มตามศักยภาพ โรงเรียนวินิตศึกษา ในพระราชูปถัมภ์ฯ จึงได้จัดให้มี **ห้องเรียนพิเศษ Textbook** เพื่อส่งเสริมให้นักเรียนให้มีความสามารถในการเรียน คณิตศาสตร์ วิทยาศาสตร์ และเทคโนโลยี ภาควิชาภาษาอังกฤษ

เพื่อให้การดำเนินการรับนักเรียนเข้าเรียนห้องเรียนพิเศษ Textbook ระดับชั้นมัธยมศึกษาปีที่ ๔ ปีการศึกษา ๒๕๖๖ เป็นไปด้วยความเรียบร้อย มีรายละเอียดดังนี้

๑. คุณสมบัติของผู้สมัคร

๑.๑ กำลังเรียนอยู่ในระดับชั้นมัธยมศึกษาปีที่ ๓ โรงเรียนวินิตศึกษา ในพระราชูปถัมภ์ฯ ปีการศึกษา ๒๕๖๕

๑.๒ มีผลการเรียน ดังนี้

๑.๒.๑ คะแนนเฉลี่ยสะสมรวมทุกวิชาในระดับชั้นมัธยมศึกษาปีที่ ๑ และ ๒ ไม่ต่ำกว่า ๓.๐๐

๑.๒.๒ คะแนนเฉลี่ยสะสมกลุ่มสาระการเรียนรู้วิทยาศาสตร์ในระดับชั้นมัธยมศึกษาปีที่ ๑ และ ๒ ไม่ต่ำกว่า ๓.๐๐

๑.๒.๓ คะแนนเฉลี่ยสะสมกลุ่มสาระการเรียนรู้คณิตศาสตร์ในระดับชั้นมัธยมศึกษาปีที่ ๑ และ ๒ ไม่ต่ำกว่า ๓.๐๐

๑.๒.๔ คะแนนเฉลี่ยสะสมกลุ่มสาระการเรียนรู้ภาษาต่างประเทศ (วิชาภาษาอังกฤษ) ในชั้นมัธยมศึกษาปีที่ ๑ และ ๒ ไม่ต่ำกว่า ๓.๐๐

๑.๓ มีสัญชาติไทย และมีเลขประจำตัวประชาชน

๑.๔ ไม่เป็นโรคที่เป็นอุปสรรคต่อการเรียน

๑.๕ มีความขยันหมั่นเพียร มีความประพฤติดี และมีบุคลิกภาพเหมาะสม

๑.๖ มีความตั้งใจเข้าเรียนในโรงเรียนวินิตศึกษา ในพระราชูปถัมภ์ฯ และสนใจศึกษาต่อระดับอุดมศึกษาด้านวิทยาศาสตร์สุขภาพ วิทยาศาสตร์เทคโนโลยี โดยได้รับการสนับสนุนจากผู้ปกครอง

๑.๗ ยินดีปฏิบัติตามระเบียบของโรงเรียน ทั้งในปัจจุบันหรือที่จะได้มีการกำหนดในอนาคต

ห้องเรียนพิเศษ Textbook ต้องมีคะแนนเฉลี่ยสะสม ๕ ภาคเรียน ไม่ต่ำกว่า ๓.๐๐ และคะแนนเฉลี่ยสะสม ๕ ภาคเรียน รายวิชาคณิตศาสตร์ วิทยาศาสตร์ ภาษาอังกฤษ ไม่ต่ำกว่า ๓.๐๐

กำหนดการรับสมัคร

เปิดรับสมัครตั้งแต่วันที่ ๗ พฤศจิกายน ถึงวันที่ ๑๓ ธันวาคม ๒๕๖๕

๒. ขั้นตอน และวิธีการรับสมัคร

กรอกใบสมัครผ่านลิงค์ <https://www.ws.ac.th/quotam4> (ไม่เสียค่าสมัคร)

หมายเหตุ : วันสุดท้ายของการตรวจสอบสิทธิ์ในการเข้าสอบคือวันที่ ๑๕ ธันวาคม ๒๕๖๕

หากพังกำหนดถือว่าสละสิทธิ์ในการเข้าสอบ

๓. จำนวนนักเรียนที่รับเข้าศึกษา

ห้องเรียนพิเศษ Textbook จำนวน ๑๒๐ คน

๔. ประกาศรายชื่อผู้ที่มีสิทธิ์สอบและแผนผังที่นั่งสอบ

วันที่ ๑๕ ธันวาคม ๒๕๖๕

๕. ตารางสอบ

วันที่	เวลา	วิชา
วันที่ ๑๘ ธ.ค. ๖๕	๐๙.๐๐ – ๑๑.๐๐ น.	คณิตศาสตร์ – วิทยาศาสตร์ – ภาษาอังกฤษ

หมายเหตุ

๑. ขอบข่ายเนื้อหาวิชาที่สอบคัดเลือกครอบคลุมระดับช่วงชั้นที่ ๓ (ม.๑ – ม.๓)

๒. ในการสอบให้นักเรียนเตรียมเอกสารและอุปกรณ์ดังนี้

- บัตรประจำตัวสอบ, บัตรประจำตัวนักเรียน, บัตรประจำตัวประชาชน, หรือบัตรอื่นที่มีรูปถ่ายและออกโดยหน่วยงานราชการ
- ปากกาลูกลื่นสีดำ หรือสีน้ำเงิน

๖. วันประกาศผลสอบคัดเลือก

วันที่ ๑๘ ธันวาคม ๒๕๖๕

หรือที่เว็บไซต์ของโรงเรียน (<http://winitsuksa.ws.ac.th>)

๗. ยืนยันสิทธิ์การมอบตัวนักเรียน

วันที่ ๑๘ - ๒๒ ธันวาคม ๒๕๖๕

๘. การมอบตัวนักเรียน

วันที่ ๒๕ ธันวาคม ๒๕๖๕

ผู้ปกครองที่จะทำการมอบตัวได้ จะต้องมีบิดา – มารดา หรือญาติผู้ใหญ่ หรือผู้อุปการะ ที่มีอาชีพเป็นหลักฐานและมีชื่ออยู่ในสำเนาทะเบียนบ้านร่วมกับนักเรียน โรงเรียนจะไม่รับพิจารณาให้บุคคลที่ไม่ได้อยู่บ้านเดียวกับนักเรียน หรือผู้ที่กำลังศึกษาเล่าเรียนอยู่ เป็นผู้ปกครองนักเรียน โดยเด็ดขาด

๙. ข้อควรปฏิบัติและข้อควรระวัง

- ๙.๑ อ่านประกาศนี้ให้เข้าใจทุกข้อ
- ๙.๒ การติดต่อกับทางโรงเรียนต้องแต่งกายชุดนักเรียน ให้เรียบร้อยถูกต้อง
- ๙.๓ หลักฐานหรือเอกสารที่โรงเรียนต้องการตามกำหนดไว้ให้ผู้สมัครเตรียมให้พร้อม มิฉะนั้นอาจเสียสิทธิ์การเข้าเป็นนักเรียนของโรงเรียนได้
- ๙.๔ ต้องยื่นใบสมัครตามกำหนดวันและเวลาที่ระบุไว้
- ๙.๕ ผู้สมัครต้องนำบัตรประจำตัวสอบมาแสดงทุกครั้งที่มาติดต่อ
- ๙.๖ อย่าเชื่อคำแอบอ้าง อย่าให้สินจ้างรางวัลแก่ผู้ใด เพราะไม่มีผู้ใดจะให้การช่วยเหลือท่าน
ได้นอกจากตัวท่านเอง

ประกาศ ณ วันที่ ๑ พฤศจิกายน พุทธศักราช ๒๕๖๕


(พระเทพเสนาบดี)

ผู้อำนวยการโรงเรียนวินิตศึกษา ในพระราชูปถัมภ์ฯ



ประกาศโรงเรียนวินิตศึกษา ในพระราชูปถัมภ์ฯ
ฉบับที่ ๕๗/๒๕๖๕
เรื่อง การรับนักเรียนเข้าเรียนระดับชั้นมัธยมศึกษาปีที่ ๔ (โควตาคุณวินิต)
โครงการเตรียมความรู้มุ่งสู่มหาวิทยาลัย (RTU) โครงการเตรียมความพร้อมทางวิชาการทหาร
ปีการศึกษา ๒๕๖๖

ตามพระราชบัญญัติการศึกษาแห่งชาติ พ.ศ. ๒๕๔๒ แก้ไขเพิ่มเติม (ฉบับที่ ๒) พ.ศ. ๒๕๔๕ ภาระงานการจัดการศึกษา ต้องส่งเสริมให้นักเรียนสามารถพัฒนาตามธรรมชาติ และเต็มตามศักยภาพ โรงเรียนวินิตศึกษา ในพระราชูปถัมภ์ฯ จึงได้จัดให้มี โครงการเตรียมความรู้มุ่งสู่มหาวิทยาลัย (RTU) เพื่อส่งเสริมนักเรียนที่มีความสามารถทางด้านคณิตศาสตร์ วิทยาศาสตร์และเทคโนโลยี ภาษาต่างประเทศ ภาษาไทย และสังคมศึกษา ศาสนาและวัฒนธรรม ให้นักเรียนได้พัฒนาความสามารถให้เต็มศักยภาพตามความสามารถ และความสนใจของนักเรียน โครงการเตรียมความพร้อมทางวิชาการทหาร ส่งเสริมนักเรียนที่มีความสามารถทางด้านคณิตศาสตร์ วิทยาศาสตร์ และภาษาต่างประเทศ เพื่อเตรียมความพร้อมสำหรับนักเรียนที่มีเป้าหมายสู่โรงเรียนเตรียมทหาร และระดับอุดมศึกษา

เพื่อให้การดำเนินการรับนักเรียนเข้าเรียนโครงการพิเศษ ระดับชั้นมัธยมศึกษาปีที่ ๔ ปีการศึกษา ๒๕๖๕ เป็นไปด้วยความเรียบร้อย มีรายละเอียดดังนี้

๑. คุณสมบัติของผู้สมัคร

๑.๑ ประเภทสอบคัดเลือก

- ๑.๑.๑ กำลังศึกษาระดับชั้นมัธยมศึกษาปีที่ ๓ โรงเรียนวินิตศึกษา ในพระราชูปถัมภ์ฯ ปีการศึกษา ๒๕๖๕
- ๑.๑.๒ มีระดับคะแนนเฉลี่ยสะสม ๕ ภาคเรียน ๓.๐๐
- ๑.๑.๓ ไม่เป็นโรคติดต่อหรือโรคร้ายแรงอันเป็นอุปสรรคต่อการเรียน
- ๑.๑.๔ มีความขยันหมั่นเพียร มีความประพฤติดี ได้รับการรับรองจากฝ่ายปกครอง โรงเรียนวินิตศึกษา ในพระราชูปถัมภ์ฯ
- ๑.๑.๕ มีความตั้งใจเข้าร่วมโครงการ และได้รับการสนับสนุนจากผู้ปกครอง
- ๑.๑.๖ นักเรียนต้องมีผลการเรียนตามเกณฑ์ต่อไปนี้

โครงการเตรียมความรู้มุ่งสู่มหาวิทยาลัย (RTU)

แผนวิทย์ - คณิต ต้องมีคะแนนเฉลี่ยสะสม ๕ ภาคเรียน ไม่ต่ำกว่า ๓.๐๐ และคะแนนเฉลี่ยสะสม ๕ ภาคเรียน รายวิชาคณิตศาสตร์ วิทยาศาสตร์ ไม่ต่ำกว่า ๓.๐๐

แผนศิลป์ – ภาษา ต้องมีคะแนนเฉลี่ยสะสม ๕ ภาคเรียน ไม่ต่ำกว่า ๓.๐๐ และคะแนนเฉลี่ยสะสม ๕ ภาคเรียน รายวิชาภาษาอังกฤษ ไม่ต่ำกว่า ๓.๐๐

โครงการเตรียมความพร้อมทางวิชาการทหาร เป็นเพศชาย และต้องมีคะแนนเฉลี่ยสะสม ๕ ภาคเรียน ไม่ต่ำกว่า ๓.๐๐ รายวิชาคณิตศาสตร์ วิทยาศาสตร์ ภาษาอังกฤษ ไม่ต่ำกว่า ๓.๐๐

กำหนดการรับสมัคร

เปิดรับสมัครตั้งแต่วันที่ ๙ มกราคม ๒๕๖๖ ถึงวันที่ ๒๖ มกราคม ๒๕๖๖ (ไม่เสียค่าใช้จ่าย)

- สามารถดาวน์โหลดคู่มือได้จากเว็บไซต์ โรงเรียนวินิตศึกษา ในพระราชูปถัมภ์ฯ

(<https://www.ws.ac.th/samug>)

๒. ขั้นตอน และวิธีการรับสมัคร

กรอกใบสมัครผ่านลิงค์ <https://www.ws.ac.th/samug> และคลิกที่เมนู “การรับเข้าศึกษา” ทำตามขั้นตอนที่แนะนำในเว็บไซต์

หมายเหตุ : วันสุดท้ายของการตรวจสอบสิทธิ์ในการเข้าสอบคือวันที่ ๒๔ มกราคม ๒๕๖๖

หากพ้นกำหนดถือว่าสละสิทธิ์ในการเข้าสอบ

๓. จำนวนนักเรียนที่รับเข้าศึกษา

โครงการเตรียมความรู้มุ่งสู่มหาวิทยาลัย (RTU) จำนวน ๒๔๐ คน

แผนวิทย์ – คณิต จำนวน ๒๐๐ คน

แผนศิลป์ – ภาษา จำนวน ๔๐ คน

โครงการเตรียมความพร้อมทางวิชาการทหาร จำนวน ๘๐ คน

๔. ประกาศรายชื่อผู้มีสิทธิ์สอบและแผนผังที่นั่งสอบ

วันที่ ๒๗ มกราคม ๒๕๖๖

๕. ตารางสอบ

วันที่	เวลา	วิชา
วันที่ ๒๘ ม.ค.๖๖	๐๙.๐๐ – ๑๑.๐๐ น.	ฉบับที่ ๑ (คณิตศาสตร์ – วิทยาศาสตร์)
	๑๑.๑๐ – ๑๒.๑๐ น.	ฉบับที่ ๒ (สังคมศึกษา – ภาษาไทย – ภาษาอังกฤษ)

หมายเหตุ ๑. ขอบข่ายเนื้อหาวิชาที่สอบคัดเลือกครอบคลุมระดับช่วงชั้นที่ ๓ (ม.๑ – ม.๓)

๒. ในการสอบให้นักเรียนเตรียมเอกสารและอุปกรณ์ดังนี้

- บัตรประจำตัวสอบ

- ปากกาลูกลื่นสีดำ หรือสีน้ำเงิน

๖. วันประกาศผลสอบคัดเลือกรอบแรก

วันที่ ๒๘ มกราคม ๒๕๖๖

หรือที่เว็บไซต์ของโรงเรียน (<https://www.ws.ac.th/samug>)

๗. การมอบตัวนักเรียน

วันที่ ๔ กุมภาพันธ์ ๒๕๖๖

ผู้ปกครองที่จะทำการมอบตัวได้ จะต้องมีบิดา – มารดา หรือญาติผู้ใหญ่ หรือผู้อุปการะ ที่มีอาชีพเป็นหลักฐานและมีชื่ออยู่ในสำเนาทะเบียนบ้านร่วมกับนักเรียน โรงเรียนจะไม่รับพิจารณา ให้บุคคลที่ไม่ได้อยู่บ้านเดียวกับนักเรียน หรือผู้ที่กำลังศึกษาเล่าเรียนอยู่ เป็นผู้ปกครองนักเรียน โดยเด็ดขาด

๘. ข้อควรปฏิบัติและข้อควรระวัง

- ๘.๑ อ่านประกาศนี้ให้เข้าใจทุกข้อ
- ๘.๒ การติดต่อกับทางโรงเรียนต้องแต่งกายชุดนักเรียน ให้เรียบร้อยถูกต้อง
- ๘.๓ หลักฐานหรือเอกสารที่โรงเรียนต้องการตามกำหนดไว้ให้ผู้สมัครเตรียมให้พร้อม มิฉะนั้นอาจเสียสิทธิ์การเข้าเป็นนักเรียนของโรงเรียนได้
- ๘.๔ ต้องยื่นใบสมัครตามกำหนดวันและเวลาที่ระบุไว้
- ๘.๕ ผู้สมัครต้องนำบัตรประจำตัวสอบมาแสดงทุกครั้งที่มาติดต่อ
- ๘.๖ **อย่าเชื่อคำแอบอ้าง** อย่าให้สินจ้างรางวัลแก่ผู้ใด เพราะไม่มีผู้ใดจะให้การช่วยเหลือท่าน
ได้นอกจากตัวท่านเอง

ประกาศ ณ วันที่ ๑ พฤศจิกายน พุทธศักราช ๒๕๖๕

(พระเทพเสนาบดี)

ผู้อำนวยการโรงเรียนวินิตศึกษา ในพระราชูปถัมภ์ฯ



ประกาศโรงเรียนวินิตศึกษา ในพระราชูปถัมภ์ฯ
ฉบับที่ ๕๘/๒๕๖๕
เรื่อง การรับนักเรียนเข้าเรียนระดับชั้นมัธยมศึกษาปีที่ ๔
โครงการเตรียมความรู้มุ่งสู่มหาวิทยาลัย (RTU) โครงการเตรียมความพร้อมทางวิชาการทหาร
ปีการศึกษา ๒๕๖๖

ตามพระราชบัญญัติการศึกษาแห่งชาติ พ.ศ. ๒๕๔๒ แก้ไขเพิ่มเติม (ฉบับที่ ๒) พ.ศ. ๒๕๔๕ ภาระบวกรจัดการศึกษา ต้องส่งเสริมให้นักเรียนสามารถพัฒนาตามธรรมชาติ และเต็มตามศักยภาพ โรงเรียนวินิตศึกษา ในพระราชูปถัมภ์ฯ จึงได้จัดให้มี โครงการเตรียมความรู้มุ่งสู่มหาวิทยาลัย (RTU) เพื่อส่งเสริมนักเรียนที่มีความสามารถทางด้านคณิตศาสตร์ วิทยาศาสตร์และเทคโนโลยี ภาษาต่างประเทศ ภาษาไทย และสังคมศึกษา ศาสนาและวัฒนธรรม ให้นักเรียนได้พัฒนาความสามารถให้เต็มศักยภาพตามความสามารถ และความสนใจของนักเรียน โครงการเตรียมความพร้อมทางวิชาการทหาร ส่งเสริมนักเรียนที่มีความสามารถทางด้านคณิตศาสตร์ วิทยาศาสตร์ และภาษาต่างประเทศ เพื่อเตรียมความพร้อมสำหรับนักเรียนที่มีเป้าหมายสู่โรงเรียนเตรียมทหาร และระดับอุดมศึกษา

เพื่อให้การดำเนินการรับนักเรียนเข้าเรียนโครงการพิเศษ ระดับชั้นมัธยมศึกษาปีที่ ๔ ปีการศึกษา ๒๕๖๕ เป็นไปด้วยความเรียบร้อย มีรายละเอียดดังนี้

๑. คุณสมบัติของผู้สมัคร

๑.๑ ประเภทสอบคัดเลือก

- ๑.๑.๑ สำเร็จการศึกษาชั้นมัธยมศึกษาปีที่ ๓ หรือเทียบเท่า หรือกำลังเรียนอยู่ในชั้นมัธยมศึกษาปีที่ ๓ ปีการศึกษา ๒๕๖๕
- ๑.๑.๒ มีระดับคะแนนเฉลี่ยสะสม ๕ ภาคเรียน ๓.๐๐
- ๑.๑.๓ ไม่เป็นโรคติดต่อหรือโรคร้ายแรงอันเป็นอุปสรรคต่อการเรียน
- ๑.๑.๔ มีความขยันหมั่นเพียร ความประพฤติดี และมีบุคลิกภาพเหมาะสมเป็นสไต
- ๑.๑.๕ มีความตั้งใจเข้าร่วมโครงการ และได้รับการสนับสนุนจากผู้ปกครอง
- ๑.๑.๖ นักเรียนต้องมีผลการเรียนตามเกณฑ์ต่อไปนี้

โครงการเตรียมความรู้มุ่งสู่มหาวิทยาลัย (RTU)

แผนวิทย์ – คณิต ต้องมีคะแนนเฉลี่ยสะสม ๕ ภาคเรียน ไม่ต่ำกว่า ๓.๐๐ และคะแนนเฉลี่ยสะสม ๕ ภาคเรียน รายวิชาคณิตศาสตร์ วิทยาศาสตร์ ไม่ต่ำกว่า ๓.๐๐

แผนศิลป์ – ภาษา ต้องมีคะแนนเฉลี่ยสะสม ๕ ภาคเรียน ไม่ต่ำกว่า ๓.๐๐ และคะแนนเฉลี่ยสะสม ๕ ภาคเรียน รายวิชาภาษาอังกฤษ ไม่ต่ำกว่า ๓.๐๐

โครงการเตรียมความพร้อมทางวิชาการทหาร เป็นเพศชาย และต้องมีคะแนนเฉลี่ยสะสม ๕ ภาคเรียน ไม่ต่ำกว่า ๓.๐๐ รายวิชาคณิตศาสตร์ วิทยาศาสตร์ ภาษาอังกฤษ ไม่ต่ำกว่า ๓.๐๐

กำหนดการรับสมัคร

เปิดรับสมัครตั้งแต่วันที่ ๑๙ ธันวาคม ๒๕๖๕ ถึงวันที่ ๑๓ มกราคม ๒๕๖๖

- ค่าธรรมเนียมการสมัครสอบคนละ ๑๐๐ บาท
- สามารถดาวน์โหลดคู่มือได้จากเว็บไซต์ โรงเรียนวินิตศึกษา ในพระราชูปถัมภ์ฯ (<https://www.ws.ac.th/samug>)

๒. ขั้นตอน และวิธีการรับสมัคร

ขั้นตอนที่ ๑ การลงทะเบียนผู้สมัคร

เปิดเว็บไซต์ <https://www.ws.ac.th/samug> และคลิกที่เมนู “การรับเข้าศึกษา”

ทำตามขั้นตอนที่แนะนำใน เว็บไซต์ ดังนี้

- กรอกข้อมูลผู้สมัครในเว็บไซต์ให้สมบูรณ์

ขั้นตอนที่ ๒ การกรอกใบสมัครและหลักฐานการสมัคร

กรณีกรอกใบสมัครผ่านลิงค์

เปิดเว็บไซต์ <https://www.ws.ac.th/samug> และคลิกที่เมนู “การรับเข้าศึกษา” ทำตามขั้นตอนที่แนะนำในเว็บไซต์ ดังนี้

- (๑) เลือกโรงเรียนที่นักเรียนประสงค์จะสมัครเข้าศึกษาต่อ
- (๒) อัปโหลดไฟล์เอกสารและหลักฐานสำหรับการสมัคร เสร็จสิ้นแล้วกดส่งใบสมัคร

กรณีที่ไม่สามารถแนบเอกสารหลักฐานการสมัครผ่านระบบออนไลน์ได้ ให้เปิดเว็บไซต์ <https://www.ws.ac.th/samug> และคลิกที่เมนู “การรับเข้าศึกษา” ทำตามขั้นตอนที่แนะนำในเว็บไซต์ ดังนี้

- ให้เลือกคลิกปุ่มส่งหลักฐานการสมัครทางไปรษณีย์
- สั่งพิมพ์ใบสมัคร เพื่อนำไปสมัครแนบมากับหลักฐานการสมัคร
- นำส่งไปรษณีย์ลงทะเบียนมาที่งานสนับสนุนวิชาการ โรงเรียนวินิตศึกษา ในพระราชูปถัมภ์ฯ

เลขที่ ๑๐ ถนนเพชรราชา ตำบลท่าหิน อำเภอเมืองลพบุรี จังหวัดลพบุรี ๑๕๐๐๐

หลักฐานการสมัคร

- มีระเบียบแสดงผลการเรียน (ปพ.๑) กรณีสมัครกับโรงเรียนเดิมให้โรงเรียนรับรองนักเรียนทั้งหมดตามบัญชีรายชื่อ
- รูปถ่ายขนาด ๑ นิ้ว จำนวน ๒ รูป ถ่ายไม่เกิน ๖ เดือน หน้าตรงไม่สวมหมวก ไม่สวมแว่นตาดำ และเป็นรูปถ่ายในคราวเดียวกัน
- ค่าธรรมเนียมการสมัครสอบคนละ ๑๐๐ บาท
- สามารถดาวน์โหลดคู่มือได้จากเว็บไซต์ โรงเรียนวินิตศึกษา ในพระราชูปถัมภ์ฯ

ขั้นตอนที่ ๓ การชำระค่าธรรมเนียมการสมัครสอบ

- สั่งพิมพ์ใบแจ้งยอดชำระเงิน เพื่อนำไปชำระเงินจำนวน ๑๐๐ บาท ผ่านเคาน์เตอร์ธนาคาร
- เก็บหลักฐานการชำระเงินไว้เพื่อเป็นหลักฐานอ้างอิงด้วย

หมายเหตุ : โดยสมัครสอบวันสุดท้าย (วันที่ ๙ มกราคม ๒๕๖๕) ต้องชำระเงินให้แล้วเสร็จภายใน

วันที่ ๑๐ มกราคม ๒๕๖๖

ขั้นตอนที่ ๔ การตรวจสอบคุณสมบัติ

- ทางโรงเรียนจะดำเนินการตรวจสอบคุณสมบัติ จากหลักฐานที่นักเรียนส่งมา

ขั้นตอนที่ ๕ การตรวจสอบสิทธิ์ในการเข้าสอบและพิมพ์บัตรประจำตัวผู้เข้าสอบ

- นักเรียนตรวจสอบสิทธิ์การเข้าสอบและส่งพิมพ์บัตรประจำตัวผู้เข้าสอบ เพื่อนำมาใช้แสดงตนในวันสอบ

หมายเหตุ : วันสุดท้ายของการตรวจสอบสิทธิ์ในการเข้าสอบคือวันที่ ๑๒ มกราคม ๒๕๖๖

หากพังกำหนดถือว่าสละสิทธิ์ในการเข้าสอบ

๓. จำนวนนักเรียนที่รับเข้าศึกษา

โครงการเตรียมความรู้มุ่งสู่มหาวิทยาลัย (RTU)	จำนวน	๘๐ คน
แผนวิทย์ – คณิต	จำนวน	๔๐ คน
แผนศิลป์ – ภาษา	จำนวน	๔๐ คน
โครงการเตรียมความพร้อมทางวิชาการทหาร	จำนวน	๔๐ คน

๔. ประกาศรายชื่อผู้ที่มีสิทธิ์สอบและแผนผังที่นั่งสอบ

วันที่ ๑๗ มกราคม ๒๕๖๖

๕. ตารางสอบ

วันที่	เวลา	วิชา
วันที่ ๒๒ ม.ค.๖๖	๐๙.๐๐ – ๑๑.๐๐ น.	ฉบับที่ ๑ (คณิตศาสตร์ – วิทยาศาสตร์)
	๑๑.๑๐ – ๑๒.๑๐ น.	ฉบับที่ ๒ (สังคมศึกษา – ภาษาไทย – ภาษาอังกฤษ)

- หมายเหตุ**
๑. ขอบข่ายเนื้อหาวิชาที่สอบคัดเลือกครอบคลุมระดับช่วงชั้นที่ ๓ (ม.๑ – ม.๓)
 ๒. ในการสอบให้นักเรียนเตรียมเอกสารและอุปกรณ์ดังนี้
 - บัตรประจำตัวสอบ
 - ปากกาลูกลื่นสีดำ หรือสีน้ำเงิน

๖. วันประกาศผลสอบคัดเลือกรอบแรก

วันที่ ๒๒ มกราคม ๒๕๖๖

หรือที่เว็บไซต์ของโรงเรียน (<https://www.ws.ac.th/samug>)

๗. การมอบตัวนักเรียน

วันที่ ๒๙ มกราคม ๒๕๖๖

ผู้ปกครองที่จะทำการมอบตัวได้ จะต้องมีบิดา – มารดา หรือญาติผู้ใหญ่ หรือผู้อุปการะ ที่มีอาชีพเป็นหลักฐานและมีชื่ออยู่ในสำเนาทะเบียนบ้านร่วมกับนักเรียน โรงเรียนจะไม่รับพิจารณาให้บุคคลที่ไม่ได้อยู่บ้านเดียวกับนักเรียน หรือผู้ที่กำลังศึกษาเล่าเรียนอยู่ เป็นผู้ปกครองนักเรียน โดยเด็ดขาด

๘. ข้อควรปฏิบัติและข้อควรระวัง

- ๘.๑ อ่านประกาศนี้ให้เข้าใจทุกข้อ
- ๘.๒ การติดต่อกับทางโรงเรียนต้องแต่งกายชุดนักเรียน ให้เรียบร้อยถูกต้อง
- ๘.๓ หลักฐานหรือเอกสารที่โรงเรียนต้องการตามกำหนดไว้ให้ผู้สมัครเตรียมให้พร้อม มิฉะนั้นอาจเสียสิทธิ์การเข้าเป็นนักเรียนของโรงเรียนได้
- ๘.๔ ต้องยื่นใบสมัครตามกำหนดวันและเวลาที่ระบุไว้
- ๘.๕ ผู้สมัครต้องนำบัตรประจำตัวสอบมาแสดงทุกครั้งที่มาติดต่อ
- ๘.๖ อย่าเชื่อคำแอบอ้าง อย่าให้สินจ้างรางวัลแก่ผู้ใด เพราะไม่มีผู้ใดจะให้การช่วยเหลือท่าน
ได้นอกจากตัวท่านเอง

ประกาศ ณ วันที่ ๑ พฤศจิกายน พุทธศักราช ๒๕๖๕



(พระเทพเสนาบดี)

ผู้อำนวยการโรงเรียนวินิตศึกษา ในพระราชูปถัมภ์ฯ



ตัวอย่างข้อสอบ

คัดเลือกเข้าศึกษาระดับชั้นมัธยมศึกษาปีที่ 1

โรงเรียนวินิตศึกษา ในพระราชูปถัมภ์ฯ

วิชา คณิตศาสตร์ – วิทยาศาสตร์


วิชาคณิตศาสตร์ จำนวน 40 ข้อ (1 – 40)

1. ถ้า ห.ร.ม. ของจำนวนสองจำนวนคือ 6 และ ค.ร.น. คือ 1,224 ถ้าจำนวนจริงหนึ่งเป็น 36 อีกจำนวนหนึ่งคือข้อใด
 - ก. 175
 - ข. 200
 - ค. 207
 - ง. 204
2. ต้องการปักเสาบนสองข้างของถนนซึ่งยาว 150 กิโลเมตร โดยปักเสาแต่ละต้นห่างกัน 40 เมตร ถ้าเสาแต่ละต้นราคาต้นละ 115 บาท ต้องตั้งงบประมาณสำหรับซื้อเสากี่บาท
 - ก. 250,000 บาท
 - ข. 350,120 บาท
 - ค. 665,000 บาท
 - ง. 862,730 บาท
3. ตัวประกอบเฉพาะของ 20 เมื่อนำมาคูณกันแล้วได้ผลลัพธ์อย่างไร
 - ก. 8
 - ข. 10
 - ค. 12
 - ง. 14
4. จำนวน $6\overline{82.957}$ ค่าประจำหลักของ 8 ต่างจากค่าของ 5 เท่ากับเท่าใด
 - ก. 79.95
 - ข. 75.00
 - ค. 9.95
 - ง. 9.05
5. ข้อความใดต่อไปนี้กล่าวถูกต้อง
 - ก. เข็มทิศเป็นเครื่องชี้ทิศโดยเข็มทิศจะชี้ทางทิศตะวันออกเฉียงเสมอ
 - ข. ทิศตะวันตกเฉียงเหนือทำมุมกับทิศตะวันออกเฉียงใต้ 135 องศา
 - ค. ทิศตะวันตกเฉียงใต้อยู่ระหว่างทิศตะวันตกกับทิศใต้
 - ง. ทิศตะวันออกเฉียงเหนือทำมุมกับทิศตะวันตกเฉียงใต้ 90 องศา
6. ข้อใดถูกต้อง
 - ก. 0 เป็นจำนวนนับ
 - ข. จำนวนนับระหว่าง 1 กับ 100 มี 100 ตัว
 - ค. เราสามารถหาจำนวนนับที่น้อยที่สุดได้
 - ง. จำนวนนับที่มากที่สุดคือ 1,000,000
7. ข้อความใดต่อไปนี้เป็น **ไม่ถูกต้อง**
 - ก. รูปทรงสี่เหลี่ยมที่มีเส้นยาวเท่ากันเรียกว่าลูกบาศก์
 - ข. ด้านข้างของปริซึมเป็นรูปสี่เหลี่ยมมุมฉากเสมอ
 - ค. ปริมาตรของปริซึมเท่ากับพื้นที่หน้าตัดคูณด้วยความสูง
 - ง. ปริซึมสามเหลี่ยมประกอบด้วยหน้าต่าง ๆ 3 หน้า
8. จากอนุกรม 2 3 6 18 108 ... จำนวนถัดไปคือจำนวนใด
 - ก. 150
 - ข. 216
 - ค. 654
 - ง. 1,944
9. จากแบบรูป 1, 1, 2, 3, 5, 8, A, 21 และ 1, 4, 9, 16, B, 36 จงหา A + B
 - ก. 45
 - ข. 38
 - ค. 36
 - ง. 29



10. เมื่อนำมูม 75 องศา มารวมกับมูมขนาด 30 องศา มูมที่เกิดจากผลการรวมกันนี้เรียกว่าอะไร

- ก. มูมตรง
- ข. มูมแหลม
- ค. มูมผสม
- ง. มูมป้าน

11. ข้อใดคิดราคาต่อ 1 หน่วยมีค่าถูกที่สุด

- ก. นม 6 กล่อง ราคา 42 บาท
- ข. น้ำผลไม้ 3 กล่อง ราคา 27 บาท
- ค. น้ำอัดลม 5 กระป๋อง ราคา 40 บาท
- ง. ขนมปัง 8 ชิ้น ราคา 40 บาท

12. ตัวเลข 7, 8, 9 จะนำมาเรียงเป็นจำนวนสามหลักได้ กี่จำนวน

- ก. 6
- ข. 9
- ค. 18
- ง. 27

13. จำนวน 7 จำนวนเรียงกันมีผลบวกเป็น 245 เทอม กลางคือ

- ก. 25
- ข. 35
- ค. 115
- ง. 135

14. แผนภูมิแสดงค่าใช้จ่ายแต่ละเดือนของการะเกิด ซึ่งได้รับเงินเดือน ๆ ละ 20,000 บาท



การะเกิดต้องจ่ายค่าน้ำไฟฟ้าต่อเดือนเท่าไร

- ก. 2,000 บาท
- ข. 2,400 บาท
- ค. 2,600 บาท
- ง. 3,000 บาท

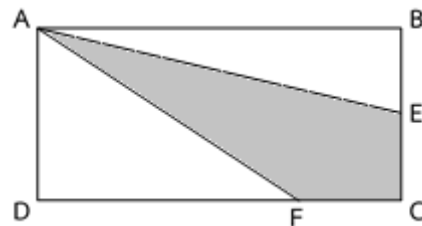
15. $\left(1\frac{2}{5} - 2\frac{7}{10} + 5\frac{1}{2}\right) - \left(2\frac{1}{2} \times \frac{7}{5}\right)$ มีค่าเท่าไร

- ก. $\frac{3}{10}$
- ข. $\frac{7}{10}$
- ค. $7\frac{3}{10}$
- ง. $7\frac{7}{10}$

16. จำนวนนับที่น้อยที่สุดเมื่อนำ 12 และ 15 ไปหาร จำนวนนั้นแล้วเหลือเศษ 9 เท่ากัน คือจำนวนใด

- ก. 69
- ข. 129
- ค. 189
- ง. 249

17. จากรูป ABCD เป็นรูปสี่เหลี่ยมผืนผ้ารูปหนึ่งมี BE = EC และ 3CF = FD แล้วอัตราส่วนของพื้นที่ ไม่แรเงาต่อพื้นที่แรเงามีค่าเท่ากับข้อใด



- ก. 7 : 1
- ข. 3 : 1
- ค. 1 : 7
- ง. 1 : 3

18. กำหนดให้ $a * b = a \times \left(b - \frac{1}{a}\right)$ แล้ว $5 * 9$ มี

- ค่าเท่าไร
- ก. 14
- ข. 44



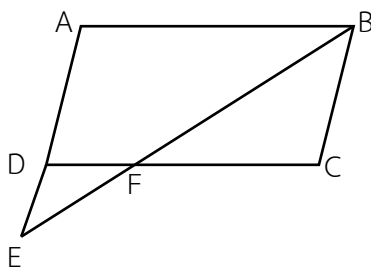
- ค. 45
ง. 54
19. ผลคูณของ 3.51 กับ 2.2 มากกว่าหรือน้อยกว่าผลต่างของ 5.64 กับ 1.67
ก. มากกว่า 3.750
ข. มากกว่า 3.752
ค. น้อยกว่า 3.752
ง. น้อยกว่า 3.50
20. ถ้า 36 แยกตัวประกอบได้เป็น $A \times B \times C \times D$ แล้วข้อใดกล่าวถูกต้องเกี่ยวกับ $A + B + C + D$
ก. เป็นจำนวนเฉพาะ
ข. เป็นจำนวนคู่
ค. เป็นจำนวนที่หารด้วย 5 ได้ลงตัว
ง. จากข้อ ก - ค มีข้อความถูกมากกว่า 1 ข้อ
21. ลูกปั้งเลี้ยงเป็ดและหมู ถ้านับหัวของเป็ดและหมูรวมกันได้ 40 หัว และนับขา รวมกันได้ 90 ขา อยากทราบว่าลูกปั้งเลี้ยงเป็ดกี่ตัว
ก. 5 ตัว
ข. 25 ตัว
ค. 35 ตัว
ง. 45 ตัว
22. ข้อใดถูกต้อง
ก. รูปสี่เหลี่ยมคางหมูจัดเป็นรูปสี่เหลี่ยมด้านขนาน
ข. รูปวงกลมจะมีเส้นผ่าศูนย์กลางได้เพียง 2 เส้น
ค. เส้นขนาน 2 เส้น กับเส้นตัด 1 เส้น ทำให้เกิดมุมแย้งกัน
ง. 1 : 400 หมายถึงของจริง 1 ขยายเป็น 400
23. ข้อใดถูกต้อง
ก. 12% ของ 700 คือ 86
- ข. $\frac{2}{5}$ ของอายุญาญาจะเท่ากับเบลล่า ถ้าญาญามีอายุ 15 ปี เบลล่าอายุ 10 ปี
- ค. $5\frac{3}{7} + 4\frac{1}{7} > 9\frac{5}{7}$
- ง. $35 + (0.753 + 1.365) = (35 + 0.753) + 1.365$
24. ถ้าอาซาใช้น้ำประปาเฉลี่ยวันละ 1.312 ลูกบาศก์เมตร ในเวลา 1 ปี เขาจะใช้น้ำประปาที่ลูกบาศก์เมตร
ก. 478.88
ข. 4,788.88
ค. 47.888
ง. 47,888
25. ผากเงินไว้กับธนาคาร 3,400 บาท ในอัตราดอกเบี้ยร้อยละ 12 ต่อปี เมื่อครบปีจะได้เงินที่เป็นดอกเบี้ยกี่บาท
ก. 400
ข. 405
ค. 406
ง. 408
26. พิจารณาค่าของจำนวนใดแต่ละข้อต่อไปนี้
1. $1\frac{12}{15} \div \frac{1}{10} > \frac{4}{5} \div \left(\frac{7}{12} \times \frac{8}{35}\right)$
2. $\left(4\frac{1}{2} + 3\frac{1}{2}\right) - \frac{3}{5} < \left(5\frac{4}{9} + 1\frac{5}{9}\right) - \frac{7}{15}$
ข้อความใดกล่าวถูกต้อง
ก. 1 ถูก และ 2 ถูก
ข. 1 ผิด และ 2 ถูก
ค. 1 ถูก และ 2 ผิด
ง. 1 ผิด และ 2 ผิด
27. ตั้งราคาสินค้าขึ้นหนึ่งโดยคิดกำไร 30% หากลดราคาสินค้าขึ้นนี้ลง 30% จะเกิดผลคือข้อใด
ก. เท่าทุน
ข. กำไร 9%
ค. ขาดทุน 9%



- ง. ขาดทุน 10%
28. ร้านค้าปิดราคาสินค้าไว้ 6,000 บาท ซึ่งเป็นราคาที่ได้กำไร 20% ต่อมาลดราคาให้ผู้ซื้อ 15% ร้านค้ายังคงได้กำไรกี่บาท
- ก. 100
ข. 120
ค. 150
ง. 180
29. ถังน้ำทรงสี่เหลี่ยมใบหนึ่งกว้าง 80 เซนติเมตร ยาว 1.5 เมตร สูง 1.2 เมตร ถ้าตักน้ำไปใช้วันละ 8 ลิตร จะใช้น้ำนานกี่วัน
- ก. 120
ข. 150
ค. 180
ง. 200
30. หมากมีเงิน $\frac{2}{3}$ ของมาริโอ มาริโอมีเงินเป็น 4 เท่าของเจมส์ ถ้าเจมส์มีเงิน 420 บาท หมาก มาริโอ และเจมส์มีเงินรวมกันกี่บาท
- ก. 1,120
ข. 1,680
ค. 2,800
ง. 3,220
31. ปกรณ์อายุ 36 ปี ปกรณ์อายุน้อยกว่าภณ x ปี ปกรณ์ กับ ภณ อายุรวมกันได้ 80 ปี ภณอายุกี่ปี ข้อใดคือสมการที่ถูกต้องที่ได้จากโจทย์
- ก. $36 + (36 - x) = 80$
ข. $36 + (36 + x) = 80$
ค. $36 - x = 80$
ง. $80 - x = 36 + x$
32. ถ้า $\frac{\frac{2}{5} \times 35}{\frac{7}{8} + \frac{1}{3}} = \frac{a}{b}$ แล้ว $a - b$ เท่ากับเท่าใด
- ก. 9
ข. 29
- ค. 307
ง. 382
33. จำนวนที่อยู่กึ่งกลางระหว่าง $\frac{3}{5}$ และ $\frac{2}{3}$ คือจำนวนในข้อใด
- ก. $\frac{17}{30}$
ข. $\frac{19}{30}$
ค. $\frac{23}{30}$
ง. $\frac{29}{30}$
34. แอปซื้อถุงราคาชดละ 38.50 บาท ซื้อถุงมาครึ่งกิโลกรัม ถ้าแอปให้เงินแม่ค้าเป็นธนบัตรใบละ 500 บาท แอปได้เงินทอนกี่บาท
- ก. 269 บาท
ข. 296 บาท
ค. 307.50 บาท
ง. 370.50 บาท
35. สระน้ำรูปครึ่งวงกลมแห่งหนึ่งมีเส้นผ่าศูนย์กลางยาว 28 เมตร ภูริเดินออกกำลังกายรอบสระน้ำแห่งนี้ 3 รอบ จะได้ระยะทางกี่เมตร ($\pi = 3.14$)
- ก. 43.96
ข. 71.96
ค. 87.92
ง. 215.88
36. เหตุการณ์ใดเป็นเหตุการณ์ที่เกิดขึ้นอย่างแน่นอน
- ก. เหรียญหงายหัว ในการโยนเหรียญบาท 1 เหรียญ
ข. ลูกเต๋าขึ้นแต้ม 7 ในการทอดลูกเต๋า 1 ลูก 1 ครั้ง
ค. หยิบเสื้อสีชมพู 1 ตัวอย่างสุ่มจากตู้เสื้อผ้าใบหนึ่งที่มีเสื้อสีต่าง ๆ ครบทุกสี
ง. หยิบลูกบอลสีแดง 1 ลูกจากกล่องที่มีลูกบอลสีแดง 5 ลูก



37. การเรียกชื่อพีระมิด เรียกตามสิ่งใด
- รูปทรง
 - ขนาดของพีระมิด
 - ปริมาตรของพีระมิด
 - ฐานของพีระมิด
38. โจทย์มีเงินอยู่จำนวนหนึ่ง ซื้อเครื่องเขียน 41 บาท และเหลือเงินอยู่ 95 บาท เดิมโจทย์มีเงินทั้งหมดกี่บาท
- 95 บาท
 - 100 บาท
 - 136 บาท
 - 190 บาท
39. รูปย่อสามเหลี่ยมด้านความกว้างได้ 10 เซนติเมตร วัตถุประสงค์ยาวได้ 15 เซนติเมตร ถ้ารูปนี้ใช้มาตราส่วน 1 : 800 สามเหลี่ยมแห่งนี้จะมีพื้นที่กี่ตารางเมตร
- 9,600
 - 9,400
 - 5,120
 - 4,400
40. จากรูป สี่เหลี่ยม ABCD เป็นสี่เหลี่ยมด้านขนาน มีมุม ADC กาง 70 องศา มุม BCD กาง 110 องศา และมุม ABF กาง 30 องศา แล้วมุม DFB มีขนาดกี่องศา



- 30 องศา
- 70 องศา

- 110 องศา
- 150 องศา

วิชาวิทยาศาสตร์ จำนวน 40 ข้อ (41 – 80)

41. จากการทดลองปลูกต้นดาวเรือง 2 ต้น ต้นหนึ่งปลูกไว้ในที่ที่มีแสง อีกต้นปลูกในที่ที่ไม่มีแสง โดยต้นดาวเรืองทั้งสองได้รับ ปัจจัยอื่นๆเหมือนกันทุกอย่าง สมมุติฐานที่ตั้งไว้ควรเป็นอย่างไร

- พืชสีเขียวจำเป็นต้องได้รับแสงจากดวงอาทิตย์เพียงอย่างเดียว
- พืชสีเขียวสร้างอาหารจากแสงและปัจจัยอื่น ๆ ที่ให้
- ถ้าพืชสีเขียวมีคลอโรฟิลล์จะเจริญเติบโตได้ดีในที่ที่มีแสงตลอดเวลา
- พืชที่ได้รับแสงจะเจริญเติบโตได้ดีกว่าพืชที่ไม่ได้รับแสง

42. จงเรียงลำดับเหตุการณ์ของพืชต่อไปนี้ให้ถูกต้อง

- หลอดละอองเรณูเจริญลงไปในที่นำไข่
- อับเรณูจะแตกออกและปลดปล่อยละอองเรณู
- นิวเคลียสของละอองเรณูผสมกับนิวเคลียสของไข่
- แมลงถ่ายละอองเรณูจากอับเรณูไปยังยอดเกสรเพศเมีย

- A D C B
- B D A C
- A B C D
- D C A B

43. ข้อใดไม่ใช่ความสำคัญของกระบวนการสังเคราะห์ด้วยแสง

- เป็นกระบวนการที่นำพลังงานแสงมาเปลี่ยนเป็นพลังงานเคมี
- เป็นการสร้างคาร์โบไฮเดรตของพืชสีเขียว
- ช่วยลดปัญหาชั้นบรรยากาศถูกทำลาย
- ทำให้เกิดการหมุนเวียนของแก๊สออกซิเจนและ



แก๊สคาร์บอนไดออกไซด์

44. นักเรียนเดินทางไปทางทิศเหนือระยะทาง 500 เมตร แล้วเดินกลับทางเดิม ระยะทาง 200 เมตร ระยะทางทั้งหมดที่นักเรียนเดินเป็นเท่าใด

- ก. 200 เมตร ข. 300 เมตร
ค. 500 เมตร ง. 700 เมตร

45. คนที่มีสายตาวายจะแก้ไขได้โดยสวมแว่นตาที่ทำด้วยสิ่งใด

- ก. เลนส์เว้า ข. เลนส์นูน
ค. กระจกเว้า ง. กระจกนูน

46. เมื่อหยดน้ำมะนาวลงบนหินชนิดหนึ่งจะเกิดฟองแก๊ส หินชนิดนี้คือข้อใด

- ก. หินปูน ข. หินไนส์
ค. หินแกรนิต ง. หินบะซอลต์

47. วางลูกเหม็นไว้ในห้องน้ำ 1 สัปดาห์ปรากฏว่า ลูกเหม็นมีขนาดเล็กลง การเปลี่ยนแปลงนี้เรียกว่าอะไร

- ก. การระเหย ข. การกลายเป็นไอ
ค. การระเหิด ง. การหลอมเหลว

48. ข้อใดอธิบายความหมายของระบบปิดได้ถูกต้อง

- ก. ระบบที่เกิดการถ่ายเทมวลและพลังงานความร้อนให้แก่สิ่งแวดล้อม
ข. ระบบที่ไม่เกิดการถ่ายเทมวลและพลังงานความร้อนให้กับสิ่งแวดล้อม
ค. ระบบที่เกิดการถ่ายเทมวลแต่ไม่ถ่ายเทพลังงานความร้อนแก่สิ่งแวดล้อม
ง. ระบบที่ไม่เกิดการถ่ายเทมวลแต่ถ่ายเทพลังงานความร้อนแก่สิ่งแวดล้อมได้

49. สมศรีกลัวอ้วนจึงไม่ยอมรับประทานอาหารที่มีไขมันเลย ร่างกายจะไม่สามารถดูดซึมวิตามินใดได้

- ก. วิตามินบี 1 ข. วิตามินบี 12
ค. วิตามินดี ง. วิตามินซี

50. ถ้าเรามีปัญหาเรื่องการขับถ่ายอุจจาระลำบาก ควรเลือกกินอาหารในข้อใด เพราะเหตุใด

- ก. สลัดผัก เพราะในผักมีเส้นใยอาหารดูดซึมน้ำ
ข. กล้วย เพราะมีโปรตีนทำให้ร่างกายเจริญเติบโต
ค. พืชซา เพราะมีคาร์โบไฮเดรตทำให้อิ่มไวขึ้น
ง. ข้าวมันไก่ เพราะมีสารอาหารมากที่สุดทั้งโปรตีน

51. การกระทำใดเป็นการเปลี่ยนแปลงทางเคมี

- ก. ละลายเกลือในน้ำ
ข. ใส่ น้ำ ในช่องแช่แข็ง
ค. เผากระดาษได้ขี้เถ้าสีดำ
ง. ตัดกระดาษด้วยกรรไกร

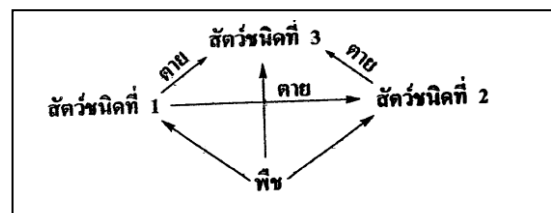
52. สารที่เมื่อทดสอบกับ อินดิเคเตอร์แล้วไม่ทำให้ อินดิเคเตอร์เปลี่ยนสี คือสารในข้อใด

- ก. น้ำหวาน ข. น้ำปูนใส
ค. น้ำมะนาว ง. น้ำยาล้างจาน

53. ถ้าใช้ความเป็นกรด – เบส ของสารเป็นเกณฑ์ในการจัดกลุ่มสารชุดต่อไปนี้ สามารถจัดให้อยู่ในกลุ่มเดียวกันได้

- | | | |
|--------------|--------------|--------------|
| ก. แอมพู | ผงซักฟอก | น้ำยาล้างจาน |
| ข. น้ำมะนาว | ผงซักฟอก | น้ำเชื่อม |
| ค. น้ำเชื่อม | น้ำยาล้างจาน | น้ำมะนาว |
| ง. ผงซักฟอก | น้ำเชื่อม | น้ำยาล้างจาน |

54. แผนภาพสายใยอาหารของสิ่งมีชีวิต 4 ชนิด



จากแผนภาพ สิ่งมีชีวิตใดได้รับการถ่ายทอดพลังงานเป็นลำดับ สุดท้าย

- ก. พืช ข. สัตว์ชนิดที่ 1
ค. สัตว์ชนิดที่ 2 ง. สัตว์ชนิดที่ 3

55. ถ้าต้องการขยายพันธุ์โดยไม่กลายพันธุ์และมีรากแก้ว แข็งแรงควรใช้วิธีใด

- ก. ปักชำ ข. ตอนกิ่ง
ค. เพาะเมล็ด ง. ตัดตา



56. การผสมพันธุ์สัตว์ในลักษณะใดที่ช่วยป้องกันการถ่ายทอดลักษณะที่ไม่ดีของพ่อไปสู่ลูก

- ก. ผสมกันตามธรรมชาติ
- ข. ผสมกับพันธุ์แท้ลักษณะดี
- ค. ผสมระหว่างญาติใกล้ชิดกัน
- ง. ผสมกับพันธุ์ที่มีลักษณะเหมือนพ่อ

57. ภายในปอดจะบรรจุจุลุมทำหน้าที่

- ก. รับ CO_2 , H_2O เข้าสู่เลือด
- ข. รับก๊าซ O_2 เข้าสู่เลือด
- ค. ขับ O_2 ออกจากเลือด
- ง. ถูกทุกข้อ

58. ข้อใดกล่าวถูกต้องเกี่ยวกับปริมาณน้ำที่ถูกกำจัดออกนอกร่างกาย

- ก. ปัสสาวะ > ลมหายใจออก > เหงื่อ
- ข. ปัสสาวะ > เหงื่อ > ลมหายใจออก
- ค. เหงื่อ > ปัสสาวะ > ลมหายใจออก
- ง. เหงื่อ > ลมหายใจออก > ปัสสาวะ

59. กล้ามเนื้อของผนังเส้นเลือดแดงมีลักษณะหนาและยืดหยุ่นได้ดีกว่าเส้นเลือดดำเพราะเหตุใด

- ก. ป้องกันการไหลกลับของเลือด
- ข. ช่วยให้เลือดมีความดันสูง
- ค. ต้านทานความดันเลือดจากหัวใจ
- ง. ช่วยให้เลือดไหลได้เร็วขึ้น

60. ถ้าต้องการศึกษาสิ่งที่มีมองด้วยตาเปล่าไม่เห็นควรใช้อุปกรณ์ในข้อใด

- ก. กล้องจุลทรรศน์
- ข. กล้องตาเรือ
- ค. กล้องส่องทางไกล
- ง. กล้องโทรทรรศน์

61. ดาวพุธใช้เวลาโคจรรอบดวงอาทิตย์ 88 วัน ดาวศุกร์ใช้เวลา 225 วัน ส่วนโลกใช้เวลา 365 วัน ดาวอังคารใช้เวลา 687 วัน จากข้อมูลดังกล่าวสามารถสรุปได้ว่าอย่างไร

ก. ดาวพุธอยู่ใกล้ดวงอาทิตย์มากที่สุด ดาวอังคารไกลดวงอาทิตย์มากที่สุด

- ข. อังคารอยู่ไกลจากดวงอาทิตย์มากที่สุด
- ค. ข้อ ก และข้อ ข ถูก
- ง. ข้อ ก ถูก แต่ข้อ ข ผิด

62. เวียร์ เป็นชาวประมง เขาจึงต้องติดตามการพยากรณ์อากาศเป็นประจำ นักเรียนคิดว่าเวียร์จะใช้ประโยชน์จากดาวเทียมประเภทใดได้มากที่สุด

- ก. ดาวเทียมสำรวจทรัพยากรธรรมชาติ
- ข. ดาวเทียมอุตุนิยมวิทยา
- ค. ดาวเทียมสำรวจบรรยากาศโลก
- ง. ดาวเทียมสื่อสาร

63. สาเหตุที่ทำให้ปากใบเปิด

- ก. การเกิดการคายน้ำ
- ข. การเกิดการลำเลียงอาหาร
- ค. การเกิดการสังเคราะห์ด้วยแสง
- ง. การเกิดการแพร่ผ่านแก๊ส

64. ด.ช. ดำอ่านหนังสือไม่ชัดเจน จึงไปที่ร้านขายแว่นตา และตรวจสายตาด้วยเครื่องคอมพิวเตอร์ หลังจากนั้นช่างที่ร้านได้ทำแว่นสายตาที่ใช้ เลนส์เว้าให้ นักเรียนพอจะบอกได้หรือไม่ว่า สายตาของ ด.ช. ดำ มีความผิดปกติอย่างไร

- ก. สายตาสั้น
- ข. สายตายาว
- ค. สายตาเอียง
- ง. ตาบอดสี

65. เป๋อและเบียร์เดินทางขึ้นไปบนภูเขาสูง ได้ทำการวัด ความกดอากาศที่พื้นราบก่อนที่จะเดินทางขึ้นไปได้ 30 นิ้วของปรอท และเมื่อขึ้นไปถึงยอดเขาแล้วก็ได้ทำการวัดความกดอากาศซ้ำอีกครั้งได้ 26 นิ้ว อยากทราบว่า ภูเขาสูงลูกนี้มีความสูงเท่าใด

- ก. 4,000 ฟุต
- ข. 1,000 ฟุต
- ค. 100 เมตร
- ง. 55 เมตร

66. พิจารณาข้อมูลต่อไปนี้

1. การเล่นม้าหมุนเป็นวงกลมขนานกับพื้น
2. การโยนลูกบอลขึ้นจากพื้นล่างเป็นแนวโค้งและตกกลับลงมายังพื้น



- ค. โมเลกุล B จะแพร่มายังห้อง A ก่อน ไม่ได้เลย เพราะในห้อง A มีโมเลกุล A หนาแน่นมาก
- ง. โมเลกุล A จะแพร่มายังห้อง B พร้อมกับ โมเลกุล B แพร่มายังห้อง A

76. เมื่อหย่อนเกล็ดต่างทึบทึมลงในน้ำปึกเกอร์จะเกิดการแพร่กระจายขึ้น นักเรียนคิดว่าถ้ามีการเพิ่มอุณหภูมิให้สูงขึ้น อัตราการแพร่จะเป็นอย่างไร

- ก. ช้าลง ข. เร็วขึ้น
- ค. เท่าเดิม ง. ไม่มีผลต่อการแพร่

จงตอบคำถามข้อต่อไปนี้อย่าง 77-79

สาร	A	B	C
pH	3	8	7

77. สารใดเปลี่ยนกระดาษลิตมัสจากสีน้ำเงินเป็นแดง

- ก. A ข. A และ B
- ค. A และ C ง. B และ C

78. สารใดเปลี่ยนกระดาษลิตมัสจากสีแดงเป็นน้ำเงิน

- ก. A ข. B
- ค. C ง. A และ C

79. สารในข้อใดมีคุณสมบัติเป็นเบส

- ก. A ข. B
- ค. C ง. A และ C

80. วิตามินซีมีชื่อเรียกอีกอย่างว่าอะไร

- ก. กรดซิตริก ข. กรดแอสคอร์บิก
- ค. แอซีตริก ง. กรอฟอร์มิก



ตัวอย่างข้อสอบ

คัดเลือกเข้าศึกษาระดับชั้นมัธยมศึกษาปีที่ 1

โรงเรียนวินิตศึกษา ในพระราชูปถัมภ์ฯ

วิชา สังคมศึกษา – ภาษาไทย – ภาษาอังกฤษ



วิชาสังคมศึกษา จำนวน 30 ข้อ (1 – 30)

1. เจ้าชายสิทธัตถะ ทรงเสด็จออกผนวช เพราะเหตุใด
 - ก. พบเทวทูตทั้ง 4
 - ข. ต้องการเป็นศาสดาเอก
 - ค. ทรงเบื่อหน่ายทางโลก
 - ง. แสวงหาหนทางดับทุกข์
2. ธรรมที่พระพุทธเจ้าทรงแสดงแก่ปัญจวัคคีย์ทั้ง 5 เรียกว่าอะไร
 - ก. อริยมรรค ๘
 - ข. โอวาทปาติโมกข์
 - ค. อนัตตลักขณสูตร
 - ง. อัมมจักรกัปปวัตนสูตร
3. ศิล ในทางพระพุทธศาสนา หมายถึงอะไร
 - ก. การใช้ปัญญาในการแก้ไขปัญหา
 - ข. การละเว้นทางโลก โภการ หลง
 - ค. ข้อควรปฏิบัติในการอยู่ร่วมกัน
 - ง. ข้อควรดเว้นจากการกระทำชั่ว
4. การเวียนเทียนในวันสำคัญทางพระพุทธศาสนา มีความสำคัญอย่างไร
 - ก. เพื่อระลึกถึงคุณของพระสงฆ์
 - ข. เพื่อระลึกถึงคุณของพระธรรม
 - ค. เพื่อระลึกถึงคุณของพระพุทธเจ้า
 - ง. เพื่อระลึกถึงคุณของพระรัตนตรัย
5. ข้อใดใช้เป็นสัญลักษณ์ของพระพุทธศาสนา
 - ก. ดอกบัว ข. ต้นโพธิ์
 - ค. ธรรมจักร ง. วัตถุมงคล
6. ทุกศาสนาสอนให้คนเป็นคนดี คนดี หมายถึงบุคคลที่มีลักษณะใด
 - ก. บุคคลที่ได้รับรางวัลจากสังคม
 - ข. บุคคลที่เป็นที่ยอมรับของสังคม
 - ค. บุคคลที่พูดดี คิดดี ทำในสิ่งที่ดี
 - ง. บุคคลที่บริจาคเงินจำนวนมาก
7. เหตุผลที่สำคัญ ที่ทำให้มนุษย์ต้องนับถือศาสนา
 - ก. เพื่อให้ไปสวรรค์
 - ข. เพื่อเป็นที่พึ่งพาทางใจ
 - ค. เพื่อให้เราไม่รู้สึกละแวกแยก
 - ง. เพื่อให้เราเป็นส่วนหนึ่งของสังคม
8. กฎหมาย ให้ประโยชน์แก่ประชาชนอย่างไร
 - ก. ความยุติธรรม ข. ความขยันขันแข็ง
 - ค. ความสะดวกสบาย ง. ความมั่นคงในชีวิต
9. การแจ้งการเกิด เจ้าหน้าที่จะออกเอกสารเป็นหลักฐานการเกิด เรียกว่าอะไร
 - ก. ใบขึ้นสูตร ข. ใบสูติบัตร
 - ค. ใบมรณบัตร ง. ทะเบียนบ้าน
10. หน้าที่ที่สำคัญของการเป็นพลเมืองที่ดี คือ
 - ก. การเสียภาษี ข. เข้าเกณฑ์ทหาร
 - ค. ช่วยเหลือทางราชการ ง. ปฏิบัติตนให้ถูกต้องตามกฎหมาย
11. วัฒนธรรมไทย ส่วนใหญ่เกี่ยวข้องกับด้านใดมากที่สุด
 - ก. อาชีพการเกษตร ข. กฎเกณฑ์ทางสังคม
 - ค. ความเชื่อทางศาสนา ง. เทคโนโลยีต่างชาติ
12. เอกลักษณ์ที่แสดงความเป็นชาติไทย ซึ่งเราควรรักษาไว้สืบต่อไปชั่วลูกหลานคืออะไร
 - ก. ภาษาไทย ข. อาหารไทย
 - ค. มารยาทไทย ง. ทุกข้อที่กล่าวมา
13. ตามหลักของเศรษฐศาสตร์ ตลาด หมายถึงอะไร
 - ก. สถานที่ผลิตสินค้า
 - ข. สถานที่ซื้อขายสินค้า
 - ค. สถานที่แลกเปลี่ยนสินค้า
 - ง. สถานที่แข่งขันของผู้ขายสินค้า
14. การนำทรัพยากรมาจัดทำเพื่อให้เกิดสินค้าและบริการต่างๆ เราเรียกว่า
 - ก. ผู้ผลิต ข. ผู้บริโภค
 - ค. ผู้ใช้แรงงาน ง. พ่อค้าคนกลาง
15. ข้อใดเป็นทรัพยากรที่สำคัญที่สุดในการพัฒนาประเทศ
 - ก. น้ำ ข. ป่าไม้



58. ข้อใดมีทั้งคำพ้องรูปและพ้องเสียง
- ก. อย่างหวงแหวนนะ เพราะเปิดชอบกินแหวน
ข. เพลารถหักเพลเข้า
ค. โคลงเรือ เรือจึงโคลง
ง. คำว่า “ สระ ” ประกอบด้วย สระอะ
59. คำที่มีไปยาลน้อย (๓) ข้อใดใช้ไม่ถูกต้อง
- ก. กรุงเทพฯ (กรุงเทพมหานคร)
ข. ทูลเกล้าฯ (ทูลเกล้าทูลกระหม่อม)
ค. เสด็จฯ (เสด็จพระราชดำเนิน)
ง. โปรดฯ (โปรดเกล้าโปรดกระหม่อม)
60. ข้อใดอ่านไม่ถูกต้อง
- ก. ๒๔.๕๐ บ.อ่านว่า ยี่ - สิบ - สี่ - จุด - ห้า - สิบ - บาท
ข. เวลา ๑๘.๓๕ น. อ่านว่า เว - ลา - สิบ - แปด - นา - ลี - กา - สาม - สิบ - ห้า - นา - ที
ค. เลขที่ ๗๓/๑๔ อ่านว่า เลก - ที - เจ็ด - สิบ - สาม - หับ - หึ่ง - สี่
ง. ๐๘๘-๘๖๐๘๘๘๗ อ่านว่า สิบ - แปด - แปด - หก - สิบ - แปด - แปด - แปด - เจ็ด

วิชาภาษาอังกฤษ 40 ข้อ (61 - 100)

Direction : Choose the best answer

61. My friend knows the news very because he read the newspaper..... .
- a. good / dayly b. well / dayly
c. goodly / daily d. well / daily
62. Paula to Cris since last movie.
- a. didn't talk b. not talked
c. doesn't talk d. hasn't talked
63. The teacher wants
- a. some chalks b. some chalk
c. any chalks d. any chalk

64. She is playing when we came in.
- a. piano b. a piano
c. the piano d. any piano
65. Mt. Everest is highest peak of Himalayas.
- a. The / the / the b. A / the / -
c. - / the / the d. - / a / the
66. These papers are mine, and those are
- a. theirs b. their
c. them d. themselves
67. James always gets up dawn New Year's Day.
- a. on / on b. at / at
c. at / on d. at / in
68. Yaya is a wonderful actress,?
- a. is she b. isn't she
c. does she d. doesn't she
69. Roger leave for the United States tomorrow.
- a. was b. were
c. is d. will
70. A boy to school every day.
- a. went b. is going
c. go d. goes
71. She invited to the party.
- a. his b. him
c. himself d. he
72. This isn't bike. It belongs to Sally.
- a. you b. yours
c. your d. me
73. We haven't got milk in the fridge.
- a. any b. some
c. a d. An



74. Would you like to have cake?

- a. any
- b. a few
- c. some
- d. many

75. takes Jack to school every day?

- a. Which
- b. When
- c. Who
- d. What

76. A : I'm going to take my first examination tomorrow.

B :

- a. Lucky you!
- b. With luck.
- c. I hope you make a fortune.
- d. I wish you luck.

77. A : Would you mind turning on the light?

B :

- a. What do you want?
- b. Yes, I would.
- c. Of course not.
- d. How dark it is!

78. A : Can you help me?

B :

- a. It's impossible.
- b. That's too bad.
- c. How come?
- d. Of course.

79. A : Would you like some soup?

B :

- a. Yes, please.
- b. I like it.
- c. I don't like.
- d. No!

80. A : I really like your skirt.

B :

- a. Not at all.
- b. Thank you.
- c. I'm happy for you.
- d. Don't mention it.

81. A : My uncle died last night.

B :

- a. Good Luck!
- b. It doesn't matter.
- c. Thank you.
- d. I'm sorry to hear that.

82. A : Oop! I'm stepping on your toe.

B :

- a. Think nothing!
- b. Thanks.
- c. Never mind.
- d. You don't apologize.

83. A :

B : Once or twice year.

- a. How far does he go to Japan?
- b. How often does he go to Japan?
- c. How long does he go to Japan?
- d. How many does he go to Japan?

84. Jame :?

Ann : No. I came with my father.

- a. Who did you come
- b. Where did you come alone
- c. Did you come here alone
- d. Do you come here



85. Linda : Where does Jim’s father work?

Jan :

- a. He isn’t a doctor
- b. Yes, he does
- c. He works in the post office
- d. He is a postman

86. Susy : Who is Lisa?

Bob :

- a. She is Mr. Leo’s grandchild
- b. He is Mr. Leo’s son
- c. She is twelve years old
- d. He is twelve years old

87. Penny :

Officer : At 15.30.

- a. Where is the play show?
- b. Do you like to see the play?
- c. Can I see the play at 17.30?
- d. What time does the play start?

88. Jack :

Mary : He is going to feed his dog.

- a. What are you going to play
- b. Where is he going to go
- c. What is John going to do
- d. Who is going to feed the dog

89. Nick :

Nina : There is about 20.

- a. How many the bins are there in the park?

b. Are there many bins in the park?

c. Where are the bins?

d. Are those the bin?

90. Dolly : Excuse me

The waiter : It’s on the second floor.

- a. Where is the coffee shop?
- b. Can I go to the coffee shop?
- c. What can I do at the coffee shop?
- d. Do you want to go to the coffee shop?

91. Would you care for a drink? The

underlined word mean

- a. look for
- b. sell
- c. like to have
- d. buy

92. A plant has underground.

- a. roots
- b. flower
- c. stem
- d. leaves

93. To give someone a call is to

- a. shout at him
- b. visit him
- c. talk to him
- d. telephone him

94. John always arrives on time. He’s so

- a. punctual
- b. careful
- c. timeless
- d. boring

95. help you see distant objects more clearly.

- a. Spectacles
- b. Microscopes
- c. Binoculars
- d. Telegraphs

96. When Mr. David was in Paris, he bought some back for his children.

- a. fever
- b. souvenirs
- c. jogging
- d. Tickets



97. Everyone likes Lily because she is a girl.

- a. rude
- b. polite
- c. careless
- d. disobedient

98. I look up some words in the when I do not know the meanings them.

- a. diary
- b. textbook
- c. calendar
- d. dictionary

No.99 - 100 Complete the conversation.

Joan : I feel sick today.

Dome : That's too bad.99.....

Joan : I have a bad cough and sore throat.

Dome :100..... It's really important to get a lot of rest.

Joan : Thank you very much.

- 99.
- a. What's the matter?
 - b. Is there any problem?
 - c. Anything else?
 - d. How can you do?

- 100.
- a. Why don't you go to the hospital?
 - b. You should be in bed at home.
 - c. What about taking Paracetamols?
 - d. You can drink a lot of water.



ตัวอย่างข้อสอบ

คัดเลือกเข้าศึกษาระดับชั้นมัธยมศึกษาปีที่ 4

โรงเรียนวินิตศึกษา ในพระราชูปถัมภ์ฯ

วิชา คณิตศาสตร์ – วิทยาศาสตร์


วิชาคณิตศาสตร์ จำนวน 30 ข้อ (1 – 30)

1. จำนวนจำนวนหนึ่งเขียนแทนด้วยตัวเลข 2 หลัก ถ้าผลรวมของเลขโดดเป็น 9 และเมื่อสลับหลักหน่วยเป็นหลักสิบ จะมีค่าลดลง 45 จำนวนนี้คือจำนวนในข้อใด
 - ก. 36
 - ข. 54
 - ค. 72
 - ง. 81
2. ถ้ากำหนดส่วนของเส้นตรง ยาว 9, 4 และ 5 เซนติเมตร แล้วให้นักเรียนสร้างรูปสามเหลี่ยมให้มีความยาวด้านทั้งสามเท่ากับความยาวที่กำหนด ผลจากการสร้างจะเป็นอย่างไร
 - ก. ได้รูปสามเหลี่ยมมุมแหลม
 - ข. ได้รูปสามเหลี่ยมมุมฉาก
 - ค. ได้รูปสามเหลี่ยมมุมป้าน
 - ง. ไม่เกิดรูปสามเหลี่ยม
3. ข้อใดเรียงจากน้อยไปมาก
 - ก. $1111_2, 53_6, 132_5, 233_4$
 - ข. $53_6, 1111_2, 132_5, 233_4$
 - ค. $53_6, 1111_2, 233_4, 132_5$
 - ง. $1111_2, 53_6, 233_4, 132_5$
4. ถ้า $a + \left(-1\frac{1}{3} \times \left(1\frac{1}{2} \div \frac{3}{5}\right)\right)$ เป็นจำนวนลบที่มากที่สุด แล้ว a มีค่าเท่าไร
 - ก. $-\frac{1}{3}$
 - ข. $-\frac{1}{5}$
 - ค. $-\frac{3}{5}$
 - ง. $-\frac{2}{3}$
5. ปัจจุบันโสภามีอายุ 47 ปี เมื่อ 12 ปีที่แล้วสมรมีอายุเป็น 6 ใน 5 ของโสภাজงหาอายุปัจจุบันของสมรม
 - ก. 35
 - ข. 42
 - ค. 49
 - ง. 54
6. ผู้ชาย 3 คน กับผู้หญิง 5 คน ทำงานอย่างหนึ่งเสร็จภายในเวลา 12 วัน แต่ผู้ชาย 5 คน กับผู้หญิง 3 คนทำงานอย่างเดียวกันนี้เสร็จภายในเวลา 8 วัน ถ้าผู้ชาย 7 คน กับผู้หญิง 1 คน จะทำงานเสร็จภายในกี่วัน
 - ก. 4
 - ข. 5
 - ค. 6
 - ง. 7
7. ถ้าสองเท่าของจำนวนจำนวนหนึ่งน้อยกว่า 70 อยู่ 4 แล้วจำนวนนี้มีค่ามากกว่า - 3 อยู่เท่าไร
 - ก. 27
 - ข. 30
 - ค. 33
 - ง. 36
8. ทำน้ำบ้านประพจน์ห่างจากวัด 4,500 เมตร ประพจน์พายเรือจากบ้านไปวัด เขาไปพายตามน้ำใช้เวลา 45 นาที แต่หากกลับต้องพายเรือทวนน้ำ ทำให้ต้องใช้เวลานานอีกเท่าตัวกับตอนเขาไป โดยสมมติว่าประพจน์มีกำลังพายเรือสม่ำเสมอทันตลอด จงหาว่ากระแสน้ำไหลชั่วโมงละกี่กิโลเมตร
 - ก. 2.5
 - ข. 2
 - ค. 1.5
 - ง. 1
9. กำหนดให้ $a * b = a^b$ จงตรวจสอบข้อใดเป็นจริง
 - ก. $2 * 3 = 3 \times 2$
 - ข. $5 * 3 = 15$



- ค. $(1 + 3) * 2 = 16$
- ง. $(6 * 1) - 6 = 6$
10. จำนวนน้อยที่สุดที่หารด้วย 15, 28 และ 36 แล้วเหลือเศษ 3 เท่ากับจำนวนใด
- ก. 1,260
- ข. 1,257
- ค. 1,263
- ง. 423
11. ปีนี้ราคามะนาวเพิ่มขึ้น 25% จากปีที่แล้ว ทำให้น้ำฝนจ่ายเงินซื้อหนาว 200 บาทได้มะนาวจำนวนน้อยลงจากเดิม 10 ผล ปีที่แล้วราคามะนาวผลละกี่บาท
- ก. 4
- ข. 5
- ค. 6
- ง. 7
12. รถยนต์สองคันเริ่มต้นจากจุดเดียวกัน แล่นไปในทิศตรงกันข้าม อัตราเร็วของรถยนต์คันที่วิ่งช้าน้อยกว่า อัตราเร็วของรถยนต์คันที่วิ่งเร็วกว่าอยู่ 15 ไมล์ต่อชั่วโมง หลังจากวิ่งไป 8 ชั่วโมง รถยนต์ทั้งสองคันอยู่ห่างกัน 840 ไมล์ จงหาอัตราเร็วของรถยนต์แต่ละคัน
- ก. 45 และ 65 ไมล์ต่อชั่วโมง
- ข. 40 และ 55 ไมล์ต่อชั่วโมง
- ค. 45 และ 60 ไมล์ต่อชั่วโมง
- ง. 40 และ 65 ไมล์ต่อชั่วโมง
13. ถ้ามีข้อมูล 8, 2a, 12, 14, 2b, 20 มีค่าเฉลี่ยเลขคณิตเท่ากับ 14 และมีฐานนิยมเท่ากับค่าเฉลี่ยเลขคณิตแล้ว จงหาค่าของ a และ b
- ก. 7.0
- ข. 7.5
- ค. 8.0
- ง. 8.5
14. คะแนนชุดหนึ่งเรียงตามลำดับค่าได้ดังนี้ 2, 4, 4, 5, 5, y, 8, 8, 10 มีค่าฐานนิยมค่าเดียว ถ้ามีฐานมีค่าน้อยกว่าฐานนิยมแล้ว ค่าเฉลี่ยเลขคณิตมีค่าเท่าไร
- ก. 4.2
- ข. 5.1
- ค. 6.0
- ง. 6.8
15. 1,000,000 มีตัวประกอบทั้งหมดกี่จำนวน
- ก. 29
- ข. 49
- ค. 59
- ง. 100
16. ผลบวกของจำนวนเต็มบวกสามจำนวนเรียงกันมีค่าไม่เกิน 72 จำนวนเต็มจะมีค่าได้อย่างมากที่สุดเท่าใด
- ก. 22
- ข. 23
- ค. 24
- ง. 25
17. ค่าของ เท่ากับข้อใด
- $$3\tan^2 30^\circ + \frac{4}{3}\cos^2 30^\circ - 4\cos^2 45^\circ - \frac{2}{3}\sin^2 60^\circ$$
- ก. -1
- ข. 1
- ค. $\frac{1}{2}$
- ง. $-\frac{1}{2}$
18. ประตูโค้งตั้งเก็บของแห่งหนึ่งกว้าง 4 เมตร และเปิดประตูได้กว้างเพียง 60 องศา จะนำตู้คอนเทนเนอร์ขนาดกว้างที่สุดเท่าไร ผ่านเข้าประตูนี้ได้
- ก. 2 เมตร



- ข. 2.4 เมตร
ค. 3.2 เมตร
ง. 3.5 เมตร
19. ถ้าต้องการล้อมรั้วบริเวณสี่เหลี่ยม เพื่อแบ่งบริเวณเลี้ยงม้าและวัวไม่ปะปนกัน ถ้าใช้รั้วไปทั้งหมด 354 เมตร และบริเวณล้อมรั้วมีความกว้าง 42 เมตร และพื้นที่ใช้เลี้ยงสัตว์ทั้งสองเท่ากับข้อใด
ก. 4,788 ตารางเมตร
ข. 4,446 ตารางเมตร
ค. 3,276 ตารางเมตร
ง. 2,394 ตารางเมตร
20. จาก $2^A = 5$, $5^B = 7$ และ $7^C = 32$ จงหา ABC
ก. 3
ข. 4
ค. 5
ง. 6
21. ในการแข่งขันยิมนาสติกแบบเป้าบินโดมยิง 6 ครั้ง ถูกเป้า 5 ครั้ง ก็นยิง 5 ครั้ง ถูกเป้า 4 ครั้ง และตั้งยิง 3 ครั้ง ถูกเป้า 2 ครั้ง ถ้านับจำนวนครั้งที่สามคนยิงได้ 897 ครั้ง แล้วจำนวนครั้งของคนที่ยิงถูกเป้ามามากที่สุดกับน้อยที่สุดต่างกันเท่าไร
ก. 60
ข. 65
ค. 70
ง. 75
22. แกงส์มซื้อกางเกงมาราคา 500 บาท แล้วขายให้โตโน่ขาดทุน 5% โตโน่ลองใส่แล้วไม่ถูกใจเลยนำไปขายต่อให้ริท ซึ่งถูกใจทั้งแบบและสี โตโน่ขายได้กำไร 12% โตโน่ขายกางเกงให้ริทในราคากี่บาท
ก. 530
- ข. 532
ค. 535
ง. 536
23. จงหาค่าของ $\frac{1}{\sqrt{3}} + \frac{1}{\sqrt{5}} - \frac{2}{\sqrt{3} + \sqrt{5} + \sqrt{18}}$ มีค่าเท่าไร
ก. $\sqrt{3}$
ข. $\sqrt{\frac{8}{15}}$
ค. $\sqrt{15}$
ง. $\sqrt{\frac{3}{15}}$
24. กำหนดให้ A และ B เป็นพหุนามโดย ห.ร.ม ของ A และ $B = x + 1$ ค.ร.น.ของ A และ $B = x^3 + 2x^2 - x - 2$ ถ้ากำหนดให้ $A = x^2 - 1$ จงหาค่า B
ก. $x^2 - 1$
ข. $x^2 + 1$
ค. $x^2 - 3x + 2$
ง. $x^2 + 3x + 2$
25. ข้อใดต่อไปนี้ถูกต้อง
ก. $-x^3y^2 + 2xy^2 = -\frac{x^2}{2}$
ข. $3x^2y + 3x^2y = 0$
ค. $(-8x^2y) \div (-8x^2y) = -1$
ง. $9a^2bc + 3bc = 6a^2$
26. มีรถเมล์หมายเลข 20 21 และ 22 วิ่งรับผู้โดยสารระหว่างบ้านกับโรงเรียนของฉัตร ฉัตรจะขึ้นรถเมล์ไปกลับระหว่างบ้านกับโรงเรียน ความน่าจะเป็นที่จะขึ้นรถเมล์ไปกลับไม่ซ้ำคันเดิมเป็นเท่าไร
ก. $\frac{1}{3}$
ข. $\frac{2}{3}$
ค. $\frac{7}{9}$
ง. $\frac{8}{9}$



- ง. โลกจะมีอุณหภูมิสูงตลอดเวลาและอุณหภูมิสูงเท่ากันทั่วโลก
6. แก๊สในข้อใดมีลักษณะไม่มีกลิ่น ไม่มีสี เกิดจากการเผาไหม้ไม่สมบูรณ์ของเชื้อเพลิงรวมตัวกับฮีโมโกลบินในเม็ดเลือดแดงได้ดีกว่าออกซิเจน ถ้ำร่างกายได้รับปริมาณมากจะเกิดอันตรายต่อร่างกาย
- ก. แก๊สซัลเฟอร์ไดออกไซด์
ข. แก๊สคาร์บอนไดออกไซด์
ค. แก๊สคาร์บอนมอนอกไซด์
ง. แก๊สไนโตรเจนไดออกไซด์
7. การเปลี่ยนแปลงรูปร่างของเซลล์ (Cell differentiation) เกิดขึ้นมากที่สุดที่ช่วงใดของการเจริญเติบโต
- ก. พืช เด็ก
ข. เด็ก ผู้ใหญ่
ค. เอ็มบริโอฝังตัวที่มดลูก
ง. เอ็มบริโอ พืช
8. สิ่งมีชีวิตในข้อใดที่มีความสัมพันธ์แบบภาวะพึ่งพากัน (mutualism)
- จุลินทรีย์ตรึงไนโตรเจนในปมรากถั่ว
 - สาหร่ายสีเขียวในเนื้อเยื่อปะการัง
 - ราที่เจริญอยู่บนรากพืชบางชนิด
 - โปรโตซัวอาศัยอยู่ในลำไส้ปลวก
- ก. 1, 2 และ 3 ข. 2, 3 และ 4
ค. 1, 2 และ 4 ง. 1, 2, 3 และ 4
9. ทำไมจึงนำโลหะผสมระหว่างตะกั่วกับดีบุกมาใช้ทำฟิวส์
- ก. เพราะหลอมได้ง่าย

- ข. เพราะดีบุกและฟิวส์นำไฟฟ้าได้ดี
- ค. เพราะโลหะผสมระหว่างตะกั่วกับดีบุกจะมีจุดหลอมเหลวต่ำ
- ง. เพราะโลหะผสมระหว่างตะกั่วกับดีบุกจะมีจุดหลอมเหลวสูง
10. ข้อใดคือสิ่งที่ไม่เคลิล พาราเดย์ เป็นผู้ค้นพบเกี่ยวกับไฟฟ้า
- ก. ผ่านกระแสไฟฟ้าเข้าไปในตัวนำ จะเกิดสนามแม่เหล็กรอบตัวนำนั้น
- ข. เคลื่อนตัวนำผ่านสนามแม่เหล็กเร็วๆ จะมีกระแสไฟฟ้าเกิดขึ้นในตัวนำนั้น
- ค. เมื่อผ่านกระแสไฟฟ้าเข้าไปในขดลวดที่เป็นวงกลม จะมีสนามแม่เหล็กเกิดภายในขดลวดวงกลมนั้น
- ง. เมื่ออุณหภูมิคงที่ ค่ากระแสไฟฟ้าที่ผ่านตัวนำอันหนึ่งจะเป็นปฏิภาคโดยตรงกับความต่างศักย์ระหว่างปลายทั้งสองข้างของตัวนำนั้น
11. การทดลองข้อใดที่ทำให้เกิดกระแสไฟฟ้า
- หมุนขดลวดตัดสนามแม่เหล็ก
 - หมุนแม่เหล็ก ให้สนามแม่เหล็กตัดขดลวด
 - พันแก๊สเข้าไปในสนามแม่เหล็ก
- ก. ข้อ 1 ข. ข้อ 2
ค. ข้อ 1 และ 2 ง. ข้อ 1, 2 และ 3
12. ข้อใดเป็นไปได้เกี่ยวกับการเกิดแฝดต่างไข่
- ก. ไข่ตกใบเดียว ผสมกับอสุจิ 2 ตัวได้แฝดเพศเดียวกัน
- ข. ไข่ตกมากกว่า 1 ใบ ผสมกับอสุจิ 1 ตัว ได้แฝดต่างเพศกัน
- ค. ไข่ตกมากกว่า 1 ใบ ผสมกับอสุจิมากกว่า 1 ตัวได้แฝดเพศเดียวกัน
- ง. ไข่ตกมากกว่า 1 ใบ ผสมกับอสุจิมากกว่า 1 ตัวได้แฝดต่างเพศกันเท่านั้น



13. ถ้าการรวมกันของยีนที่ติดบนโครโมโซมเป็นไปอย่างอิสระ สมมติให้ L เป็นยีนที่ควบคุมลักษณะมีเขาของวัวเป็นลักษณะเด่น และให้ l เป็นยีนที่ควบคุมลักษณะไม่มีเขาของวัวเป็นลักษณะด้อย ถ้านักเรียนผสมวัวที่มีเขาพันธุ์แท้กับวัวที่ไม่มีเขาพันธุ์แท้ ลูกที่ได้จากการผสมจะเป็นอย่างไร
- ได้ลูกวัวมีเขาทั้งหมด
 - ได้ลูกวัวไม่มีเขาทั้งหมด
 - ได้ลูกวัวมีเขาและไม่มีเขาอย่างละครึ่งๆ กัน
 - ได้ลูกวัวมีเขา 3 ส่วนไม่มีเขา 1 ส่วน

หน้า 5

14. เครื่องใช้ไฟฟ้าในตาราง ชนิดใดสิ้นเปลืองกระแสไฟฟ้ามากที่สุด

เครื่องใช้ไฟฟ้า	สัญลักษณ์ที่กำหนดอยู่
A	6V 2W
B	12 V 3 W
C	110 V 40 W
D	220 V 60 W

- A
 - B
 - C
 - D
15. เส้นลวดตัวนำในข้อใดมีความต้านทานมากที่สุด ถ้าทำด้วยโลหะชนิดเดียวกันหมด
- ยาว 10 ซม. พื้นที่หน้าตัด 0.03 ตร.ซม.
 - ยาว 10 ซม. พื้นที่หน้าตัด 0.02 ตร.ซม.
 - ยาว 15 ซม. พื้นที่หน้าตัด 0.02 ตร.ซม.
 - ยาว 15 ซม. พื้นที่หน้าตัด 0.01 ตร.ซม.
16. การที่แกนโลกเอียงทำมุม $23\frac{1}{2}$ องศา กับแนวตั้งฉากกับระนาบวงโคจรของโลกขณะโคจรรอบดวงอาทิตย์ทำให้เกิดปรากฏการณ์ทางธรรมชาติข้อใด

- ฤดูหนาว
 - สุริยุปราคา
 - น้ำขึ้นน้ำลง
 - จันทรุปราคา
17. ถ้าเครื่องใช้ไฟฟ้าในบ้านมีเตารีดกำลังไฟฟ้า 600 วัตต์ และเครื่องใช้ไฟฟ้าชนิดอื่นๆซึ่งใช้กระแสไฟฟ้ารวมกันประมาณ 3 แอมแปร์ (ไม่รวมเตารีด) บ้านหลังนี้ควรจะใช้ฟิวส์ขนาดเท่าใด
- ฟิวส์ที่ทนกระแสไฟฟ้าสูงสุด 5 แอมแปร์
 - ฟิวส์ที่ทนกระแสไฟฟ้าสูงสุด 7 แอมแปร์
 - ฟิวส์ที่ทนกระแสไฟฟ้าสูงสุด 12 แอมแปร์
 - ฟิวส์ที่ทนกระแสไฟฟ้าสูงสุดมากกว่า 3 แอมแปร์เล็กน้อย
18. ข้อความใดที่ใช้อธิบายวิถีของดวงจันทร์ในวันขึ้น 15 ค่ำ ได้ถูกต้องที่สุด
- ดวงจันทร์มีตำแหน่งอยู่กลางระหว่างโลกและดวงอาทิตย์ เวลาเที่ยงคืนดวงจันทร์มีตำแหน่งอยู่เหนือศีรษะ
 - โลกมีตำแหน่งอยู่กลางระหว่างดวงจันทร์และดวงอาทิตย์ เวลาเที่ยงคืนดวงจันทร์มีตำแหน่งอยู่เหนือศีรษะ
 - โลกมีตำแหน่งอยู่กลางระหว่างดวงจันทร์และดวงอาทิตย์ เวลาเที่ยงคืนดวงจันทร์มีตำแหน่งอยู่ทางขอบฟ้าด้านทิศตะวันตก
 - โลกมีตำแหน่งอยู่กลางระหว่างดวงจันทร์และดวงอาทิตย์ เวลาเที่ยงคืนดวงจันทร์มีตำแหน่งอยู่ทางขอบฟ้าด้านทิศตะวันออก
19. ที่ละติจูด 10 องศาเหนือ กลุ่มดาวในข้อใดที่ช่วยหาดำแหน่งดาวเหนือ



- ก. กลุ่มดาวจระเข้และกลุ่มดาวค่างควา
 ข. กลุ่มดาวค่างควาและกลุ่มดาวหมีเล็ก
 ค. กลุ่มดาวหมีเล็กและกลุ่มดาวนายพราน
 ง. กลุ่มดาวนายพรานและกลุ่มดาวจระเข้
20. แร่แมกนีไทต์ เป็นสารประกอบระหว่างธาตุชนิดใด
 ก. นิกเกิล และเหล็ก
 ข. เหล็ก และออกซิเจน
 ค. โคบอลต์ และออกซิเจน
 ง. โครเมียม และออกซิเจน
21. สารนิโคติน มีผลต่อร่างกายทางด้านใดมากที่สุด
 ก. กระตุ้นหัวใจให้เต้นแรงขึ้น
 ข. รับประทานอาหารได้มากขึ้น
 ค. อารมณ์ดี
 ง. ความดันโลหิตและเลือดไหลเวียนช้า
22. ยานขนส่งอวกาศแตกต่างจากจรวดอย่างไร
 ก. ยานขนส่งอวกาศลำเลียงดาวเทียมได้แต่จรวดทำไม่ได้
 ข. ยานขนส่งอวกาศไม่สามารถนำกลับมาใช้ได้อีก แต่จรวดทำได้
 ค. ยานขนส่งอวกาศสามารถนำดาวเทียมมาซ่อมได้ แต่จรวดทำไม่ได้
 ง. จรวดสามารถนำดาวเทียมกลับมาซ่อมได้ แต่ยานขนส่งอวกาศทำไม่ได้
23. หลังการออกกำลังกายอุณหภูมิในร่างกายจะสูงกว่าปกติ ร่างกายจะมีวิธีใดในการช่วยลดอุณหภูมิ
 ก. เพิ่มการขับเหงื่อเพื่อให้น้ำระเหยออกมา
 ข. เพิ่มอัตราเมแทบอลิซึมเพื่อให้มีการกำจัดเหงื่อมากขึ้น
 ค. หายใจเข้าออกอย่างรวดเร็วเพื่อระบายความร้อน
 ง. พักผ่อนมากๆ เพื่อให้ร่างกายปรับสภาวะสมดุลของระบบ
24. สารเสพติดชนิดใด ที่ทางการแพทย์นิยมนำมาใช้เพื่อบรรเทาอาการเจ็บปวดกรณีที่ใช้ทนความเจ็บปวดไม่ไหว
 ก. ฝิ่น
 ข. กัญชา
 ค. มอร์ฟีน
 ง. ทินเนอร์
25. ฝนกรดเกิดจากสาเหตุใด
 ก. ออกซิเจน + ไนโตรเจน
 ข. แก๊สในบรรยากาศ + น้ำ
 ค. ซัลเฟอร์ไดออกไซด์ + ออกซิเจน
 ง. ซัลเฟอร์ไดออกไซด์ + คาร์บอนไดออกไซด์
26. เพราะเหตุใดแสงขาวที่ผ่านออกจากแก้วปริซึม แก้วจึงปรากฏเป็นแสงสีแตกต่างกัน
 ก. เพราะอัตราเร็วของแสงแต่ละสีในแก้วมีอัตราเร็วเท่ากัน
 ข. เพราะอัตราเร็วของแสงแต่ละสีในแก้วมีอัตราเร็วต่างกัน
 ค. เพราะอัตราเร็วของแสงแต่ละสีในสุญญากาศมีอัตราเร็วเท่ากัน
 ง. เพราะอัตราเร็วของแสงแต่ละสีในสุญญากาศมีอัตราเร็วเท่ากันแต่ในแก้วอัตราเร็วของแสงแต่ละสีแตกต่างกัน
27. จะต้องใช้กระจกชนิดใดจึงจะทำให้เกิดภาพเสมือนที่มีขนาดใหญ่กว่าวัตถุ
 ก. กระจกนูน
 ข. กระจกโค้ง
 ค. กระจกเว้า
 ง. กระจกเงาราบ



28. ข้อใดเป็นสาเหตุที่ทำให้แผ่นเปลือกโลกมีการเคลื่อนที่

- ก. หินหนืดในชั้นแมนเทิล
- ข. หินแข็งในชั้นเปลือกโลก
- ค. แร่ธาตุต่างๆ ในแก่นโลกชั้นใน
- ง. แร่ธาตุต่างๆ ในแก่นโลกชั้นนอก

29. แร่ชนิดใดสามารถนำไปใช้ประโยชน์ได้โดยไม่ต้องนำไปถลุงก่อน

- ก. กาลีนา
- ข. รัตนชาติ
- ค. ฮีมาไทต์
- ง. แคลสซิเทอไรต์

พิจารณาจากตารางใช้ตอบคำถามข้อ 30 – 31

ชนิดของแร่	ความหนาแน่น (g/cm ³)
ทองคำ	15.00 - 19.00
เงิน	10.50
ฮีมาไทต์	5.30
ควอตซ์	2.65

30. แร่ที่กำหนดให้ชนิดใดมีความหนาแน่นสัมพัทธ์มากที่สุด

- ก. ทองคำ
- ข. ฮีมาไทต์
- ค. ควอตซ์
- ง. เงิน

31. แร่ที่นำมาถลุงแล้วเป็นหลักเป็นแร่ชนิดใด

- ก. ทองคำ
- ข. ฮีมาไทต์
- ค. ควอตซ์
- ง. เงิน

32. แผ่นเปลือกโลกที่รองรับทวีปออสเตรเลียและประเทศอินเดียคือแผ่นเปลือกโลกใด

- ก. แผ่นอเมริกา
- ข. แผ่นออสเตรเลีย
- ค. แผ่นอเมริกา
- ง. แผ่นแปซิฟิก

33. การแบ่งเซลล์แบบไมโทซิสมีความสำคัญต่อสิ่งมีชีวิตอย่างไร

- ก. ทำให้สิ่งมีชีวิตมีการลดจำนวนโครโมโซมลง
- ข. ทำให้สิ่งมีชีวิตมีการเพิ่มจำนวนโครโมโซมขึ้น

ค. ทำให้สิ่งมีชีวิตมีการเพิ่มปริมาณและขนาดของเซลล์ในร่างกาย

ง. ทำให้สิ่งมีชีวิตมีการเพิ่มปริมาณและขนาดของเซลล์สืบพันธุ์ในร่างกาย

34. เด็กชายคนหนึ่งผิวเผือก มีพ่อผิวปกติ และแม่ผิวปกติเด็กคนนี้ได้รับยีนผิวเผือกจากผู้ใด และโอกาสจะมีผิวเผือกร้อยละเท่าใด

- ก. พ่อ/ร้อยละ 100
- ข. แม่/ร้อยละ 50
- ค. พ่อและแม่/ร้อยละ 25
- ง. ปู่และพ่อ/ร้อยละ 25

35. คนสายตาสั้นเกิดจากอะไร

- ก. กระจกตาสั้น
- ข. เลนส์โค้งไม่เท่ากัน
- ค. ระยะโฟกัสของเลนส์ตาวาวกว่ากระจกตา
- ง. ระยะโฟกัสของเลนส์ตาสั้นกว่ากระจกตา

36. ข้อใดมีอัตราการแพร่เร็วที่สุด

- ก. สารละลายน้ำตาลเข้มข้น 20 เปอร์เซ็นต์ ในน้ำ 30 ลูกบาศก์เซนติเมตร

ข. สารละลายน้ำตาลเข้มข้น 30 เปอร์เซ็นต์ ในน้ำ 30 ลูกบาศก์เซนติเมตร

- ค. สารละลายน้ำตาลเข้มข้น 40 เปอร์เซ็นต์ ในน้ำ 30 ลูกบาศก์เซนติเมตร

ง. สารละลายน้ำตาลเข้มข้น 60 เปอร์เซ็นต์ ในน้ำ 30 ลูกบาศก์เซนติเมตร

- ก. สารละลายน้ำตาลเข้มข้น 20 เปอร์เซ็นต์ ในน้ำ 30 ลูกบาศก์เซนติเมตร

ข. สารละลายน้ำตาลเข้มข้น 30 เปอร์เซ็นต์ ในน้ำ 30 ลูกบาศก์เซนติเมตร

- ค. สารละลายน้ำตาลเข้มข้น 40 เปอร์เซ็นต์ ในน้ำ 30 ลูกบาศก์เซนติเมตร

ง. สารละลายน้ำตาลเข้มข้น 60 เปอร์เซ็นต์ ในน้ำ 30 ลูกบาศก์เซนติเมตร

ใช้ข้อมูลต่อไปนี้ตอบคำถามข้อ 37 - 38

สมชายทำการทดลองเติมสาร A ลงในน้ำที่มี อุณหภูมิ 30°C คนสาร A ให้ละลายในน้ำ แล้ววัด อุณหภูมิของสารละลาย ได้ผลดังตารางบันทึกผล การทดลองต่อไปนี้



ตาราง อุณหภูมิของสารละลาย A เมื่อเติมสาร A ใน ปริมาณที่แตกต่างกันลงในน้ำ

ปริมาณสาร A ที่เติม ลงในน้ำ (กรัม)	อุณหภูมิของสารละลาย A (°C)
10	35.0
20	37.5
30	40.0
40	42.5

37. จากข้อมูลข้างต้นปัญหาของการทดลองคืออะไร

- ก. อุณหภูมิของน้ำมีผลต่อปริมาณสาร A ที่ละลายได้ใน น้ำหรือไม่
- ข. ปริมาณสาร A ที่ละลายในน้ำมีผลต่ออุณหภูมิของ สารละลาย A หรือไม่
- ค. ถ้าปริมาณสาร A มีผลต่ออุณหภูมิของสารละลายแล้ว ดังนั้นเมื่อเพิ่มปริมาณสาร A ลงในน้ำ อุณหภูมิของ สารละลายจะเพิ่มขึ้น
- ง. ถ้าอุณหภูมิของน้ำมีผลต่อความสามารถในการละลาย ของสาร A ในน้ำแล้ว ดังนั้นเมื่อเพิ่มอุณหภูมิให้สูงขึ้น ปริมาณสาร A ที่ละลายได้ในน้ำจะเพิ่มขึ้น

38. จากตาราง ตัวแปรต้น และตัวแปรตามคือสิ่งใด ตามลำดับ

	ตัวแปรต้น	ตัวแปรตาม
ก.	ปริมาณสาร A ที่เติม ลงในน้ำ	อุณหภูมิของ สารละลาย A
ข.	อุณหภูมิของ สารละลาย A	ปริมาณสาร A ที่เติม ลงในน้ำ
ค.	ปริมาณสาร A ที่เติม ลงในน้ำ	ปริมาณน้ำ
ง.	ปริมาณน้ำ	อุณหภูมิของน้ำ

39. ด.ช.แดง อยากทราบว่าระหว่างอาหารปลา สำเร็จรูป และลูกน้ำ อาหารชนิดใดมีผลต่อสีของปลาทองมากกว่ากันเขา จะตั้งสมมติฐานว่าอย่างไร

- ก. ถ้าชนิดของอาหารมีผลต่อสีของปลา ดังนั้นปลาทอง ที่มีสีเข้มจะกินลูกน้ำ
- ข. ถ้าชนิดของอาหารมีผลต่อสีของปลาดังนั้น ปลาทอง ที่มีสีเข้มจะกินอาหารปลาสำเร็จรูป
- ค. ถ้าชนิดของอาหารมีผลต่อสีของปลาดังนั้นอาหาร ปลาสำเร็จรูปและลูกน้ำมีผลต่อสีของปลา
- ง. ถ้าชนิดของอาหารมีผลต่อสีของปลา ดังนั้นปลา ทองที่กินลูกน้ำจะมีสีเข้มกว่าปลาทองที่กินอาหารปลา สำเร็จรูป

40. ด.ญ.ไก่อเปลี่ยนอาหารสุนัขที่เคยให้ตามปกติหลังจากที่สุนัข กินอาหารชนิดใหม่ 2 วัน พบว่าสุนัขมีอาการท้องเสียจำนวน 3 ตัว จากสุนัข 7 ตัวถ้าต้องการศึกษาสาเหตุของการที่ทำให้ สุนัข ท้องเสีย อะไรคือตัวแปรตาม

- ก. ชนิดของอาหาร
- ข. ปริมาณของอาหาร
- ค. จำนวนสุนัขทั้งหมด
- ง. จำนวนสุนัขที่ท้องเสีย



ตัวอย่างข้อสอบ

คัดเลือกเข้าศึกษาระดับชั้นมัธยมศึกษาปีที่ 4

โรงเรียนวินิตศึกษา ในพระราชูปถัมภ์ฯ

วิชา สังคมศึกษา – ภาษาไทย – ภาษาอังกฤษ



วิชาสังคมศึกษา จำนวน 30 ข้อ (1 – 30)

1. การเผยแผ่พระพุทธศาสนาของพระพุทธเจ้ากระทำโดยวิธีใด
 - ก. จารึกลงบนใบลาน
 - ข. จดบันทึกเป็นลายลักษณ์
 - ค. จารึกลงบนศิลา
 - ง. มุขปาฐะ
2. สมชาติต้องการที่จะผูกมิตรกับสมหญิง สมชาติควรจะนำหลักธรรมพุทธศาสนา ในข้อใดมาใช้ในการผูกมิตร
 - ก. พรหมวิหาร 4
 - ข. สังคหวัตถุ 4
 - ค. อริยสัจ 4
 - ง. ปธาน 4
3. พระพุทธรูปใดที่ได้รับการยกย่องจากพระพุทธเจ้าให้เป็นอัครสาวกเบื้องขวาและเป็นผู้มีปัญญามาก
 - ก. พระอานนท์
 - ข. พระอัญญาโกณฑัญญะ
 - ค. พระสารีบุตร
 - ง. พระโมคคัลลานะ
4. วิธีการคิดตามแนวโยนิโสมนสิการแบบสามัญมีลักษณะการคิดแบบใด
 - ก. คิดในเรื่องเพื่อฝัน
 - ข. คิดแต่เรื่องที่เป็นความจริง
 - ค. คิดในเรื่องที่เป็นปัจจุบัน
 - ง. คิดแต่เรื่องที่ร้ายแรง
5. บุคคลท่านใดที่ไม่เคยเป็นนายกรัฐมนตรีของประเทศไทย
 - ก. จอมพลสฤษดิ์ ธนะรัชต์ จอมพลผิน ชุณหะวัณ
 - ข. จอมพลถนอม กิตติขจร จอมพลป. พิบูลสงคราม
 - ค. จอมพลประภาส จารุเสถียร พลตำรวจเอกเผ่า ศรียานนท์
 - ง. นายชวน หลีกภัย นายควง อภัยวงศ์
6. คุณสมบัติของผู้เป็น คณะกรรมการเลือกตั้งกับรัฐมนตรี ข้อใดที่มีคุณสมบัติเหมือนกัน
 - ก. อายุไม่ต่ำกว่า 35 ปีบริบูรณ์ – สำเร็จการศึกษาไม่ต่ำกว่าปริญญาตรีหรือเทียบเท่า
 - ข. ไม่มีลักษณะต้องห้ามตามรัฐธรรมนูญมาตรา 109 – เป็นสมาชิกสภาผู้แทนราษฎร
 - ค. มีสัญชาติไทยโดยกำเนิด – ไม่เป็นสมาชิกวุฒิสภา
 - ง. ไม่เป็นผู้ตรวจราชการแผ่นดินของรัฐสภา – ไม่เคยต้องโทษพิพากษาให้จำคุกตั้งแต่ 2 ปีขึ้นไป โดยพ้นโทษ มายังไม่ถึง 2 ปี ก่อนได้รับการแต่งตั้ง
7. การถ่วงดุลอำนาจอธิปไตยมีประโยชน์ในข้อใดมากที่สุด
 - ก. เพื่อป้องกันการลิดรอนเสรีภาพของประชาชน
 - ข. เพื่อไม่ให้มีการรวมศูนย์อำนาจไว้ที่อำนาจใดอำนาจหนึ่ง
 - ค. สามารถตรวจสอบซึ่งกันและกันได้
 - ง. ทำให้ไม่มีอำนาจใดมีสถานะเหนือกว่าอำนาจอื่น
8. ปัญหาเด็กติดเกมเป็นหน้าที่ของสถาบันใดในการแก้ไข
 - ก. สถาบันครอบครัว
 - ข. สถาบันการศึกษา
 - ค. สถาบันเศรษฐกิจ
 - ง. ถูกทั้ง ก และ ข



9. ประชาชนผู้มีสิทธิเสนอกฎหมายต้องมีคุณสมบัติตามข้อใด

- ก. อยู่ระหว่างถูกเพิกถอนสิทธิเลือกตั้งมีชื่ออยู่ในทะเบียนบ้านในเขตเลือกตั้ง
- ข. วิกลจริตหรือจิตฟั่นเฟือน ไม่สมประกอบ มีชื่ออยู่ในทะเบียนบ้านในเขตเลือกตั้ง
- ค. มีสัญชาติไทย อายุไม่ต่ำกว่า 18 ปี มีชื่อในทะเบียนบ้านในเขตเลือกตั้ง
- ง. เป็นภิกษุ สามเณร นักพรต หรือนักบวช

10. พระราชหัตถเลขาของพระบาทสมเด็จพระปกเกล้าเจ้าอยู่หัว ความเป็นว่า

“ข้าพเจ้ามีความเต็มใจที่จะสละอำนาจอันเป็นของข้าพเจ้าอยู่แต่เดิมให้แก่ราษฎรโดยทั่วไป แต่ข้าพเจ้าไม่ยินยอมยกอำนาจทั้งหลายของข้าพเจ้าให้แก่ผู้ใด คณะใดโดยเฉพาะ...” ข้อความข้างต้น สอดคล้องกับหลักของการปกครองในระบอบประชาธิปไตยข้อใดมากที่สุด

- ก. หลักการมีส่วนร่วมทางการเมืองของประชาชน
- ข. หลักการกระจายอำนาจทางการปกครอง
- ค. หลักการปฏิรูปทางการเมือง และการปกครอง
- ง. หลักการแบ่งอำนาจทางการเมืองให้แก่ประชาชน

เศรษฐศาสตร์

11. ระบบเศรษฐกิจที่มีเอกชนเป็นผู้ดำเนินการหากมีรัฐบาลเป็นเพียงผู้สนับสนุนและอำนวยความสะดวกเท่านั้น คือข้อใด

- ก. ระบบเศรษฐกิจแบบผสม
- ข. ระบบเศรษฐกิจแบบทุนนิยม
- ค. ระบบเศรษฐกิจแบบคอมมิวนิสต์
- ง. ระบบเศรษฐกิจแบบสังคมนิยม

12. ถ้าสินค้าชนิดหนึ่ง มีคู่แข่งที่เหมือนกันเกือบทุกประการ ทั้งวัตถุดิบ แหล่งผลิต คุณภาพสินค้า และราคา ควรจะแข่งขันกันด้านใดเพื่อจูงใจผู้บริโภค โดยที่ธุรกิจก็สามารถดำเนินต่อไปได้ด้วยดี

- ก. มีของแถมเยอะๆ
- ข. ลดราคาแข่งขัน
- ค. บริการหลังการขาย
- ง. ผิดทุกข้อ

13. หากบริษัทประสบปัญหาขาดสภาพคล่องทางการเงิน สิ่งใดที่ควรทำเป็นอันดับสุดท้ายเพื่อรักษาขวัญกำลังใจของบุคลากรในบริษัท

- ก. ลดต้นทุน
- ข. ปลดพนักงานออก
- ค. ตัดรายจ่ายที่ไม่จำเป็น
- ง. งดโบนัส



14. ในแต่ละปีประเทศไทยสามารถผลิตข้าวได้เพียงพอกับการบริโภคในประเทศและยังส่งไปยังต่างประเทศ
ข้อความข้างล่างนี้ข้อใดถูกต้องที่สุด
- ก. ประสบปัญหาผลิตข้าวเกินความต้องการ
 - ข. ประสบปัญหาพื้นฐานทางเศรษฐกิจ ว่าต้องการผลิตอะไร ผลิตอย่างไร และผลิตเพื่อใคร
 - ค. ไม่ประสบปัญหาการผลิตข้าวแต่ชาวนาขาดปัญหาการขาดอำนาจในการต่อรองสินค้าราคาข้าว
 - ง. ไม่ประสบปัญหาพื้นฐานทางเศรษฐกิจ ว่าต้องผลิตอย่างไร ผลิตอะไร และผลิตเพื่อใคร
15. ปัญหาการว่างงานเกิดจากสาเหตุต่อไปนี้ ยกเว้นข้อใด
- ก. เศรษฐกิจโลกอยู่ในภาวะตกต่ำ
 - ข. ผู้ประกอบการในประเทศลดการผลิตลง
 - ค. ประชากรในวัยทำงานเพิ่มจำนวนมากขึ้นกว่างาน
 - ง. รัฐบาลมีนโยบายส่งเสริมการสร้างอาชีพให้แก่ประชาชน
16. การแก้ปัญหาเงินเฟ้อ อาจทำได้โดยวิธีการใด
- ก. เพิ่มอัตราดอกเบี้ย เพิ่มอัตราภาษี เพิ่มการใช้จ่ายของรัฐบาล
 - ข. เพิ่มอัตราดอกเบี้ย เพิ่มอัตราภาษี ลดการใช้จ่ายของรัฐบาล
 - ค. ลดอัตราดอกเบี้ย ลดอัตราภาษี เพิ่มการใช้จ่ายของรัฐบาล
 - ง. ลดอัตราดอกเบี้ย ลดอัตราภาษี ลดการใช้จ่ายของรัฐบาล
17. เพราะเหตุใดจึงต้องมีการกำหนดราคาขั้นต่ำ
- ก. เพราะปริมาณสินค้ามีมากเกินความต้องการ
 - ข. เพราะปริมาณสินค้าไม่เพียงพอกับความต้องการของตลาด
 - ค. เพราะผู้บริโภคต้องการสินค้ามากขึ้น
 - ง. เพราะตลาดต้องการสินค้ามากขึ้น
18. ยุคที่มนุษย์เริ่มรู้จักทำเครื่องใช้จากหิน นำไฟมาใช้หุงต้มอาหารและนำหนังสัตว์มาทำเป็นเครื่องนุ่งห่ม คือ
ยุคสมัยใด
- ก. ยุคหินใหม่
 - ข. ยุคหินเก่า
 - ค. ยุคหินกลาง
 - ง. ยุคสำริด
19. ระบบเจ้าภาษี นายอากรในสมัยต้นรัตนโกสินทร์ มีลักษณะสำคัญอย่างไร
- ก. รัฐและเอกชนร่วมกันกำหนดชนิดของสินค้าที่ต้องเสียภาษี
 - ข. รัฐตั้งหน่วยงานเพื่อดำเนินการจัดเก็บภาษีโดยตรง
 - ค. รัฐให้ชาวจีนเป็นผู้เก็บภาษีสินค้านำเข้าจากต่างประเทศ
 - ง. รัฐให้เอกชนเข้ามาประมูลเพื่อเป็นตัวแทนจัดเก็บภาษี



28. แหล่งปลูกข้าวสาลีที่สำคัญของโลกในทวีปอเมริกาเหนืออยู่ที่ใด
- เขตที่ราบแพรีในประเทศแคนาดา
 - เขตเทือกเขาสูงทางด้านทิศตะวันตก
 - เขตที่ราบลุ่มน้ำแม่น้ำแมกแคนซี
 - ที่ราบลุ่มแม่น้ำมิสซิสซิปปี-มิสซูรี
29. ปริมาณและคุณค่าของทรัพยากรธรรมชาติเสื่อมโทรมลงและเกิดภาวะมลพิษเป็นความเสื่อมโทรมที่เกิดจากสิ่งแวดล้อมทางกายภาพข้อใด
- วัฒนธรรมและความเป็นอยู่ของประชากรในท้องถิ่น
 - สภาพเศรษฐกิจและการประกอบอาชีพของประชากรในท้องถิ่น
 - การกระทำของประชากรในท้องถิ่น
 - การตั้งถิ่นฐานที่หนาแน่นของประชากรในท้องถิ่น
30. การเกิดมลภาวะโลกร้อนประเทศไทยสามารถมีส่วนร่วมในการแก้ไขปัญหาเหล่านั้นได้โดยวิธีการใด จึงจะมีประโยชน์มากที่สุด
- ลดการใช้สารสเปรย์ในอุตสาหกรรมต่างๆ
 - ลดขนาดของการก่อสร้างสาธารณูปโภคต่างๆ ให้เล็กลง
 - ลดอัตราการใช้เครื่องจักรกล
 - ลดปัญหาเรื่องไฟไหม้ป่าลง

วิชาภาษาไทย 30 ข้อ (31 – 60)

31. ข้อใดเป็นคำ 2 พยางค์ทั้งหมด
- | | |
|---------------------|-------------------|
| ก. บทมัลย์ บรรษัท | ข. ปรัมปรา ปราชัย |
| ค. ภาคทัณฑ์ ภูมิจาน | ง. โทมัส ทรนง |
32. คำในข้อใดที่เป็นคำมูลทั้ง 2 คำ
- | | |
|------------------------|----------------------|
| ก. อะไหล่ , มะละกอ | ข. ตู๋เย็น , กระดาน |
| ค. ม้านั่ง , บ้านเรือน | ง. แม่เหล็ก , แม่ทัพ |
33. ข้อใดที่ไม่ใช่คำมูล
- | | |
|--------------------|------------------|
| ก. มะละกอ กัลปังหา | ข. มะระ มะม่วง |
| ค. ธุรการ กิจกรรม | ง. ขรุขระ อวัยวะ |
34. จงพิจารณาข้อความต่อไปนี้ว่าคำใดที่เป็นคำประสม
- “ พวกนักศึกษาบางคนตาขวาก็พากันไปขอโทษเขา ”
- | | |
|-------------|--------------|
| ก. นักศึกษา | ข. ตาขวา |
| ค. ขอโทษ | ง. ถูกทุกข้อ |



35. ข้อใดมีเสียงโทมากที่สุด (ไม่นับคำซ้ำ)
- ก. แม่รักลูกลูกก็รู้ยู่ว่ารัก ข. คนอื่นสักหมื่นแสนไม่แมนเหมือน
ค. จะกินนอนนอนว่าเมตตาเดือน ง. จะจากเรือนร้างแม่ไปแต่ตัว
36. ข้อใดมีเสียงวรรณยุกต์ครบทั้ง 5 เสียง
- ก. รังนกนึ่งนำชด ข. โอซารสกว่าทั้งปวง
ค. นกพราวจากรังรวง ง. เหมือนเรียนร้างห่างห้องหวน
37. ข้อใดเป็นวรรณคดีสุภาพิตคำสอน
- ก. พระราชนิพนธ์สิบสองเดือน ข. โคลงโลกนิติ
ค. ลิลิตตะเลงพ่าย ง. มหาชาติคำหลวง
38. วรรณคดีเรื่องใดที่นำไปใช้ในการแสดงที่แตกต่างจากเรื่องอื่น
- ก. สังข์ทอง ข. ไกรทอง
ค. ไชยเชษฐ์ ง. รามเกียรติ์
39. ข้อใดเป็นวรรณคดีท้องถิ่น
- ก. เงาะป่า ข. สามก๊ก
ค. พญาางพญาพาน ง. เวนิซวานิช
40. ข้อใดเป็นวรรณคดีลายลักษณ์
- ก. พระอภัยมณี ข. รามเกียรติ์
ค. อิเหนา ง. เจ้าแม่ลิ้มกอเหนี่ยว
41. ข้อใดใช้ภาพพจน์อุปลักษณ์
- ก. เรไรจักจั่นสนั่นเสียง เพราะเพียงดนตรีปีไฉน
ข. น้ำเงินคือเงินยวง ชาวพรายช่วงสี่สำอาง
ค. ระฆังดั่งวังเวง โห่งห่างแห่งแก่งก่างดัง
ง. หลงระเริงคู่หวิวพลีวระลอก สัพยอกยอดไม้ไปลิ่วลวง
42. คำในข้อใดที่เป็นภาษาสันสกฤตทั้งหมด
- ก. กุหลาบ ฟีน อุ่น ข. วิทยา สัตย์ อักษร
ค. กัณหา สักขี หัตถ์ ง. สาวก ปัญญา ภิกขุ
43. คำในข้อใดที่เป็นคำในภาษาบาลีทั้งหมด
- ก. ขณะ ถาวร วัตถุ ข. วิเชียร เสถียร ชำนาญ
ค. ชูลี นิสัย บรรจง ง. ถูกทุกข้อ



44. ข้อใดเป็นคำประสมระหว่างคำนาม+คำนามทั้งหมด
- ก. หมอนวด นักร้อง เตียนนอน ข. แกงไก่ แม่น้ำ น้ำปลา
ค. บ้านนอก นางใน ภาคใต้ ง. น้ำหวาน ข้าวสวย กล้วยหอม
45. คำในข้อใดที่เป็นคำสนธิทุกคำ
- ก. ลูกคิด บ้านเช่า พ่อคุณ ชัดคอ ข. โสดา มะพร้าว ตะไคร้ บันได
ค. ราโชวาท วิทยาลัย ธันวาคม คมนาคม ง. ยุ่งยาก เรียบร้อย ฟั้นฟู ฟ้อนรำ
46. เขาซื้อด้ายสาย.....เพื่อไปทำพิธี
- ก. สีน ข. ศิลป์
ค. สีญจน์ ง. ถูกทุกข้อ
47. ข้อใดอ่านไม่ถูกต้องตามหลักการอ่าน
- ก. นิคหิต อ่านว่า นิ - คะ - หิต ข. วิตถาร อ่านว่า วิต - ตะ - ถาน
ค. นักษัตร อ่านว่า นัก - สัต ง. ทิฐิ อ่านว่า ทิต - ถิ
- พิจารณาข้อความดังต่อไปนี้ ตอบคำถามข้อ 48 - 49
- 1) ทิฐิ อ่านว่า ทิต - ถิ
 - 2) สรณะ อ่านว่า สร - ระ - นะ
 - 3) อาสาหบูชา อ่านว่า อา - सा - ระ - หะ - บู - ชา
 - 4) ขนิษฐา อ่านว่า ขะ - นิต - ถา
 - 5) วิรุฬหก อ่านว่า วิ - รุณ - หก
 - 6) ตลกขบขัน อ่านว่า ตะ - หลก - ขบ - ขัน
 - 7) เมรุมาศ อ่านว่า เม - รุ - มาศ
 - 8) สมัชชา อ่านว่า สะ - หมัด - ชา
48. ข้อใดอ่านออกเสียงได้ถูกต้อง
- ก. ข้อ 2, 3, 4, 6, และ 7 ข. ข้อ 2, 3, 5, 6 และ 8
ค. ข้อ 1, 2, 5, 6, และ 8 ง. ข้อ 1, 4, 5, 6, และ 7
49. ข้อใดอ่านออกเสียงแบบคำสมาส
- ก. ข้อ 2 ข. ข้อ 5
ค. ข้อ 7 ง. ข้อ 2 และ ๕
50. ถ้าเธอขยันอ่านหนังสือ เธอก็จะสอบผ่าน
- ก. ประโยคความเดียว ข. ประโยคความรวม
ค. ประโยคความซ้อน ง. ประโยคแสดงเงื่อนไข



51. ฉันทำการบ้านภาษาไทยที่ครูสั่งวันนี้
ก. ประโยคความเดียว ข. ประโยคความรวม
ค. ประโยคความซ้อน ง. ประโยคแสดงเงื่อนไข
52. คนไทยส่วนใหญ่นับถือศาสนาพุทธ
ก. ประโยคความเดียว ข. ประโยคความรวม
ค. ประโยคความซ้อน ง. ประโยคแสดงเงื่อนไข
53. ลงพระปรมาภิไธย หมายถึงอะไร
ก. เขียนจดหมาย ข. ลงชื่อ
ค. แต่งหนังสือ ง. ถูกทุกข้อ
54. คำบาลีสันสกฤตข้อใดอ่านออกเสียง “อะ” ทุกคำ
ก. วิตถาร ครุฑ อิศตรี ข. สกถ ดาษตีน เอิกเกริก
ค. คคนางค์ รัตนะ อุตริ ง. วุฒิ ดาษดา กรีธา
55. “ไทยธรรม” อ่านออกเสียงอย่างไร และเป็นการออกเสียงคำแบบใด
ก. ไทยธรรม อ่านว่า ไท – ทำ ออกเสียงแบบคำสมาส
ข. ไทยธรรม อ่านว่า ไท – ทำ ออกเสียงแบบอักษรนำ
ค. ไทยธรรม อ่านว่า ไท – ยะ – ทำ ออกเสียงแบบคำสมาส
ง. ไทยธรรม อ่านว่า ไท – ยะ – ทำ ออกเสียงแบบอักษรนำ
56. ข้อใดไม่ได้อ่านตามอักษรนำทุกคำ
ก. สมาคม สมานฉันท์ สมรรถภาพ ข. ขยุกขยิก ขยะแขยง ขมุกขมัว
ค. ริชยา ศาสนา สุจริต ง. บัญญัติ ดิเรก อุตริ
57. ข้อใดมีคำ “ประ” วิสรรชนีย์ไม่ถูกต้องทุกคำ
ก. มะระ ระริก สะตือ สะเนียด ข. มะละกอ ระบำ ฉะฉาน ชะลอม
ค. ชะเอม ตระหนี่ อะตอม ละออง ง. ละมับ กระบะ ซากุระ ละมุนละไม
58. ข้อใดสะกดถูกต้องทุกคำ
ก. เทวนิยม สะไ้ อธิปไตย อุปมัณธ์ ข. คัมภีร์ กรั้มม์ ระเบียบ แพทรกแซง
ค. ระบำ พลาสติก พม่า เผ่าพันธ์ ง. อะลูมิเนียม มะม่วง สั้งซ์ อุปถัมภ์
59. ข้อใดใช้เครื่องหมายทัณฑฆาตไม่ถูกต้อง ๒ คำ
ก. เปอร์เซนต์ ผลลัพธ์ เผ่าพันธ์ ข. บาทบงส์ รามเกียรติ์ สวามีภักดี
ค. อายุเยาว์ ผูกพันธ์ สำอางค์ ง. อานิสงส์ ศิษย์ ราคาเยาว์



16. I met a celebrity _____ chance in the book store.

- a) by b) on c) over d) from

17. Which sentence is incorrect ?

- a) The number of months in a year is twelve.
b) Two miles is too long for me to run in a day.
c) There are many fresh fish in the market.
d) Fifty dollars are too much to pay for this dress.

18. The wedding party started at nine o'clock, _____?

- a) wasn't is b) didn't it c) doesn't is d) isn't it

19. What do you want to do _____ your birthday?

- a) of b) at c) on d) in

20. The meeting has been *put off* until April. It has been _____.

- a) managed b) delayed c) changed d) chosen

21. Our classroom must _____ tomorrow.

- a) be painting b) be painted c) painted d) paint

22. Teenagers who love to dance spend hours there. People in their twenties and thirties, who enjoy the music and who like to dance, find discos the place to be. Everyone likes the disco's up atmosphere. Lively discos attract many people.

What is the main idea of this paragraph?

- a) Teenagers who love dance spend hours there.
b) People in 20s & 30's find discos the place to be.
c) Everyone likes "up" atmosphere.
d) Lively discos attract many people.

23. While Sak was walking along the road, he picked up the purse on the ground and decided to take it to the police station. A woman on the sidewalk shout at Sak angrily and then she ran after him. Sak was very afraid. The woman ran after Sak because

-
- a) she didn't know Sak
b) she thought Sak was a thief.
c) Sak ran away from the police.
d) Sak didn't give her some money.



24. Peter _____ lives at the next door told me to bring you this book _____ you had asked him for.
a) who, that b) who, what c) whom, what d) whom, which
25. Pim is certainly not _____ Ploy.
a) intelligent b) most intelligent
c) more intelligent d) so intelligent as
26. If you want to be a teacher. What the faculty you should be admission for studying?
a) engineering b) Nurse c) Education d) Humanity
27. Lily hates people who always _____ on the others.
a) look down b) look forward c) look up d) look through
28. You must _____ a helmet while you're driving a motorbike.
a) put away b) put out c) put on d) put in
29. _____ of money from their parents either on a special occasion.
a) Most children expect usually small gifts
b) Most children usually expect small gifts
c) Small gifts usually expected by children
d) Gifts expected usually by small children
30. Which one is the meaning of “ **island** ” ?
a) the people who live near the river.
b) the land with water all around it.
c) the land with forests.
d) the people who live in the forest.
31. What is the meaning of the word
“ **inventor** ” ?
a) a person who is not a child.
b) a person who is clever.
c) a person who is the first to get ideas to do something.
d) a person who is a leader in politics.
32. _____ this high heels matches with your dress _____ that boots.
a) not only but also b) both and
c) neither nor d) either or



33. _____ Sarah _____ James are going to New York next week.
a) not only but also b) both and
c) neither nor d) either or
34. _____ ,I pour the tea and _____ I eat the cake.
a) First / then b) Next / later
c) After that / then d) Next / then
35. Your friend says, "I prefer pop music to rock." You reply, "....."
a. So do I b. Me neither c. I like it d. I don't like it

Directions: Read the passage and choose the best answer

Brasilia has problems as a city. The city was made for half a million people. Now about two million people live in Brasilia. The poor people live in **slums** outside the city, like in other Brazilian cities. It is hot in the center of Brazil, and there are few trees in the new city. There aren't too many people outside in the streets. Some of the streets are very wide. They are really for cars. It is not easy for people to cross the streets.

36. How many people live in Brasilia ?
a) about 20,000 people b) about 200,000 people
c) about 2,000,000 people d) about 20,000,000 people
37. How many people that suitable for this city?
a) about five thousand people b) about fifteen thousand people
c) about fifty thousand people d) about five hundred thousand people
38. How is the weather in the center of Brazil ?
a) snowy b) rainy c) sunny d) foggy
39. The word slums means.....
a) the best places for the poor people.
b) the bad housings where poor people live.
c) the suitable places for the poor people.
d) the luxurious housings where poor people live.
40. Which is **Not True** about Brazil ?
a) People can cross the street easily.
b) The center of Brazil is hot.
c) There are not too much trees in Brasilia.
d) The streets are very wide.

“ อพฺยาศุณฺณํ สุกฺโข โลเก ”
การช่วยกันเป็นสุขในโลก

โรงเรียนวินิตศึกษา ในพระราชูปถัมภ์ฯ

เลขที่ ๑๐ ถนนเพชรราชา ตำบลท่าหิน อำเภอเมืองลพบุรี จังหวัดลพบุรี

โทรศัพท์ ๐๓๖-๔๑๑๒๓๕ โทรสาร ๐๓๖-๔๒๑๐๘๘

Website: <http://winitsuksa.ws.ac.th>



Website



Facebook

